



موضوع:

تاریخ:

نام و نام خانوادگی:

هدف:

۱۱- با توجه به شکل زیر پاسخ بدهید.

الف) مساحت مستطیل بزرگ را به دست آورید.

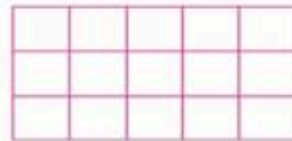
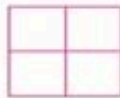

ب) مساحت مستطیل کوچک را به دست آورید.

ج) مساحت مستطیل بزرگ چند برابر مساحت مستطیل کوچک است؟




۱۲- کلاسی ۳ پنجره و هر پنجره ۴ شیشه دارد اگر طول هر شیشه ۲ متر و عرضش ۱ متر باشد چند مترمربع شیشه لازم است؟

۱۳- برای مساحت هریک از شکلهای زیر یک تساوی ضرب بنویسید.



۱۴- اگر مساحت شکل مقابل ۵۴ سانتیمتر مربع باشد عرض آن چند سانتی متر است؟



۱۵- مادر مهین می خواهد برای رومیزی خودش که به شکل مستطیل است روبان بخرد. اگر طول

رومیزی ۷ سانتی متر و عرض آن ۴ سانتیمتر باشد، او چند متر روبان نیاز دارد؟

۱۶- طول و عرض یک اتاق به ترتیب ۷ و ۵ متر است. می خواهیم آن را با ۲ موکت به طول

۴ متر و عرض ۳ متر فرش کنیم. چند مترمربع از اتاق بدون فرش می ماند؟

بازخورد:

Blank lines for student feedback.

