

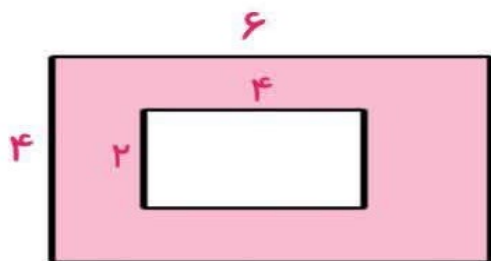


نام و نام خانوادگی: \_\_\_\_\_ تاریخ: \_\_\_\_\_ موضوع: \_\_\_\_\_ هدف: \_\_\_\_\_

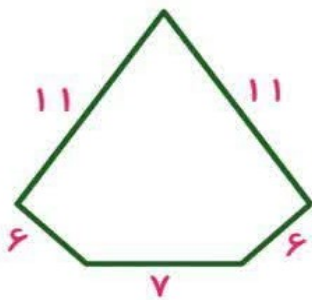
محیط و مساحت شکل های زیر را بدست آورید .



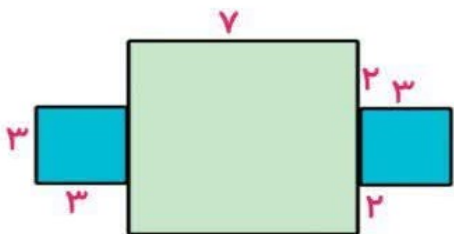
محیط = \_\_\_\_\_  
مساحت = \_\_\_\_\_



مساحت قسمت رنگی = \_\_\_\_\_



محیط = \_\_\_\_\_



مساحت = \_\_\_\_\_



بازخورد:

\_\_\_\_\_

\_\_\_\_\_

\_\_\_\_\_



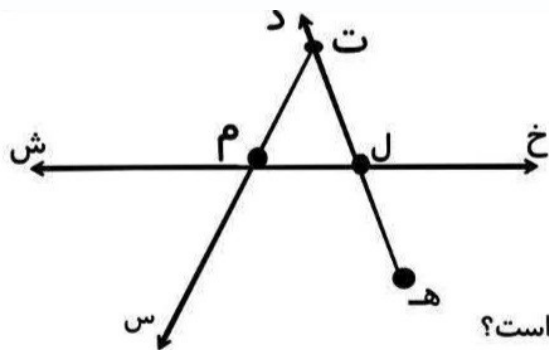


موضوع:

تاریخ

نام و نام خانوادگی

هدف:



با توجه به شکل پاسخ دهید:

دو پاره خط نام ببرید:

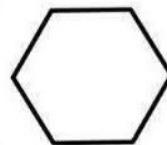

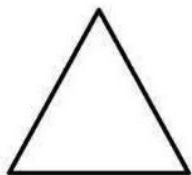
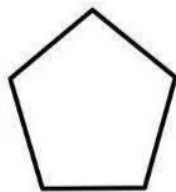
یک خط راست نام ببرید:

سه نیم خط نام ببرید:

از برخورد چند پاره خط شکل وسط ایجاد شده است؟

نام شکل ایجاد شده را بنویسید:

شکلهای زیر را نام گذاری و سپس بنویسید:



شکلی بکشید که در آن دو خط راست و سه پاره خط و دو نیم خط وجود داشته باشد:

بازخورد:

Handwritten feedback area with a dashed border and horizontal lines.

