


مقایسه‌ی عددها

فعالیت



۱- به کمک شکل، دو عدد داده شده را با هم مقایسه کنید.
توضیح دهید که چگونه دو عدد را مقایسه کردید. اول هزارتایی‌ها را با هم مقایسه کردیم چون برابر بودند به صدتایی‌ها نگاه کردیم که سمت چپ بیشتر بود *



$$2111 > 2047$$

۲- برای مقایسه‌ی دو عدد ۳۴۳۱ و ۳۴۲۵، ابتدا آن‌ها را با حذف رقم‌های یکان، دهگان و صدگان (و قرار دادن صفر به جای آن‌ها) بنویسید و مقایسه کنید.

$$3000 = 3000$$

$$2400 = 2400$$

$$3430 > 3420$$

دو عدد را با حذف رقم‌های یکان و دهگان بنویسید و مقایسه کنید.
دو عدد را با حذف رقم‌های یکان بنویسید و مقایسه کنید.

کدام یک از حالت‌ها مناسب‌تر است؟ چرا؟ حالت سوم - چون دو عدد هزارتایی و صدتایی یکسانی دارند و ده‌تایی آن‌ها فرق می‌کند *



۳- برای مقایسه‌ی دو عدد ۲۸۵۷ و ۳۰۴۴، آن‌ها را با حذف رقم‌های یکان، دهگان و صدگان بنویسید.

$$2000 < 3000$$

آیا با همین اولین تقریب می‌توانید دو عدد را مقایسه و عبارت «۳۰۴۴» \circ «۲۸۵۷» را کامل کنید؟ چرا؟


بله - چون رقم هزار عدد با هم تفاوت دارند




کار در کلاس




۱- عددی را که هر شکل نشان می‌دهد، در کنار آن بنویسید. سپس عددها را با هم مقایسه کنید. روش مقایسه‌ی خود را برای هم‌کلاسی‌تان توضیح دهید.



۱۲۴۶ > ۱۲۴۴



۳۲۱۲ > ۲۴۱۱



۴۳۲۱ > ۴۳۱۶



ه	ص	د	ی
۷	۵	۰	۱

۷۵۰۱ > ۷۴۹۸

ه	ص	د	ی
۷	۴	۹	۸

۲- عددهای هر سطر را به ترتیب از کوچک به بزرگ بنویسید.

۴۰۱۰ ۴۰۰۰ ۴۰۲۰ ۴۰۰۸ ۴۰۰۵ - ۴۰۰۸ - ۴۰۱۰ - ۴۰۲۰
 ۱۳۱۸ ۱۳۱۵ ۱۳۱۳ ۱۳۱۶ ۱۳۱۹ ۱۳۱۳ - ۱۳۱۵ - ۱۳۱۶ - ۱۳۱۸ - ۱۳۱۹

انجام بده

ضلع‌های مثلث‌های زیر را اندازه بگیرید.

مثلثی که سه ضلع آن برابرند، **متساوی‌الاضلاع** نام دارد. ضلع‌های آن را به رنگ سبز کنید. مثلثی که دو ضلع (ساق) برابر دارد، **متساوی‌الساقین** نام دارد. ضلع‌های آن را به رنگ آبی کنید.

