



موضوع:

تاریخ:

نام و نام خانوادگی:

هدف:



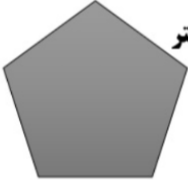

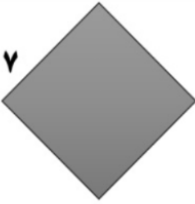

تاریخ:/...../۱۴.....

به نام خدا

نام و نام خانوادگی:

کاربرگ فصل پنجم محیط و مساحت (سوالات محیط)

۱- دانش آموز عزیزم محیط شکل های زیر را با استفاده از روش ضرب و جمع پیدا کنید.

| | |
|--|---|
| <p>۸ سانتی متر</p>  <p>روش ضرب:</p> <p>روش جمع:</p> | <p>۹ سانتی متر</p>  <p>روش ضرب:</p> <p>روش جمع:</p> |
| <p>۴ سانتی متر</p>  <p>روش ضرب:</p> <p>روش جمع:</p> | <p>۳ سانتی متر</p>  <p>روش ضرب:</p> <p>روش جمع:</p> |
| <p>۷ سانتی متر</p>  <p>روش ضرب:</p> <p>روش جمع:</p> | <p>۶ سانتی متر</p>  <p>روش ضرب:</p> <p>روش جمع:</p> |





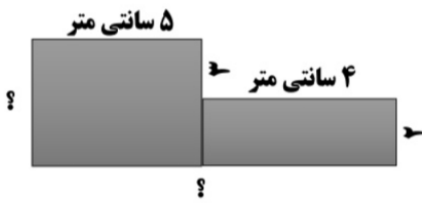
موضوع:

تاریخ:

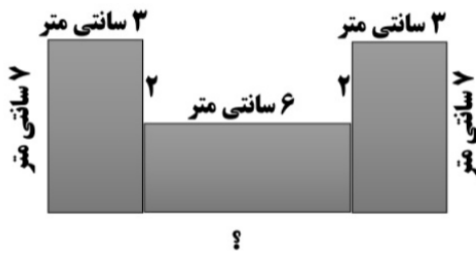
نام و نام خانوادگی:

هدف:

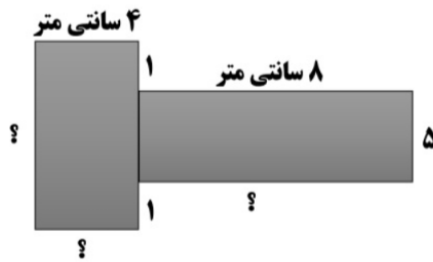
۳- نازنینم با توجه به اندازه ی ضلع های داده شده ، طول ضلع های نامشخص را پیدا کنید و با نوشتن جمع محیط هر شکل را پیدا کنید.



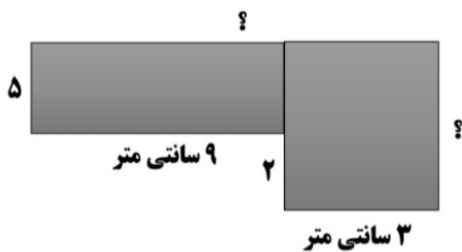
محیط شکل :



محیط شکل :



محیط شکل :



محیط شکل :

Blank lines for writing answers.

