

تمرینات و بازی امروز  
۱۷ اسفند در کلاس ریاضی

پرسش ضرب

به صورت بازی

در کلاس های آنلاین



## عاملین ضرب رو پیدا کنید

$3 \times 5$	$4 \times 4$	$1 \times 6$	$9 \times 5$	$2 \times 6$	$2 \times 5$	$4 \times 4$
$7 \times 6$	$5 \times 6$	$10 \times 4$	$6 \times 6$	$8 \times 5$	$5 \times 5$	$8 \times 6$
$3 \times 4$	$5 \times 5$	$2 \times 5$	$3 \times 4$	$5 \times 4$	$3 \times 4$	$7 \times 6$
$7 \times 6$	$7 \times 4$	$10 \times 5$	$4 \times 5$	$9 \times 6$	$3 \times 6$	$10 \times 6$
$7 \times 5$	$2 \times 6$	$6 \times 4$	$7 \times 6$	$1 \times 4$	$4 \times 4$	$10 \times 5$
$1 \times 5$	$2 \times 4$	$10 \times 4$	$9 \times 4$	$9 \times 6$	$8 \times 4$	$4 \times 6$
$10 \times 6$	$8 \times 6$	$6 \times 5$	$3 \times 6$	$3 \times 6$	$9 \times 6$	$8 \times 5$

۳۶

۱۴

۵۶

۳۰

۴۸

۱۲

۲۸

۴۹

۲۱

۵۴

۴۲

۱۸

۲۴

۴۲

۳۵

۶۳

۲۴	۳۲	۴۰	۴۸	۲۴	۳۲	۴۰	۴۸
۱۸	۳۶	۴۵	۲۷	۱۸	۳۶	۴۵	۲۷
۱۶	۵۶	۶۴	۷۲	۱۶	۵۶	۶۴	۷۲
۸۱	۷۲	۶۳	۵۴	۸۱	۷۲	۶۳	۵۴

## راه رو مثل من برو

اعداد جا افتاده را طوری بنویس که تساوی‌ها برقرار باشد (مثل نمونه عمل کن). در آخرین ایستگاه، باید جمع یکی از ضرب‌ها را بنویسی.

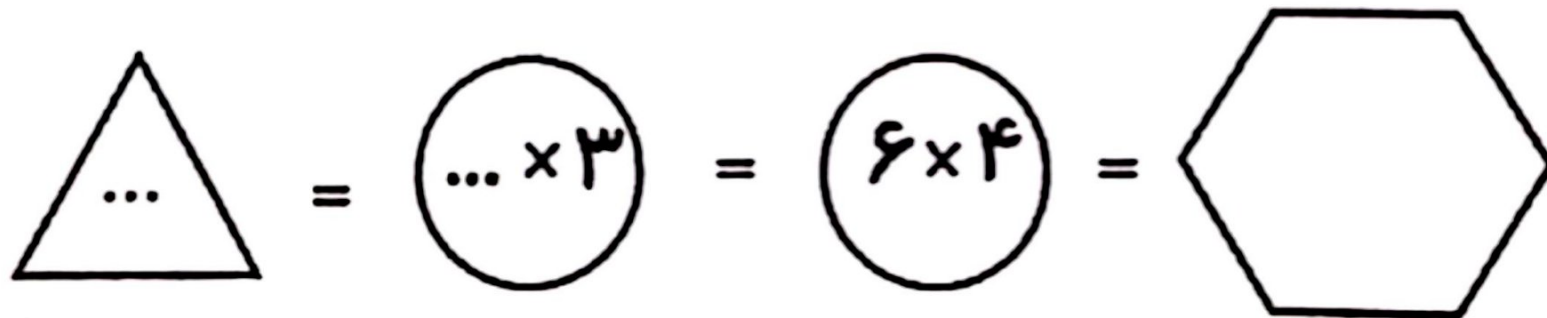
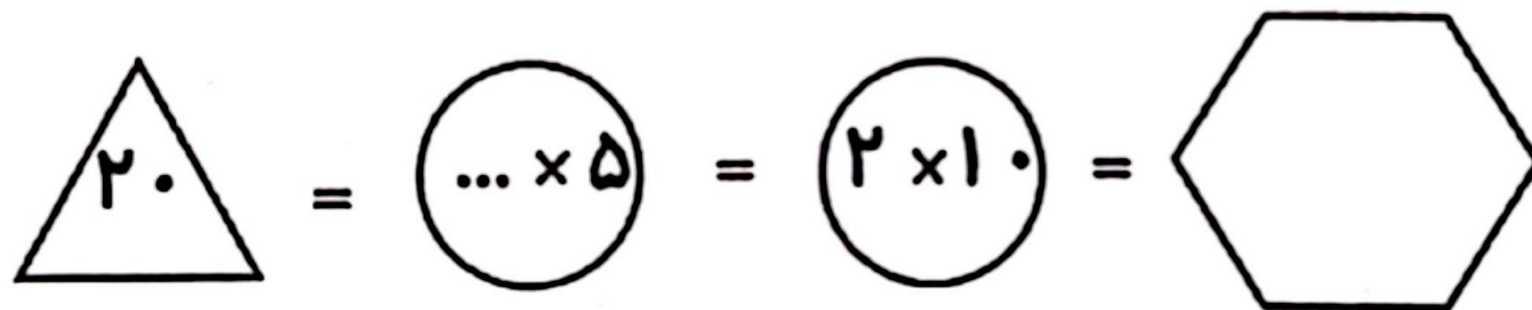
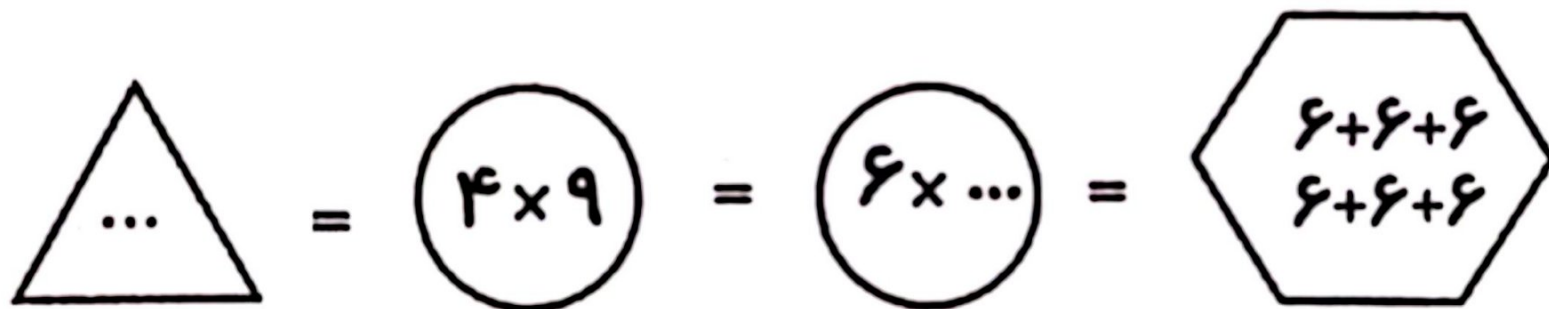
آغاز

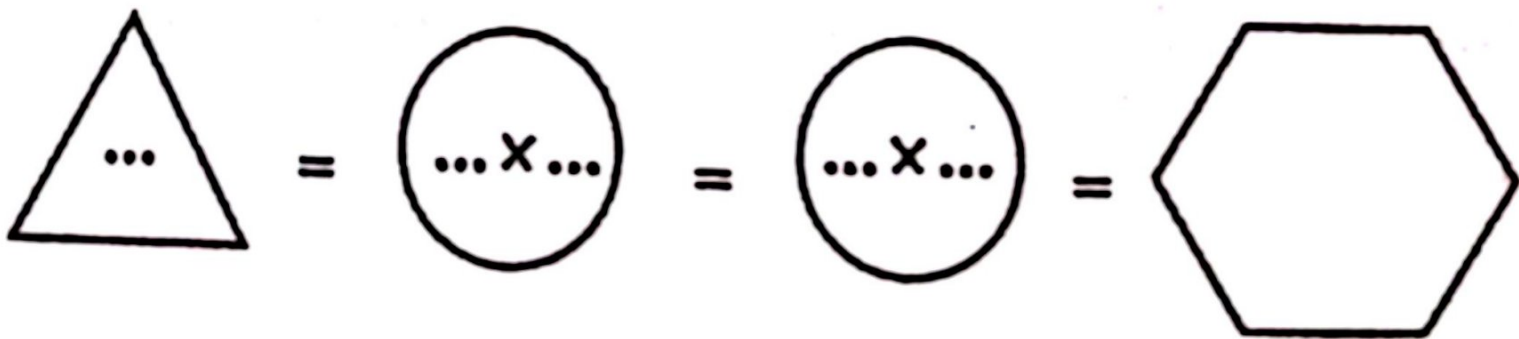
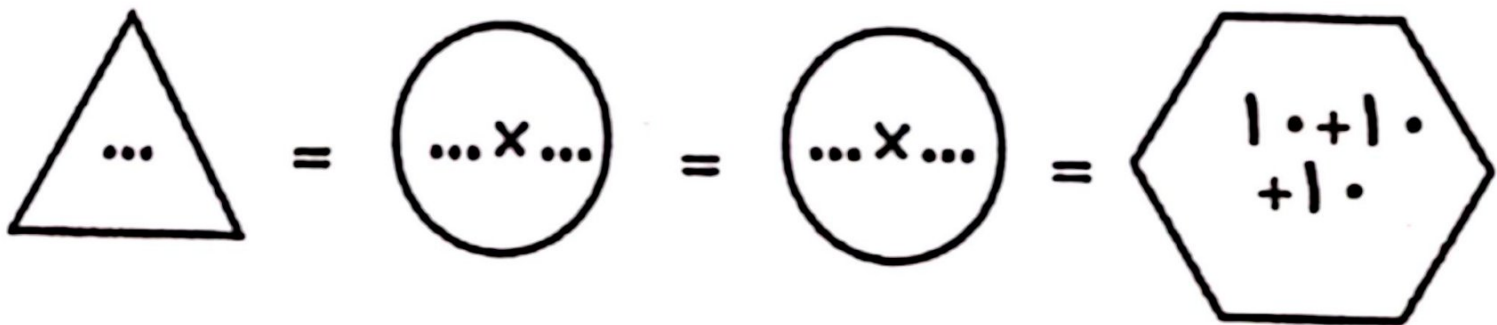
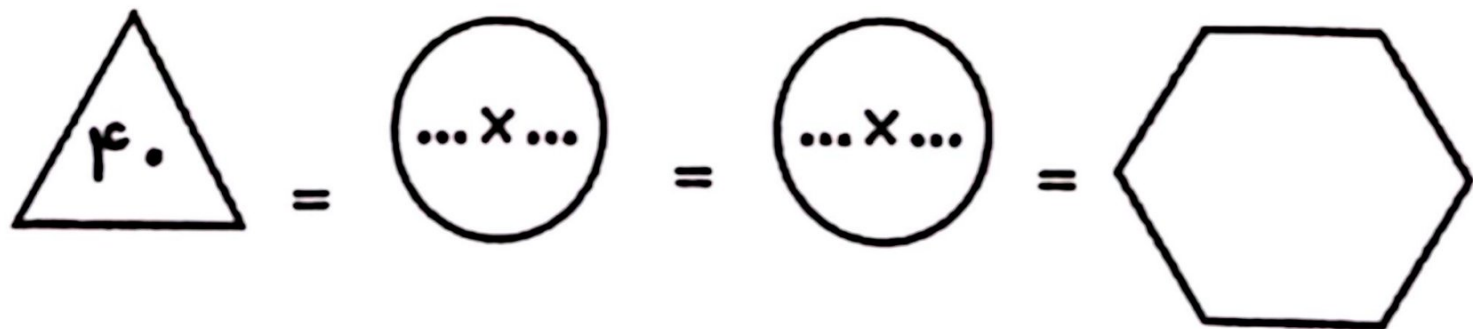
مثال


پایان

$12 = 3 \times 4 = 2 \times 6 = 6 + 6$

$\dots = \dots \times 10 = 2 \times 5 = 5 + 5$







Nazarca.com

