



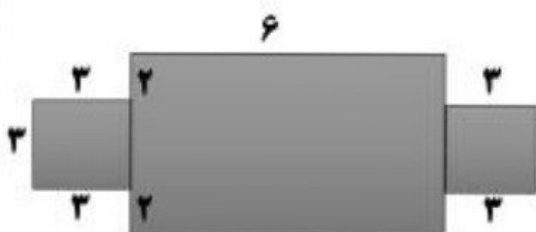
موضوع:

تاریخ:

نام و نام خانوادگی:

هدف:

۲- دانش آموز عزیزم مساحت شکل های ترکیبی زیر را پیدا کنید.

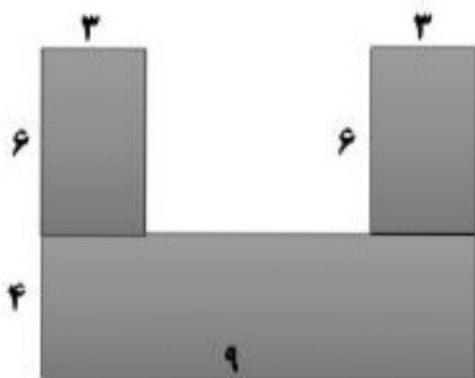


۱ مساحت شکل :

۲ مساحت شکل :

۳ مساحت شکل :

مساحت کل شکل :

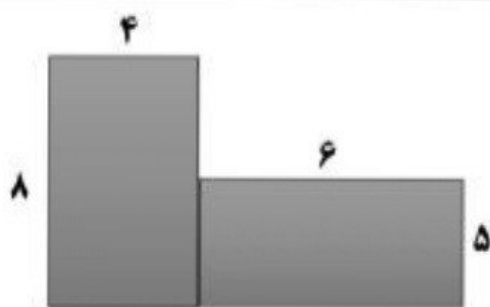


۱ مساحت شکل :

۲ مساحت شکل :

۳ مساحت شکل :

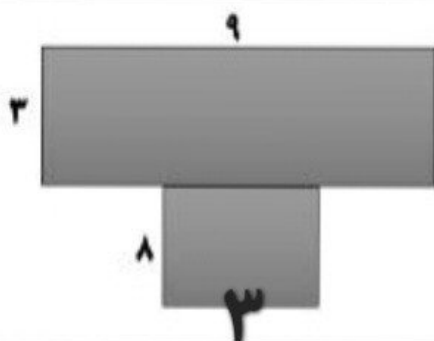
مساحت کل شکل :



۱ مساحت شکل :

۲ مساحت شکل :

مساحت کل شکل :



۱ مساحت شکل :

۲ مساحت شکل :

مساحت کل شکل :