

نمونه سوال ریاضی



علوی

بنام خداوند جان و خرد

پایه:
سوم



موضوع: جمع و تفریق

تاریخ

نام و نام خانوادگی

هدف: مرور جمع و تفریق تکنیکی

۱۴۰۴/۱۲/۱۸

جمع و تفریق های زیر را در دفتر بنویسید و به روش تکنیکی به دست آورید.

$$\begin{array}{r} 5060 \\ - 2027 \\ \hline \end{array}$$

$$\begin{array}{r} 4000 \\ - 1468 \\ \hline \end{array}$$

$$\begin{array}{r} 6094 \\ + 1707 \\ \hline \end{array}$$

$$\begin{array}{r} 3789 \\ + 1253 \\ \hline \end{array}$$

پاسخ تکلیف مربوط به جمع و تفریق فرآیندی

$$\begin{array}{r}
 + \quad 4562 \\
 \hline
 + \quad 3126 \\
 \hline
 7688 \\
 \hline
 + \quad 7562 \\
 \hline
 + \quad 126 \\
 \hline
 7688 \\
 \hline
 + \quad 7662 \\
 \hline
 + \quad 26 \\
 \hline
 7688 \\
 \hline
 + \quad 7682 \\
 \hline
 + \quad 6 \\
 \hline
 7688
 \end{array}$$

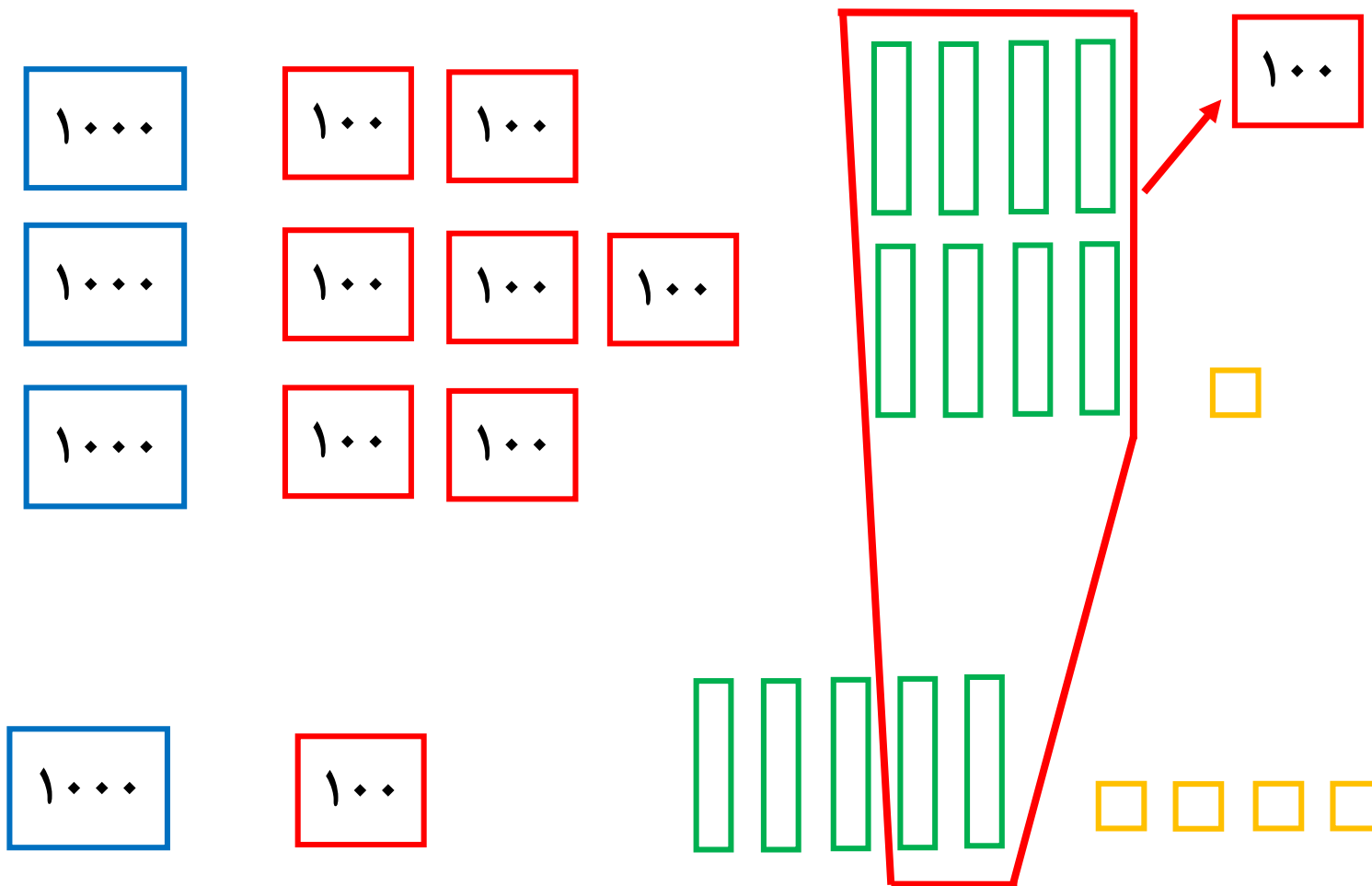
$$\begin{array}{r}
 + \quad 5923 \\
 \hline
 + \quad 1014 \\
 \hline
 6937 \\
 \hline
 + \quad 6923 \\
 \hline
 + \quad 14 \\
 \hline
 6937 \\
 \hline
 + \quad 6933 \\
 \hline
 + \quad 4 \\
 \hline
 6937
 \end{array}$$

$$\begin{array}{r}
 - \quad 8429 \\
 \hline
 - \quad 3217 \\
 \hline
 5212 \\
 \hline
 - \quad 5429 \\
 \hline
 - \quad 217 \\
 \hline
 5212 \\
 \hline
 - \quad 5229 \\
 \hline
 - \quad 17 \\
 \hline
 5212 \\
 \hline
 - \quad 5219 \\
 \hline
 - \quad 7 \\
 \hline
 5212
 \end{array}$$

$$\begin{array}{r}
 - \quad 9638 \\
 \hline
 - \quad 3307 \\
 \hline
 6331 \\
 \hline
 - \quad 6638 \\
 \hline
 - \quad 307 \\
 \hline
 6331 \\
 \hline
 - \quad 6338 \\
 \hline
 - \quad 7 \\
 \hline
 6331
 \end{array}$$

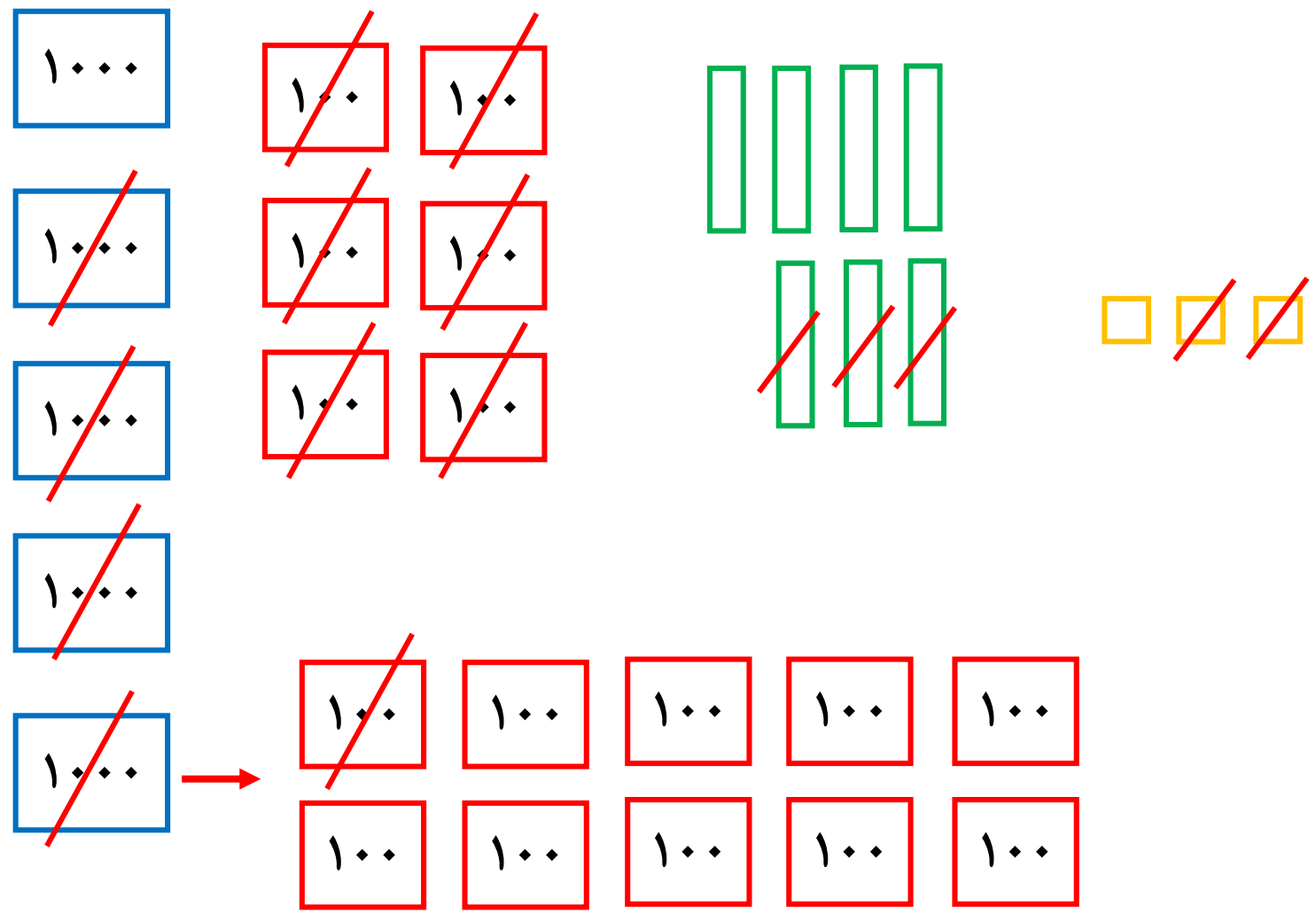
(۱) حاصل جمع زیر را با کشیدن شکل به دست آورید.

$$\begin{array}{r}
 ۳۷۸۱ \\
 + ۱۱۵۴ \\
 \hline
 ۴۹۳۵
 \end{array}$$



(۲) حاصل تفریق زیر را با کشیدن شکل به دست آورید.

$$\begin{array}{r} 5673 \\ - 3732 \\ \hline 1941 \end{array}$$

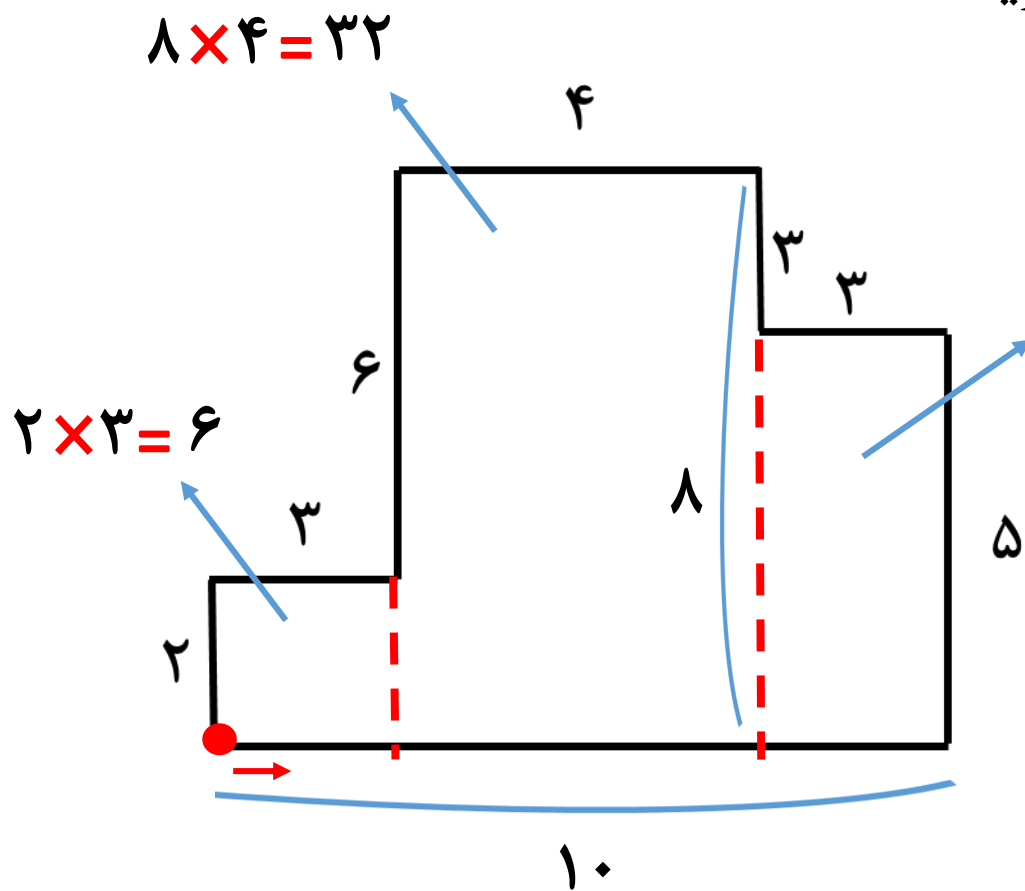


۳) حاصل جمع و تفریق های زیر را به روش تکنیکی به دست آورید.

$$\begin{array}{r} \overset{6}{\cancel{7}} \overset{2}{\cancel{3}} \overset{1}{\cancel{0}} \\ - 4204 \\ \hline 2826 \end{array}$$

$$\begin{array}{r} 5003 \\ + 2988 \\ \hline 7991 \end{array}$$

۴) محیط و مساحت شکل های زیر را به دست آورید.



$$3 \times 5 = 15$$

$$\text{مساحت شکل: } 15 + 16 + 6 = 37$$

$$\text{محیط شکل: } 10 + 5 + 3 + 3 + 4 + 6 + 3 + 2 = 36$$