


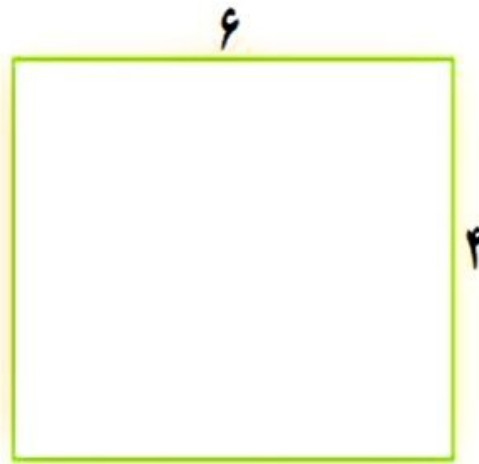
کامل کن



$$\text{محیط مستطیل} = 4 + 3 + 4 + 3 = 14$$

$$\text{محیط مستطیل} = (2 \times 4) + (2 \times 3) = 8 + 6 = 14$$

محیط مستطیل را به دو صورت به دست آورید.



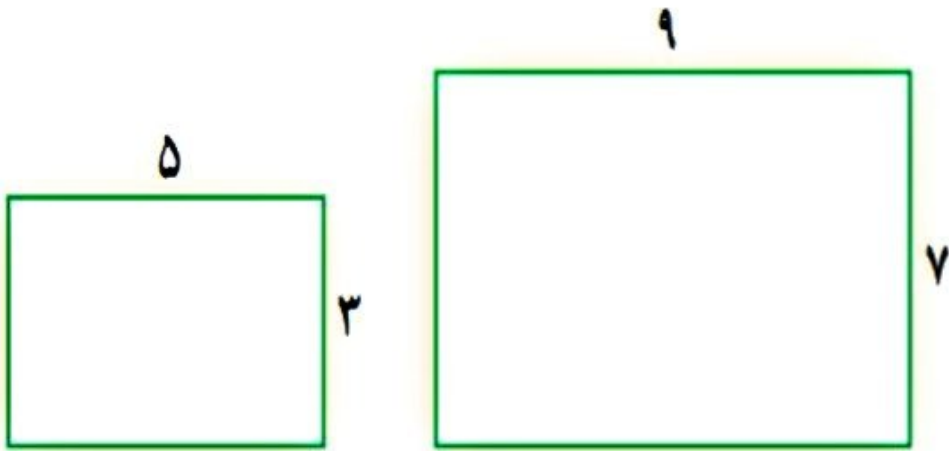
$$\text{محیط مستطیل} = 6 + 4 + 6 + 4 = 20$$

$$\text{محیط مستطیل} = (2 \times 6) + (2 \times 4) = 12 + 8 = 20$$



کامل کن

محیط مستطیل‌ها را با نوشتن رابطه‌ی آن‌ها به دست آورید.



$$\text{محیط مستطیل} = 2 \times \text{طول} + 2 \times \text{عرض} = (2 \times 9) + (2 \times 7) = 32$$
$$\text{محیط مستطیل} = (2 \times 5) + (2 \times 3) = 16$$



## تمرین



۱- در یک باغ ۱۱۴۳ درخت پرتقال و ۱۸۵ درخت نارنگی کاشته شده است. این باغ چند درخت دارد؟

$$\begin{array}{r} 1143 \\ + 185 \\ \hline 1328 \end{array}$$

این باغ روی هم 1328 درخت دارد.



$$\begin{array}{r} 1700 \\ + 4350 \\ \hline 6050 \end{array}$$

۲- هاجر ۱۷۰۰ تومان و سارا ۴۳۵۰ تومان پول دارند. پول این دو نفر روی هم چقدر است؟

این دو نفر روی هم 6050 تومان پول دارند.

۳- در یک شهر ۳۸۴۵ دانش آموز پسر و ۳۷۵۱ دانش آموز دختر درس می خوانند. این شهر چند دانش آموز دارد؟

این شهر روی هم 7596 دانش آموز دارد.



$$\begin{array}{r} 3845 \\ + 3751 \\ \hline 7596 \end{array}$$

۴- حاصل جمع ها را به دست آورید.

$$\begin{array}{r} 4030 \\ + 2107 \\ \hline \end{array}$$

6137

$$\begin{array}{r} 4789 \\ + 1351 \\ \hline \end{array}$$

6140

$$\begin{array}{r} 7025 \\ + 1801 \\ \hline \end{array}$$

8826

$$\begin{array}{r} 6002 \\ + 1899 \\ \hline \end{array}$$

✓ 7901

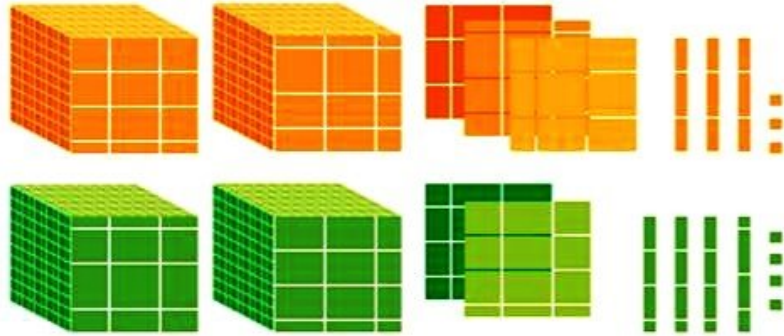


## کار در کلاس

با توجه به شکل‌ها، جمع‌ها را انجام دهید یا برای جمع‌های داده شده شکل بکشید.




$$\begin{array}{r} 2222 \\ + 2244 \\ \hline \end{array}$$



4 5 7 7

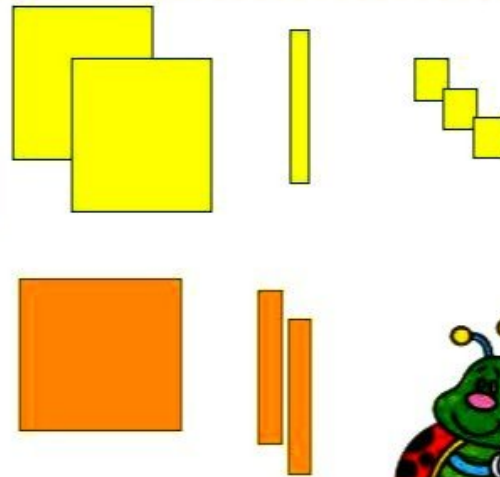
$$\begin{array}{r} 1357 \\ + 1391 \\ \hline \end{array}$$

2748



$$\begin{array}{r} 2013 \\ + 1020 \\ \hline \end{array}$$

3033



## تفریق در جدول ارزش مکانی

### فعالیت

۱- حمید ۶۶۴۷ ریال در قلک خود پول داشت. او ۲۳۲۵ ریال از پول هایش برداشت.  
حالا چقدر پول دارد؟



ی	د	ص	هـ
۷	۴	۶	۶
۵	۲	۳	۲
2	2	3	4



چند سکه‌ی ۱ ریالی دارد؟

چند سکه‌ی ۱۰ ریالی دارد؟

چند سکه‌ی ۱۰۰ ریالی دارد؟

چند سکه‌ی ۱۰۰۰ ریالی دارد؟



۲- حمید ۴۳۲۲ ریال در قلکش داشت. این هفته ۱۱۵۰ ریال از آن برداشت و خرج کرد.

حالا چقدر پول دارد؟

ی	د	ص	هـ
۲	۲	۳	۴
۰	۵	۱	-۱
2	7	1	3

2

حمید چند سکه‌ی ۱ ریالی دارد؟

خیر، زیرا 2 سکه دارد.

آیا می‌تواند از سکه‌های ۱۰ ریالی خود ۵ تا بردارد؟

اگر ۱ سکه‌ی ۱۰۰ ریالی را با ۱۰ سکه‌ی ۱۰ ریالی عوض کند، چند سکه‌ی ۱۰ ریالی خواهد داشت؟

12 تا

7

حالا ۵ تا از سکه‌های ۱۰ ریالی را برمی‌دارد؛ چند سکه‌ی ۱۰ ریالی می‌ماند؟

با توجه به اینکه یک سکه‌ی ۱۰۰ ریالی را برای تعویض با سکه‌های ۱۰ ریالی داده است، چند سکه‌ی ۱۰۰ ریالی

2 تا

برایش می‌ماند؟

3 تا

چند سکه‌ی ۱۰۰۰ ریالی دارد؟

۲- با توجه به شکل، تفریق را در جدول ارزش مکانی انجام دهید.

ی	د	ص	هـ
4	4	3	3
2	3	1	2
2	1	2	1

