



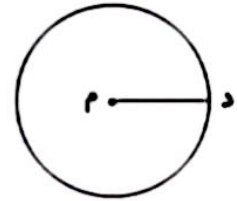
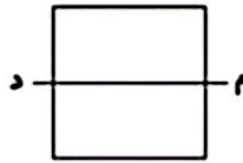
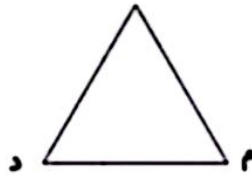
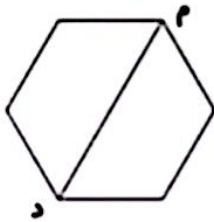
موضوع: قطر، انواع خط، محیط و مساحت

تاریخ:

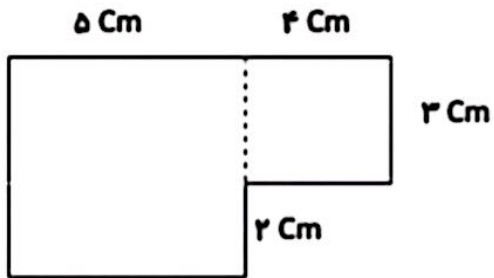
نام و نام خانوادگی:

هدف: مرور فصل ۵

۱- پاره خط (م د) در هر شکل چه نام دارد؟


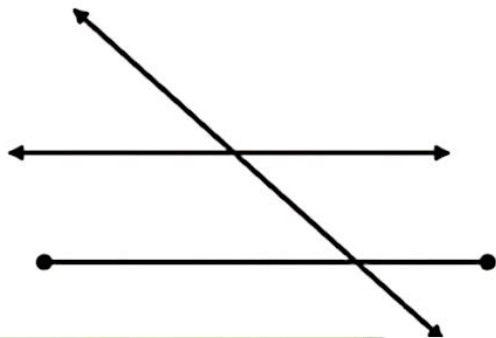


۲- مساحت و محیط شکل های زیر را به دست آورید.



۳- مریم می خواهد دور رومیزی که طول آن ۱۰۰ سانتی متر و عرض آن ۵۰ سانتی متر است، تور بدوزد او به چند متر تور نیاز دارد؟

۴- تعداد پاره خط، نیم خط و خط راست را در شکل زیر مشخص کنید.

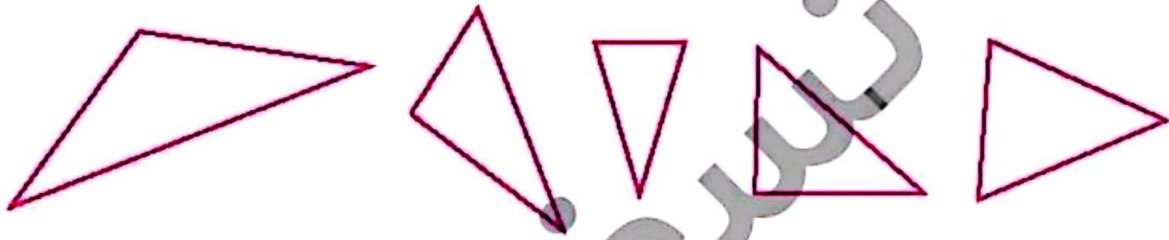




مثلثی که دو ساق (ضلع) برابر دارد، مثلث متساوی الساقین نام دارد.



مثلثهای متساوی الساقین را تشخیص داده و رنگ کن.



فعالیت کلاسی



۱ عدد هر شکل را کنار آن بنویس و بعد عددها را با هم مقایسه کن. ($<$, $=$, $>$) (هر مکعب نشان دهنده عدد ۱۰۰۰ است.)



۲ دو عدد ۷۲۴۲ و ۷۲۶۹ را در حالت‌های زیر با هم مقایسه کن.

الف: با حذف رقم یکان، دهگان و صدگان

ب: با حذف رقم یکان و دهگان

پ: با حذف رقم یکان

۳ اشکان در کیش یک ۵۰۰۰ تومانی، یک ۲۰۰۰ تومانی و یک ۱۰۰۰ تومانی دارد. اشکان کدام یک از مبلغ‌های زیر را

نمی‌تواند با اسکناس‌هایش بپردازد؟

۴) ۷۰۰۰ تومان

۳) ۶۰۰۰ تومان

۲) ۴۰۰۰ تومان

۱) ۲۰۰۰ تومان

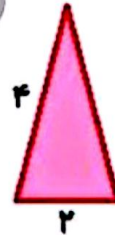



علوی

۴ با گذاشتن علامت، دو عدد را مقایسه کن.

- الف: ۲۳۵۰ ریال ۲۴۷۰ ریال
 ب: ۷۹۰۰ تومان ۷۹۱۰ ریال
 پ: ۱۰۳۰ ریال ۲۰۰۰ تومان
 ت: ۵۶۲۰ تومان ۵۶۲۰ ریال

۵ محیط شکل‌های زیر را به دست بیاور.



۶ اندازه ضلع مثلث متساوی‌الاضلاع ۹ سانتی‌متر است. محیط این مثلث چند سانتی‌متر است؟ محیط مثلث چند برابر اندازه یک ضلع آن است؟

.....

تمرین

۱ علامت مناسب هر جای خالی را تشخیص بده و وصل کن.

- ۸۳۳ ۳۸۸ + ۴۴۵ >
 ۶۹۲۰ ۶۹۰۲ >
 ۸۷۴۱ ۹۰۴۱ - ۳۰۰ =
 ۴۰۱۲ ۴۰۲۱ <
 ۸۱۷۵ ۸۷۱۵ <

۲ درستی و نادرستی هر عبارت را مشخص کن.

الف: علامت بین دو عدد $۷۳۶۰ > ۷۳۶۲$ درست گذاشته شده است.

ب: محیط مثلث متساوی‌الساقین که اضلاع برابری ندارد یک ضلع ضربدر ۲ می‌باشد.

