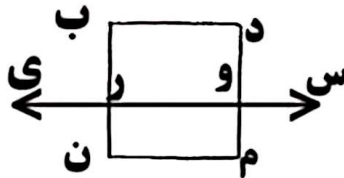




موضوع:

تاریخ

نام و نام خانوادگی



۱- با توجه به شکل به سوالات جواب دهید.

نام یک خط راست: نام یک نیم خط:

نام یک پاره خط:

۲- جاهای خالی را کامل کن.

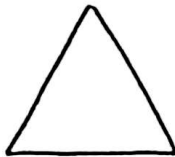
پاره خط خطی است که از دو طرف باشد.

خط راست خطی است که از دو طرف باشد.

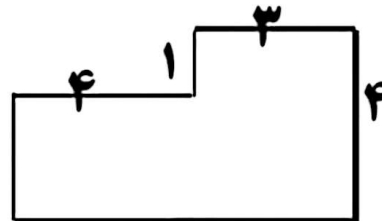
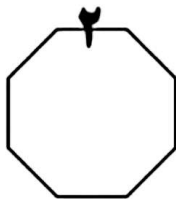
فقط را می توانیم اندازه بگیریم چون

به دور هر شکل آن شکل می گوئیم.

۳- قطر شکل های زیر را بکش.



۴- محیط شکل های زیر را به دست آورید.



۵- باغبانی می خواهد دور زمین ستطیل شکل خود به طول ۸۰ و عرض ۶۰ متر را نرده بکشد. او

به چند متر نرده نیاز دارد؟

بازخورد:

Handwritten feedback area with a dashed border and horizontal lines.

