



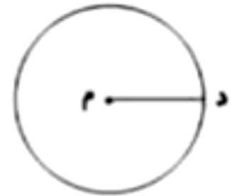
موضوع: قطر. انواع خط. محیط و مساحت

تاریخ:

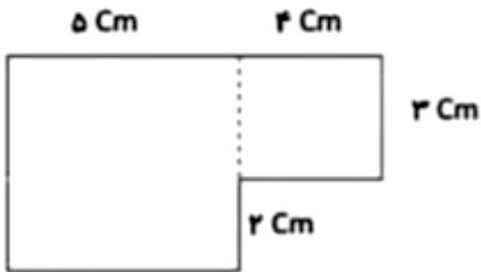
نام و نام خانوادگی:

هدف: مرور فصل ۵

۱- پاره خط (م د) در هر شکل چه نام دارد؟

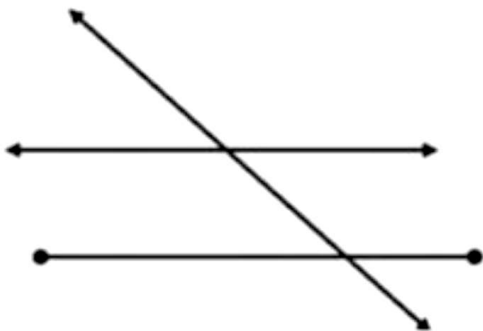


۲- مساحت و محیط شکل های زیر را به دست آورید.



۳- مریم می خواهد دور رومیزی که طول آن ۱۰۰ سانتی متر و عرض آن ۵۰ سانتی متر است، تور بدوزد او به چند متر تور نیاز دارد؟

۴- تعداد پاره خط، نیم خط و خط راست را در شکل زیر مشخص کنید.





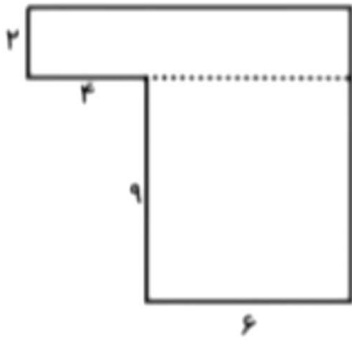
موضوع:

تاریخ:

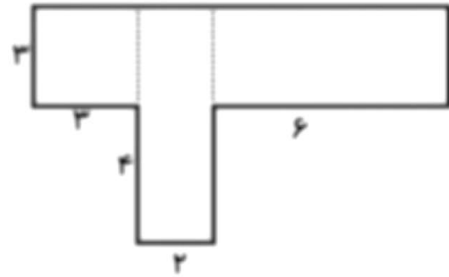
نام و نام خانوادگی:

هدف:


مساحت شکل های زیر را بدست آورید .



مساحت = .....



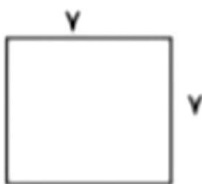
مساحت = .....



مساحت = .....



مساحت = .....



مساحت = .....



مساحت = .....





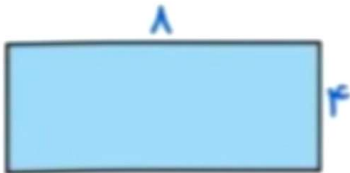
موضوع:

تاریخ

نام و نام خانوادگی

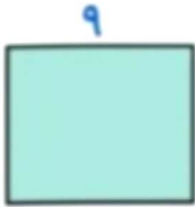
هدف:

محیط و مساحت شکل های زیر را بدست آورید .



محیط = \_\_\_\_\_

مساحت = \_\_\_\_\_



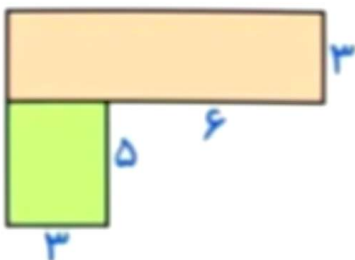
محیط = \_\_\_\_\_

مساحت = \_\_\_\_\_



محیط = \_\_\_\_\_

مساحت = \_\_\_\_\_



مساحت = \_\_\_\_\_