

زنگ ریاضی



چه عددی را نشان می‌دهد؟ $12 \div 3 = \bigcirc \div 2$ در این عبارت عددی، \bigcirc چه عددی را نشان می‌دهد؟

۲

۲ (۱)

۴ (۲)

۶ (۳)

۸ (۴)

حاصل ضرب دو عدد ۵۴ و حاصل جمع آنها ۱۵ است. آن دو عدد کدامند؟

۴

$$\square \times \bigcirc = 54$$

$$\square + \bigcirc = 15$$

بین دو عدد ۲ و ۵ عددهایی را پیدا کن که حاصل ضرب آنها از ۱۴ کوچکتر و از ۱۰ بزرگتر باشند.

۵

$$10 < \square \times \bigcirc < 14$$

.....

.....

چه عددی را نشان می‌دهد؟ $12 \div 3 = \bigcirc \div 2$ در این عبارت عددی، \bigcirc چه عددی را نشان می‌دهد؟

۲

۲ (۱)

۴ (۲)

۶ (۳)

۸ (۴)

حاصل ضرب دو عدد ۵۴ و حاصل جمع آنها ۱۵ است. آن دو عدد کدام‌اند؟

۴

$$\boxed{9} \times \textcircled{6} = 54$$

$$\boxed{9} + \textcircled{6} = 15$$

بین دو عدد ۲ و ۵ عددهایی را پیدا کن که حاصل ضرب آنها از ۱۴ کوچک‌تر و از ۱۰ بزرگ‌تر باشند.

۵

$$10 < \boxed{3} \times \textcircled{4} < 14$$

.....

.....

۶

عددی را دو برابر کرده ایم. حاصل آن با عددی که چهار برابر شده است، یکسان و برابر ۱۶ می باشد. آن دو عدد را

پیدا کن.

.....

.....

۷

عددی را در خودش ضرب کرده ایم و به حاصل آن ۴ واحد اضافه کردیم، جواب ۸۵ شد. آن عدد را پیدا کن.

.....

۸

مساحت مربعی ۴۶ سانتی متر مربع است. اندازه ضلع آن چند سانتی متر است؟

$$\square \times \square = ۳۶$$

۶

عددی را دو برابر کرده ایم. حاصل آن با عددی که چهار برابر شده است، یکسان و برابر ۱۶ می باشد. آن دو عدد را

پیدا کن.

$$\boxed{8} \times 2 = 16$$

$$4 \times 4 = 16$$

۷

عددی را در خودش ضرب کرده ایم و به حاصل آن ۴ واحد اضافه کردیم، جواب ۸۵ شد. آن عدد را پیدا کن.

$$(\boxed{9} \times \boxed{9}) + 4 = 85$$

۸

مساحت مربعی ۳۶ سانتی متر مربع است. اندازه ضلع آن چند سانتی متر است؟

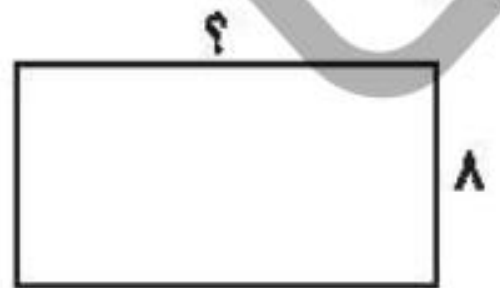
$$\boxed{6} \times \boxed{6} = 36$$

۹ مساحت مربعی ۸۱ متر مربع است. محیط آن چند متر است؟

.....

.....

۱۰ عرض زمین مستطیل شکلی ۸ متر است. اگر طول آن دو برابر عرض باشد، مساحت آن چقدر است؟



.....

.....

۱۱ سه برابر شعاع دایره‌های ۱۵ سانتی‌متر است. قطر دایره چند سانتی‌متر است؟

.....

.....



۹ مساحت مربعی ۸۱ متر مربع است. محیط آن چند متر است؟

$$\boxed{9} \times \boxed{9} = 81$$

متر $9 \times 4 = 36$ محیط

۱۰ عرض زمین مستطیل شکلی ۸ متر است. اگر طول آن دو برابر عرض باشد، مساحت آن چقدر است؟

؟



$$8 \times 2 = 16 \text{ طول}$$

$$16 \times 8 = 128 \text{ مساحت متر مربع}$$

۱۱ سه برابر شعاع دایره‌ای ۱۵ سانتی‌متر است. قطر دایره چند سانتی‌متر است؟

$$3 \times \boxed{5} = 15 \quad \text{قطر } 5 + 5 = 10$$

ارمغان هفته - سوم دبستان

شماره ی

۲۲

نام و نام خانوادگی: تاریخ: نام آموزگار:

ریاضی < فصل ۶: جمع و تفریق فرآیندی
 علوم < درس ۱۱: بکایید و ببینید
 فارسی < درس ۱۴: ایران آباد
 مطالعات اجتماعی < درس ۱۸: مدرسه ی دوست داشتنی ما
 هدیه های آسمان < درس ۱۴: خانه ام را دوست دارم.
 قرآن < فصل ۳: انس با قرآن کریم (۱-۰)

ریاضی

۱ جمع و تفریق زیر را با روش فرآیندی محاسبه کنید.

$$\begin{array}{r} 6171 \\ + 1825 \\ \hline \end{array} \quad \begin{array}{r} 6152 \\ + 2746 \\ \hline \end{array} \quad \begin{array}{r} 8736 \\ - 2325 \\ \hline \end{array} \quad \begin{array}{r} 7496 \\ - 3286 \\ \hline \end{array}$$

۲ برنا ۷۴۰ تومان پول دارد. پول برادرش ۲۳۱ تومان از او بیش تر است. آنها روی هم چند تومان پول دارند؟

۳ حاصل جمع و تفریق های زیر را به صورت ذهنی به دست آورید.

$$\begin{array}{l} 6000 - 4000 = \dots\dots\dots \\ 1700 + 300 = \dots\dots\dots \\ 5000 + 2000 = \dots\dots\dots \end{array} \quad \begin{array}{l} 4100 + 900 = \dots\dots\dots \\ 9000 - 700 = \dots\dots\dots \\ 4000 - 500 = \dots\dots\dots \end{array}$$

۴ با حذف رقم یکان و دهگان و صدگان حاصل جمع و تفریق های زیر را از بین پاسخ ها پیدا کنید.

$$\begin{array}{r} 3562 \\ - 2487 \\ \hline \end{array} \rightarrow \dots\dots\dots \quad \begin{array}{r} 1768 \\ + 4359 \\ \hline \end{array} \rightarrow \dots\dots\dots$$

1100 6000 5000 6800 1000

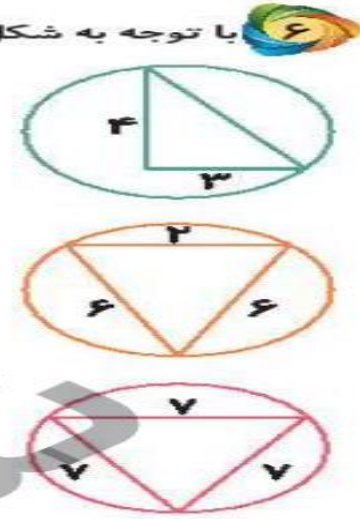
۵ حاصل تقریبی هر عبارت بین کدام دو عدد هزارتایی قرار می گیرد؟ (با حذف رقم یکان و دهگان)

$$\begin{array}{|c|} \hline \dots\dots\dots \\ \hline \end{array} \leftarrow 6351 + 1483 \rightarrow \begin{array}{|c|} \hline \dots\dots\dots \\ \hline \end{array}$$

$$\begin{array}{|c|} \hline \dots\dots\dots \\ \hline \end{array} \leftarrow 4458 - 2367 \rightarrow \begin{array}{|c|} \hline \dots\dots\dots \\ \hline \end{array}$$

با توجه به شکل‌های زیر گزینه‌ی مناسب را رنگ کنید.

مثلث متساوی‌الساقین	مثلث قائم‌الزاویه	مثلث متساوی‌الاضلاع
مثلث متساوی‌الساقین	مثلث قائم‌الزاویه	مثلث متساوی‌الاضلاع
مثلث متساوی‌الساقین	مثلث قائم‌الزاویه	مثلث متساوی‌الاضلاع




علوم

نوع ریشه‌ی هر کدام از تصاویر را بنویسید. (راست - افشان)



--	--	--	--	--

گیلهتی را که ریشه‌ی آن‌ها خوراکی است با علامت ضربدر مشخص کنید.



سه گیاه نام ببرید که مواد غذایی را در ریشه‌ی خود ذخیره می‌کند.

.....

.....

۴ از برگ چه گیاهی به عنوان خوراکی و غذا استفاده می‌شود؟ (سه مورد نام ببرید.)

فارسی

۱ زیر کلمات نادرست خط بکشید و درست آن‌ها را بنویسید.
(سنت ، بحس ، محلی ، ضیفه ، باعث ، حفظ ، برخواست)

۲ بیت زیر را کامل کنید.
دست در دست هم دهیم به مهر

۳ در متن درس چهاردهم، واژه‌هایی که بی‌نقطه هستند پیدا کنید و بنویسید.

۴ برای این جدول پرسش‌های مناسب بنویسید.

۱	ب	ت
۲	ر	خ
۳	ن	ی
۴	ا	ی
۵	ا	د

مطالعات اجتماعی

۱ کدام کارها در مدرسه انجام نمی‌شود؟ مشخص کنید.



۲ پنج مورد از کارهای مورد علاقه‌ی خود در مدرسه را بنویسید.

۳ هریک از کارهای سمت راست در کدام مکان از مدرسه انجام می‌گیرد؟ (وصل کنید).

🌀 سالن اجتماعات

🌀 آزمایشگاه

🌀 حیاط

🌀 نمازخانه

🌀 نماز خواندن

🌀 اجرای نمایش

🌀 انجام آزمایش‌های علمی

🌀 ورزش و بازی

هدیه‌های آسمان - قرآن

۱ نام‌های حضرت زهرا (س) را از جدول زیر پیدا کنید. علاوه‌بر رنگ کردن آن‌ها در جدول، نام‌ها را بنویسید.

م	ب	ا	ر	ک	ه
ف	ا	ط	م	ه	م
ص	د	ی	ق	ه	ر
ط	ا	ه	ر	ه	می
م	ح	د	ث	ه	و
ر	ی	ح	ا	ن	ه

۲ تسبیحات حضرت زهرا (س) را به ترتیب نام ببرید و تعداد آن‌ها را بنویسید.



برنا ۷۴۰ تومان پول دارد. پول برادرش ۲۳۱ تومان از او بیش تر است. آنها روی هم چند تومان پول دارند؟

پول هر دو روی هم

$$\begin{array}{r} 740 \\ + 231 \\ \hline 971 \end{array}$$

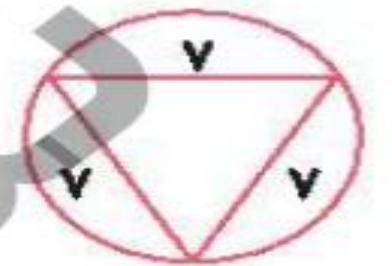
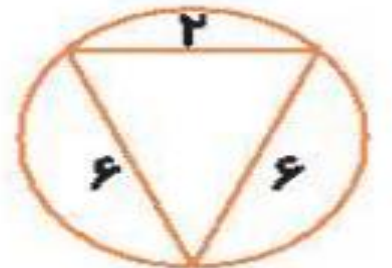
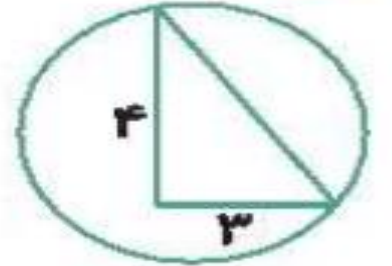
پول برادرش

$$\begin{array}{r} 740 \\ + 971 \\ \hline 1711 \end{array}$$

با توجه به شکل های زیر گزینه ی مناسب را رنگ کنید.



مثلث متساوی الساقین	مثلث قائم الزاویه	مثلث متساوی الاضلاع
مثلث متساوی الساقین	مثلث قائم الزاویه	مثلث متساوی الاضلاع
مثلث متساوی الساقین	مثلث قائم الزاویه	مثلث متساوی الاضلاع



۱ نوع ریشه‌ی هر کدام از تصاویر را بنویسید. (راست - افشان)



راست


راست

راست

افشان

افشان

۲ گیاهانی را که ریشه‌ی آن‌ها خوراکی است با علامت ضربدر مشخص کنید.



۳ سه گیاه نام ببرید که مواد غذایی را در ریشه‌ی خود ذخیره می‌کنند.

ترب - شلغم - هویج - لبو

۴ از برگ چه گیاهی به عنوان خوراکی و غذا استفاده می‌شود؟ (سه مورد نام ببرید).

اسفناج - کاهو - چغندر - نعنا