



نام و نام خانوادگی

تاریخ

موضوع: ضرب و تقسیم

۱۴۰۴/۱۲/۱۹

هدف: مرور ضرب و تقسیم

ضرب عدد های ۲ تا ۹ تمرین شود. سپس ضرب و تقسیم های زیر را بنویسید و در جاهای خالی عددهای مناسب قرار دهید.

$$۸ \times \square = ۷۲$$

$$\square \times ۹ = ۴۵$$

$$۴ \times ۷ = \square$$

$$۶ \times \square = ۴۸$$

$$\square \times ۷ = ۶۳$$

$$۸ \times ۳ = \square$$

$$۹ \times \square = ۱۸$$

$$\square \times ۶ = ۵۴$$

$$۹ \times ۴ = \square$$

$$۷ \times \square = ۳۵$$

$$۲۱ \div \square = ۷$$

$$۲۴ \div ۶ = \square$$

$$۱۶ \div \square = ۸$$

$$\square \div ۲ = ۷$$

$$۴۹ \div ۷ = \square$$

$$۶۴ \div \square = ۸$$

$$۳۰ \div ۵ = \square$$

$$\square \div ۹ = ۹$$

$$۲۷ \div ۳ = \square$$

$$۴۲ \div \square = ۶$$

علوی

بنام خداوند جان و خرد

پایه:  
سوم



موضوع: محیط و مساحت

تاریخ

نام و نام خانوادگی

هدف: مرور محیط و مساحت مربع و مستطیل

۱۴۰۴/۱۲/۱۹

محیط و مساحت مربع و مستطیل زیر را به دست آورید.

۷س

۴س



روش اول:  
روش دوم:  
روش سوم:


مساحت مستطیل:

۶س



روش اول:  
روش دوم:

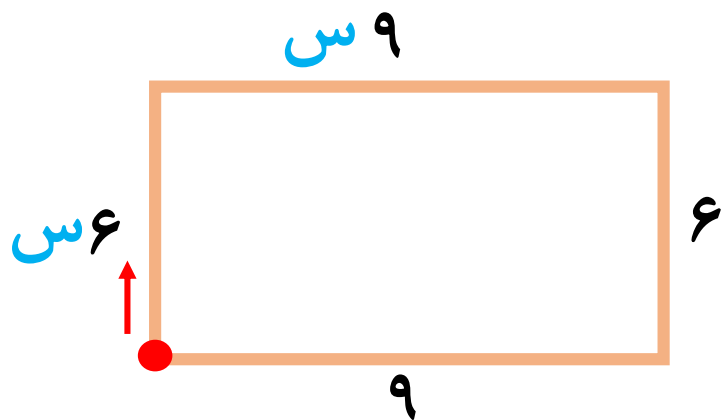
مساحت مربع:



# نمونه سوال ریاضی




(۱) محیط و مساحت مربع و مستطیل زیر را به دست آورید.



محیط مستطیل

$$\left\{ \begin{array}{l} \text{روش اول: } 6 + 9 + 6 + 9 = 30 \text{ س} \\ \text{روش دوم: } (2 \times 6) + (2 \times 9) = 12 + 18 = 30 \text{ س} \\ \text{روش سوم: } 2 \times \frac{9+6}{1} = 30 \text{ س} \end{array} \right.$$

مساحت مستطیل:  $9 \times 6 = 54$  م س

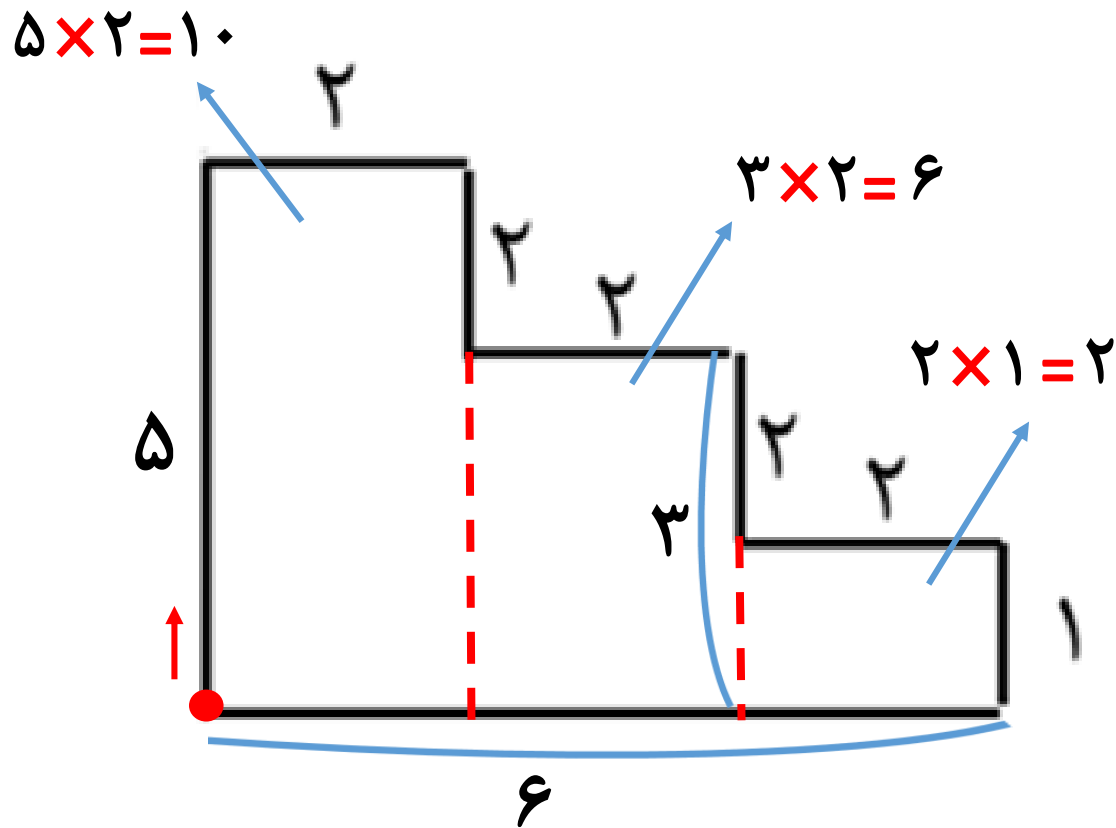


محیط مربع

$$\left\{ \begin{array}{l} \text{روش اول: } 8 + 8 + 8 + 8 = 32 \text{ س} \\ \text{روش دوم: } 4 \times 8 = 32 \text{ س} \end{array} \right.$$

مساحت مربع:  $8 \times 8 = 64$  س

۲) محیط و مساحت شکل زیر را به دست آورید.



مساحت شکل:  $10 + 6 + 2 = 18$

محیط شکل:  $5 + 2 + 2 + 2 + 2 + 2 + 1 + 6 = 22$



شماره‌ی  
۲۲

# ارمغان هفته - سوم دبستان

نام و نام خانوادگی: ..... تاریخ: ..... نام آموزگار: .....

ریاضی < فصل ۶: جمع و تفریق فرآیندی  
علوم < درس ۱۱: بکاربرد و ببینید  
فارسی < درس ۱۴: ایران آباد

مطالعات اجتماعی < درس ۱۸: مدرسه‌ی دوست داشتی ما  
هدیه‌های آسمان < درس ۱۴: خانه‌ام را دوست دارم.  
قرآن < فصل ۳: انس با قرآن کریم (۱۰)

## ریاضی

جمع و تفریق زیر را با روش فرآیندی محاسبه کنید.

$\begin{array}{r} 7991 \\ + 5 \\ \hline 7996 \end{array}$	$\begin{array}{r} 6171 \\ + 1825 \\ \hline 7996 \end{array}$	$\begin{array}{r} 9232 \\ + 6 \\ \hline 9238 \end{array}$	$\begin{array}{r} 6452 \\ + 2786 \\ \hline 9238 \end{array}$	$\begin{array}{r} 8736 \\ - 2925 \\ \hline 5811 \end{array}$	$\begin{array}{r} 5816 \\ - 5 \\ \hline 5811 \end{array}$	$\begin{array}{r} 7496 \\ - 2286 \\ \hline 5210 \end{array}$	$\begin{array}{r} 4216 \\ - 6 \\ \hline 4210 \end{array}$
---	--	---	--	--	---	--	---

برنا ۷۴۰ تومان پول دارد. پول برادرش ۲۳۱ تومان از او بیش‌تر است. آن‌ها روی هم چند تومان پول دارند؟

پول برادرش  $231 + 740 = 971$

پول آن‌ها روی هم  $971 + 740 = 1711$

حاصل جمع و تفریق‌های زیر را به صورت ذهنی به دست آورید.



$$6000 - 4000 = 2000$$

$$4100 + 900 = 5000$$

$$1700 + 300 = 2000$$

$$9000 - 700 = 8300$$

$$5000 + 2000 = 7000$$

$$4000 - 500 = 3500$$

با حذف رقم یکان و دهگان و صدگان حاصل جمع و تفریق‌های زیر را از بین پاسخ‌ها پیدا کنید.



$$\begin{array}{r} 3562 \\ - 2487 \\ \hline \end{array} \rightarrow \begin{array}{c} \overset{3}{\dots\dots} \\ \overset{2}{\dots\dots} \\ \overset{1}{\dots\dots} \end{array}$$

$$\begin{array}{r} 1768 \\ + 4359 \\ \hline \end{array} \rightarrow \begin{array}{c} \overset{1}{\dots\dots} \\ \overset{4}{\dots\dots} \\ \overset{5}{\dots\dots} \end{array}$$

1100	6000	5000	6800	1000
------	------	------	------	------

حاصل تقریبی هر عبارت بین کدام دو عدد هزرتایی قرار می‌گیرد؟ (با حذف رقم یکان و دهگان)



7000

$6351 + 1483$

8000

✓

$6300 + 1400 = 7700$

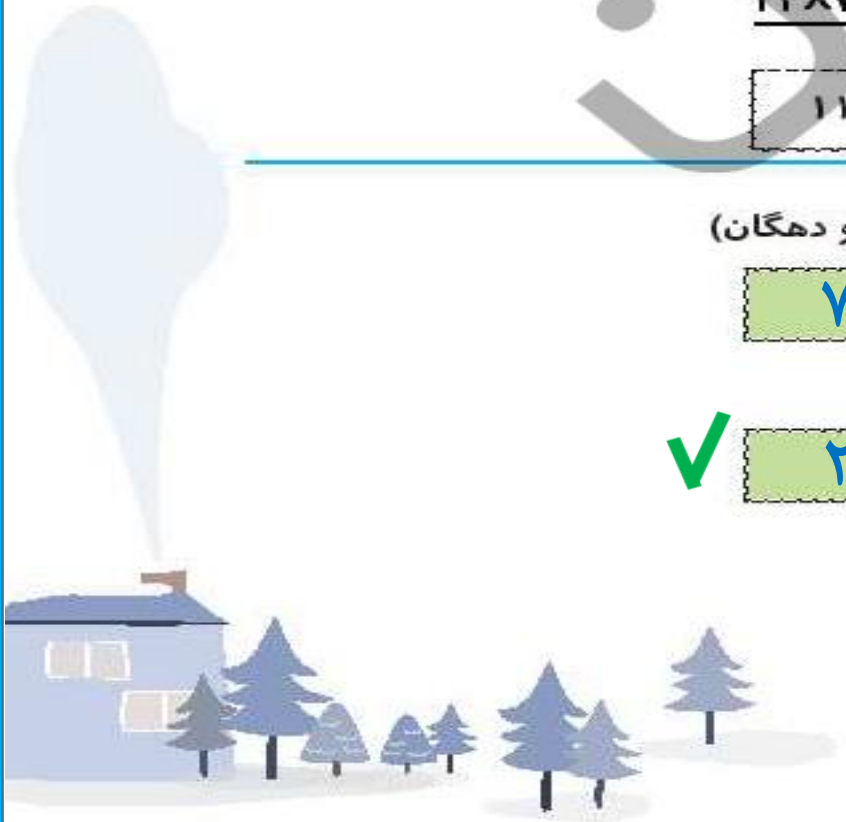
2000

$4458 - 2367$

3000

✓

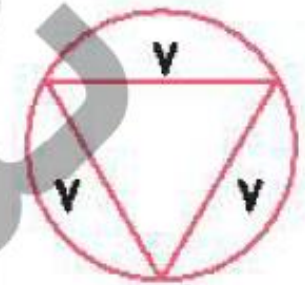
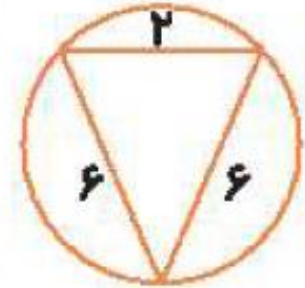
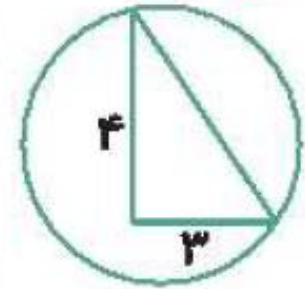
$4400 - 2300 = 2100$





با توجه به شکل‌های زیر گزینه‌ی مناسب را رنگ کنید. ۶

مثلث متساوی‌الساقین	مثلث قائم‌الزاویه	مثلث متساوی‌الاضلاع
مثلث متساوی‌الساقین	مثلث قائم‌الزاویه	مثلث متساوی‌الاضلاع
مثلث متساوی‌الساقین	مثلث قائم‌الزاویه	مثلث متساوی‌الاضلاع



## علوم

نوع ریشه‌ی هر کدام از تصاویر را بنویسید. (راست - افشان)



راست


راست

راست

افشان


افشان

گیاهانی را که ریشه‌ی آن‌ها خوراکی است با علامت ضربدر مشخص کنید.



سه گیاه نام ببرید که مواد غذایی را در ریشه‌ی خود ذخیره می‌کنند.

هویدج - ترب - شلغم



از برگ چه گیاهی به عنوان خوراکی و غذا استفاده می‌شود؟ (سه مورد نام ببرید).



کاهو - اسفناج - نعناع

فارسی

زیر کلمات نادرست خط بکشید و درست آن‌ها را بنویسید.



«سنعت ، بحس ، محلّی ، وظیفه ، باعث ، حفظ ، برخواست»

صنعت بحث وظیفه برخاست

بیت زیر را کامل کنید.



دست در دست هم دهیم به مهر

میهن خویش را کنیم آباد

در متن درس چهاردهم، واژه‌هایی که بی‌نقطه هستند پیدا کنید و بنویسید.



رسم - درس - کلاس - گروه‌های - درباره‌ی - مردم - همه‌ی - مادری - محلّی - حرف - مهم - علم - اسلام - لاله - طول - سال - علی - احمد - همدلی - همکاری - دست - مهر - اصلی

			ب	آ	۱	
			ر	ز	خ	۲
		ن	ه	ی	م	۳
	ن	ا	ر	ی	ا	۴
ه	ا	غ	د	ا	ز	۵

۱- موجودات زنده به ..... نیاز دارند.

۲- نام دریای شمال ایران

۳- نام دیگر وطن

۴- نام کشور ما

۵- محل تولد

### مطالعات اجتماعی

۱ کدام کارها در مدرسه انجام نمی‌شود؟ مشخص کنید.





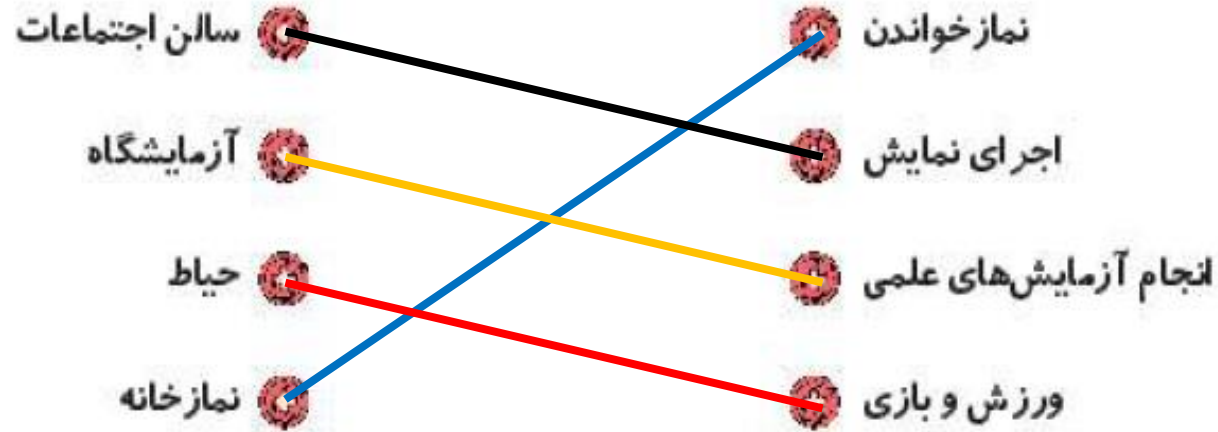
۲ پنج مورد از کارهای مورد علاقه‌ی خود در مدرسه را بنویسید.



.....

.....

۳ هریک از کارهای سمت راست در کدام مکان از مدرسه انجام می‌گیرد؟ (وصل کنید).



هدیه‌های آسمان - قرآن

نن

## هدیه‌های آسمان - قرآن

نام‌های حضرت زهرا (س) را از جدول زیر پیدا کنید. علاوه بر رنگ کردن آن‌ها در جدول، نام‌ها را بنویسید.



م	ب	ا	ر	ک	ه
م	ف	ا	ط	م	ه
ر	ص	د	ی	ق	ه
ض	ط	ا	ه	ر	ه
ی	م	ح	د	ث	ه
ه	ر	ی	ح	ا	ن

مبارکه  
فاطمه  
صدیقه  
طاهره  
محدثه  
ریحانه  
مرضیه

تسبیحات حضرت زهرا (س) را به ترتیب نام ببرید و تعداد آن‌ها را بنویسید.



۳۴ الله اکبر      ۳۳ الحمد لله      ۳۳ سبحان الله