



موضوع:

تاریخ:

نام و نام خانوادگی:

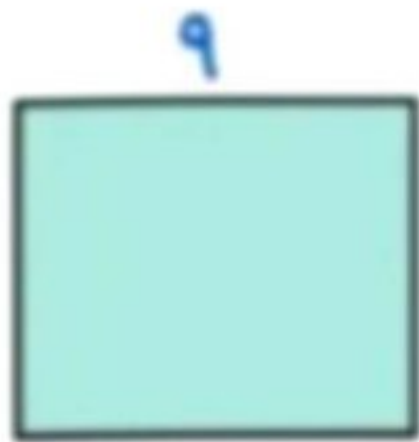
هدف:

محیط و مساحت شکل های زیر را بدست آورید .



محیط = _____

مساحت = _____



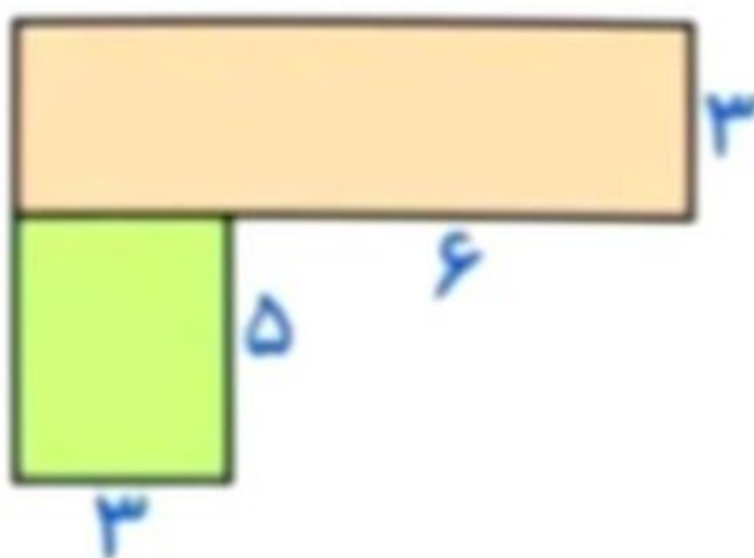
محیط = _____

مساحت = _____



محیط = _____

مساحت = _____



مساحت = _____

۲ عددی را که هر شکل نشان می‌دهد، بنویس و با یکدیگر مقایسه کن.



.....

۴ عددهای هر ردیف را از کوچک به بزرگ مرتب کن.

۵۰۲۰ - ۵۰۰۰ - ۵۰۳۰ - ۵۰۰۵

_____ < _____ < _____

۲۳۲۸ - ۲۳۲۵ - ۲۳۲۶ - ۲۳۲۳ - ۲۳۲۹

_____ < _____ < _____ < _____

۵ عددهای زیر را با حذف رقم یکان از کوچک به بزرگ مرتب کن.

۶۰۳۷ - ۶۰۰۶ - ۶۰۱۳ - ۶۲۰۸

.....

۶ عددهای زیر را با حذف رقم‌های یکان و دهگان از کوچک به بزرگ مرتب کن.

۷۰۴۶ - ۷۶۱۸ - ۷۵۳۹ - ۷۷۷۸

.....

۷ علامت مناسب بگذار ($<$ ، $=$ ، $>$).

۷۰۰۰ ۷۸۹

۷۵۰ - ۲۵۰ ۶۳۰ + ۶۰

۴۷۸۰ ۵۰۴۰

۲۱۳۰ + ۴۰۰ ۲۶۰۰ - ۱۰۰

۸۰ + ۷۴ ۱۴۴

۵۶۰ + ۷۳۰ ۴۶۰ + ۹۲۵

۳۵۰ + ۳۲۰ ۷۸۰

۶۴۰ + ۲۱۰ ۷۰۰۰ + ۶۰۰

۸ حاصل جمع و تفریق‌های زیر را با حذف رقم یکان و دهگان به صورت تقریبی به دست بیاور.

۷۳۵۶ → _____

۶۴۰۹ → _____

۹۷۶۲ → _____

۸۹۲۱ → _____

- ۱۳۲۰ → _____

- ۴۳۰۸ → _____

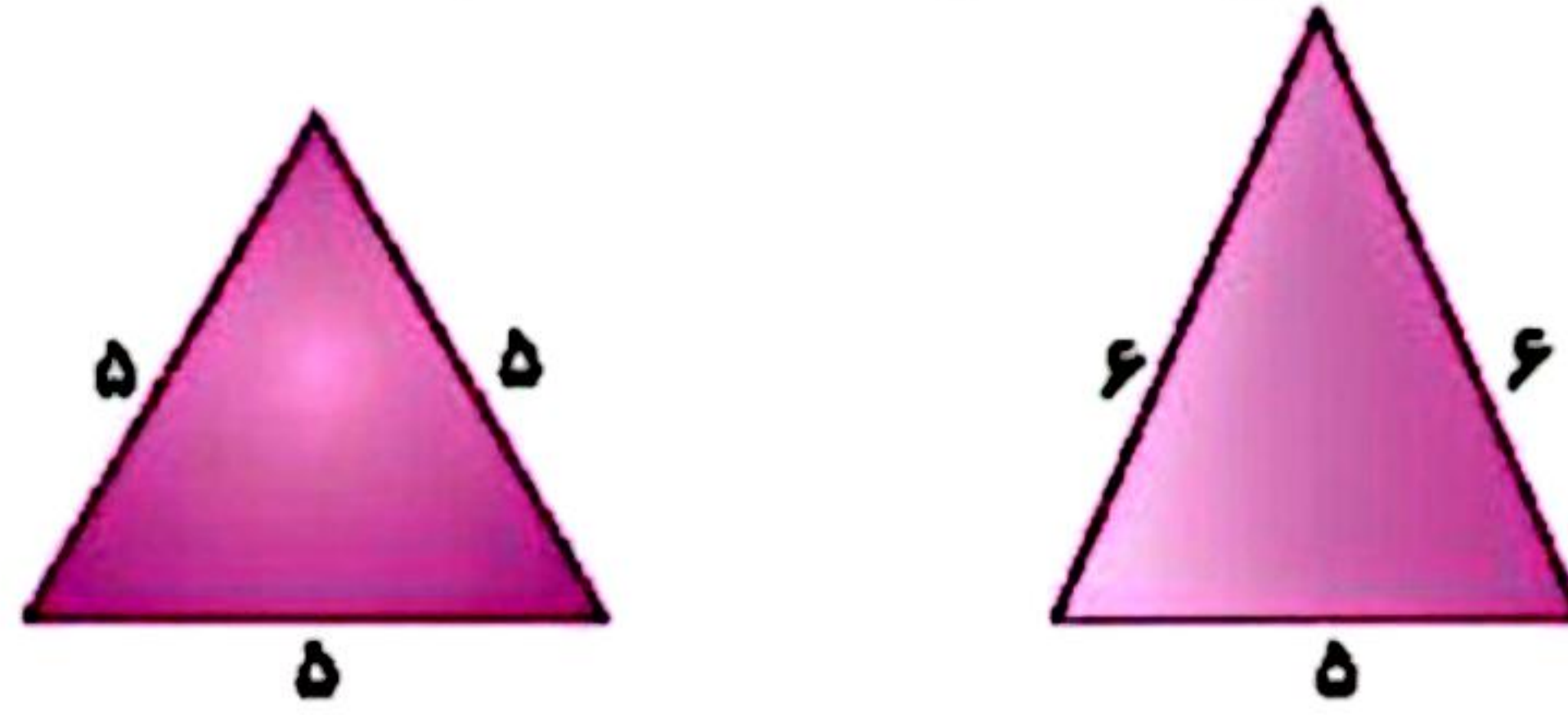
- ۱۶۵۱ → _____

+ ۱۰۱۸ → _____



علوی

۹ نام مثلتهای زیر را با توجه به اندازهی ضلعها بنویس و محیط آن را به دست آور.



۱۰ محیط مثلث متساوی الساقین زیر ۱۹ سانتی متر است. اندازهی هر ساق آن چند سانتی متر است؟



۱۱ جلوید می خواست اعداد ۱۲۷۹ و ۲۴۲ را با ماشین حساب خود جمع کند. لوبه اشتباه $۱۲۷۹ + ۲۴۳$ را وارد ماشین کرد.

او باید برای جبران اشتباه خود کدام یک از کارهای زیر را انجام دهد؟

- (۱) ۱۰۰ تا اضافه کند (۲) یکی اضافه کند (۳) یکی کم کند (۴) ۱۰۰ تا کم کند

۱۲ در کدام یک از جفتهای عددی زیر عدد دوم ۱۰۰ تا از عدد اول بیشتر است؟

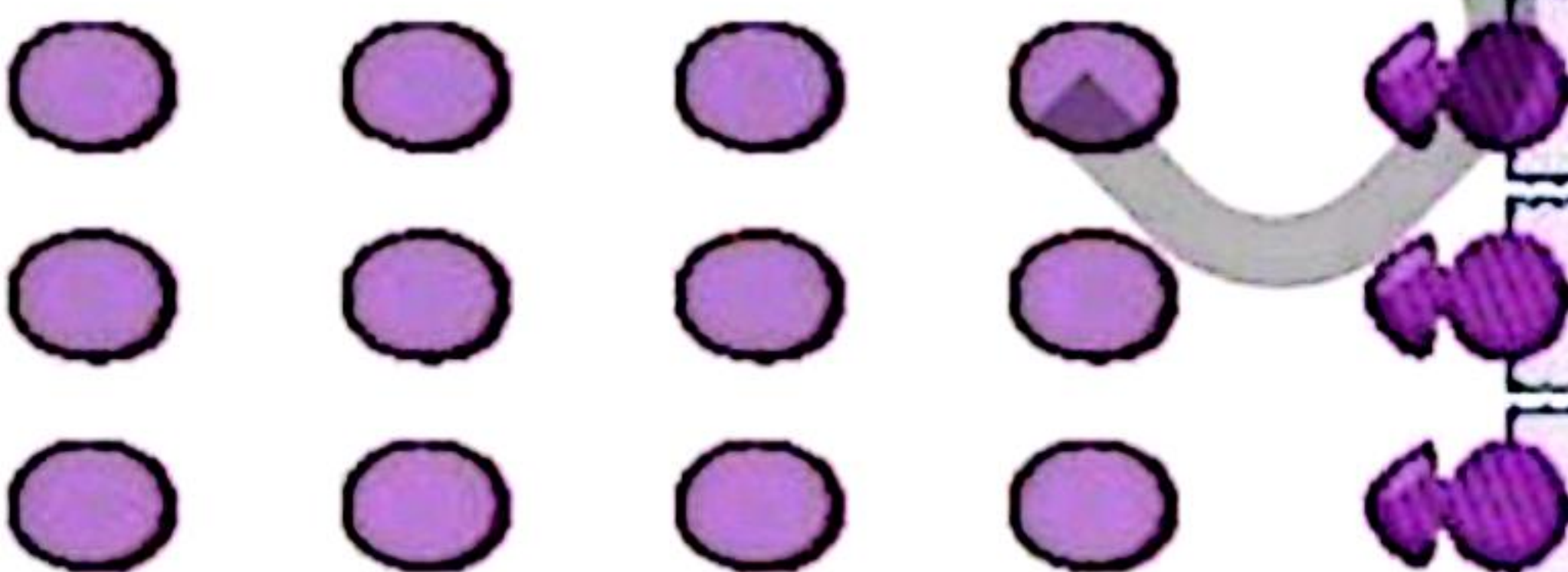
- (۱) ۱۹۹ و ۲۰۹ (۲) ۴۲۳۶ و ۴۲۴۶ (۳) ۹۶۳۵ و ۹۷۳۵ (۴) ۵۱۸۶۳ و ۵۲۸۶۳

زنگ تفریح

خدایا آن روز را برسان که روح و جسمم در تقارن هم و موازی دستورات تو باشد.

خودارزیابی

خیلی خوب خوب قابل قبول نیاز به تلاش



توانایی مقایسه اعداد چهاررقمی با هم

توانایی محاسبه حاصل جمع و تدریق های چهاررقمی با تدریق

توانایی محاسبه محیط اشکال دارای اضلاع مساوی با ضرب