



موضوع:

تاریخ:

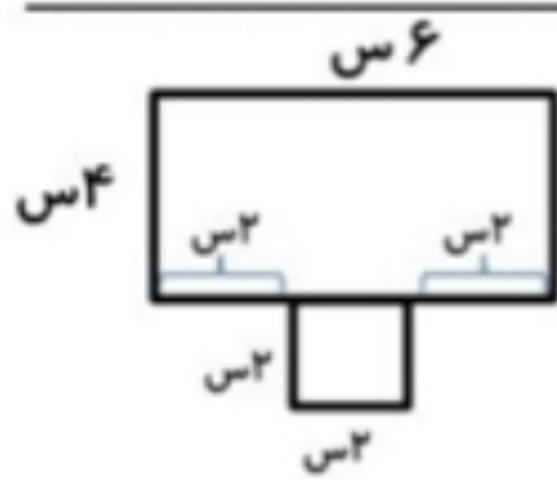
نام و نام خانوادگی:

هدف:

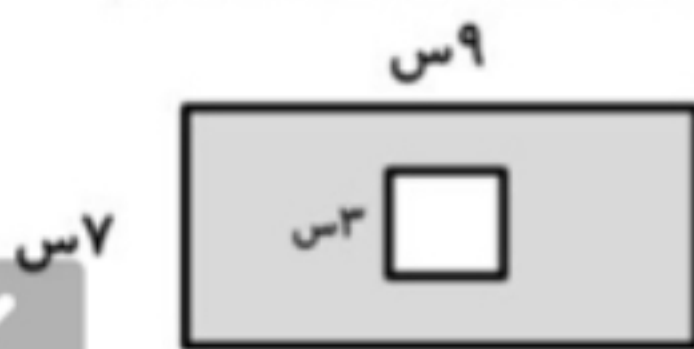
ریاضی:

۱- محیط یک مربع  $24$  سانتی متر است. اندازه ی یک ضلع آن چند سانتی متر است؟ مساحت این مربع چند سانتی متر مربع است؟

۲- محیط و مساحت شکل زیر را به دست آورید.



۳- مساحت قسمت رنگ شده را به دست آورید.



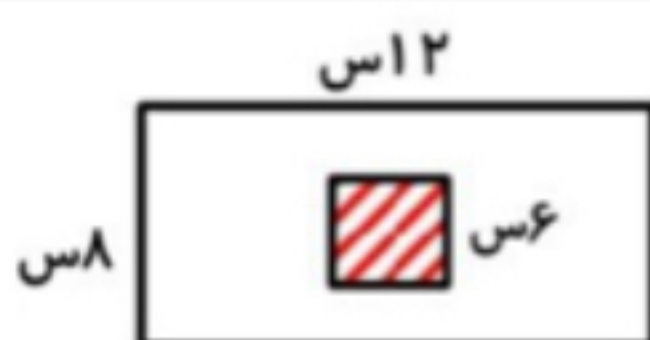
۴- مادر سارا یک رومیزی به شکل مستطیل خرید که طول آن  $6$  متر و عرض آن ثلث طولش بود. مساحت این رومیزی چه قدر است؟ محیط این رومیزی را به دست آورید.

۵- مساحت قسمت رنگ شده ی شکل را به دست آورید.



مساحت دایره =  $75$  سانتی متر

۶- مساحت قسمت هاشوری را به دست آورید.



بازخورد:

\_\_\_\_\_

\_\_\_\_\_

\_\_\_\_\_

