



جمع و تفریق‌های زیر را حساب کن.

۱

$$\begin{array}{r} 6272 \\ + 1716 \\ \hline \end{array}$$

$$\begin{array}{r} 3923 \\ + 5064 \\ \hline \end{array}$$

$$\begin{array}{r} 8764 \\ - 2634 \\ \hline \end{array}$$

$$\begin{array}{r} 5769 \\ - 4237 \\ \hline \end{array}$$

۲ حاصل جمع و تفریق‌های زیر را به صورت ذهنی به دست بیاور.

۲

$$8000 - 5000 = \dots\dots\dots$$

$$3000 + 4000 = \dots\dots\dots$$

$$9000 - 7000 = \dots\dots\dots$$

$$2000 - 500 = \dots\dots\dots$$

$$4100 + 900 = \dots\dots\dots$$

$$6500 + 500 = \dots\dots\dots$$

$$5000 - 200 = \dots\dots\dots$$

$$1700 + 300 = \dots\dots\dots$$

$$7000 - 100 = \dots\dots\dots$$

۳ مازیار ۱۲ اسکناس ۲۰۰۰ تومانی و ۲ اسکناس ۵۰۰ تومانی دارد. او ۱۲۰۰ تومان از پولش را خرج می‌کند. چقدر برایش باقی می‌ماند؟

۳

.....

.....

۴ اتوبوس ۳ کیلومتر و ۸۰۰ متر راه را طی کرد. مسافری در ۲۵۰۰ متر از مسیر، خواب بود. او در چه مقدار از راه بیدار بوده است؟

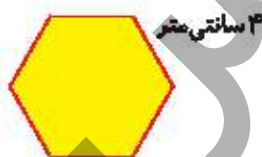
۴

.....

.....

۵ محیط شکل‌های زیر را به میلی‌متر به دست بیاور. (همه‌ی ضلع‌ها با هم مساوی است.)

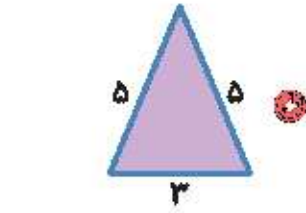
۵



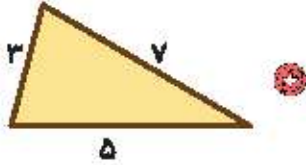
## تمرین



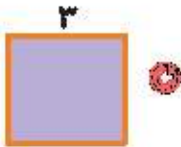
۱ عبارات مناسب محیط اشکال را به شکل مربوطه وصل کرده و سپس حاصل را به دست بیاور.



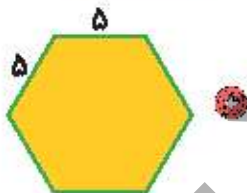
$(2 \times 5) + 3 = 5 + 5 + 3 = \dots\dots\dots$



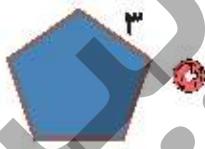
$2 \times 3 = 3 + 3 + 3 + 3 = \dots\dots\dots$



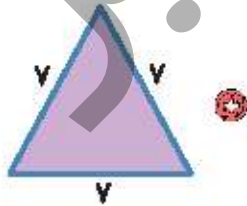
$5 \times 3 = 3 + 3 + 3 + 3 = \dots\dots\dots$



$3 \times 7 = 7 + 7 + 7 = \dots\dots\dots$



$3 + 5 + 7 = \dots\dots\dots$



$6 \times 5 = 5 + 5 + 5 + 5 + 5 + 5 = \dots\dots\dots$

۲ درستی  و نادرستی  هر عبارت را مشخص کن.

الف: محیط پنج ضلعی به ضلع ۷ می‌شود ۲۷.

ب: حاصل جمع ۴۲۶۱ با ۲۶۲۸ می‌شود ۷۸۹۰.

۲ جمع و تفریق کن.

$$\begin{array}{r} 6000 \\ -2369 \\ \hline \end{array}$$

$$\begin{array}{r} 7896 \\ +2114 \\ \hline \end{array}$$

