


۲ سارا با چوب کبریت، ۱۰ خانه در یک ردیف ساخته است. (در شکل، چند تا از خانه‌ها را می‌بینید.) او برای ساختن ۱۰ خانه چند چوب کبریت استفاده کرده است؟



۵ پدر در حال آویزان کردن رخت‌ها می‌باشد و می‌خواهد از کم‌ترین گیره‌های لازم استفاده کند. مطابق شکل، او برای آویزان کردن سه بلوز به چهار گیره نیاز دارد. پدر برای آویزان کردن ۹ بلوز به چند گیره نیاز دارد؟



۶ فاصله پارکی تا مرکز شهر ۲۴۷۶ متر است. اگر بخولیم از مرکز شهر به پارک برویم و از پارک دوباره به مرکز شهر برگردیم، چند کیلومتر و چند متر را طی کرده‌ایم؟

.....

.....

۷ ژاله تعدادی کلوچه خرید که قیمت هر کدامشان ۲۰۰ تومان بود. او ۱۰۰۰ تومان به فروشنده داد و ۱۰۰ تومان پس گرفت. ژاله چند کلوچه خرید؟

.....

.....

۸ پرهام می‌خواست چهار بستنی لیوانی بخرد ولی ۸۰۰ تومان کم داشت. در نتیجه، سه بستنی خرید و ۲۰۰ تومان از پولش باقی ماند. قیمت یک بستنی لیوانی چقدر است؟

- (۱) ۷۰۰ تومان (۲) ۸۰۰ تومان (۳) ۹۰۰ تومان (۴) ۱۱۰۰ تومان

خودارزیابی

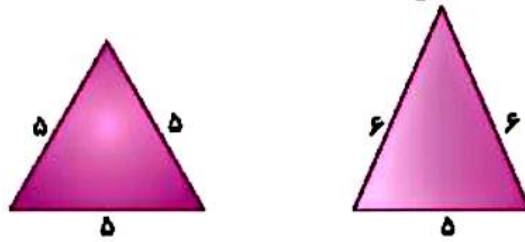
نیاز به تلاش	قابل قبول	خوب	خیلی خوب
<input type="radio"/>	<input type="radio"/>	<input type="radio"/>	<input type="radio"/>
<input type="radio"/>	<input type="radio"/>	<input type="radio"/>	<input type="radio"/>

توانایی استفاده از راهبرد حل مسئله ساده در مسائل مختلف

توانایی ساده کردن مسائل با استفاده از تقریب

علوی

۹ نام مثلثهای زیر را با توجه به اندازهی ضلعها بنویس و محیط آن را به دست آور.



۱۰ محیط مثلث متساوی الساقین زیر ۱۹ سانتی متر است. اندازهی هر ساق آن چند سانتی متر است؟



.....

۱۱ جاوید می خواست اعداد ۱۲۷۹ و ۲۴۳ را با ماشین حساب خود جمع کند. او به اشتباه $۱۲۷۹ + ۲۴۳$ را وارد ماشین کرد.

او باید برای جبران اشتباه خود کدام یک از کارهای زیر را انجام دهد؟

- (۱) ۱۰۰ تا اضافه کند (۲) یکی اضافه کند (۳) یکی کم کند (۴) ۱۰۰ تا کم کند

۱۲ در کدام یک از جفت‌های عددی زیر عدد دوم ۱۰۰ تا از عدد اول بیش تر است؟


- (۱) ۲۰۹ و ۱۹۹ (۲) ۴۲۴۶ و ۴۲۲۶ (۳) ۹۶۳۵ و ۹۷۳۵ (۴) ۵۲۸۶۲ و ۵۱۸۶۲

زنگ تفریح

خدایا آن روز را برسان که روح و جسمم در تقارن هم و موازی دستورات تو باشد.

خودارزیابی

خیلی خوب خوب لابل لبول نیاز به تلاش



توانایی مقایسه اعداد چهاررقمی با هم

توانایی محاسبه حاصل جمع و تفریق‌های چهاررقمی با تقریب

توانایی محاسبه محیط اشکال دارای اضلاع مساوی با ضرب