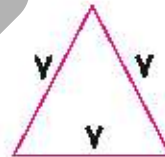
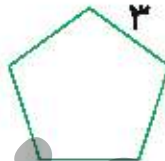
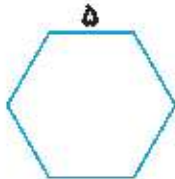
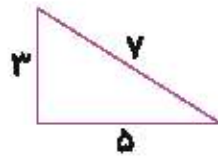


۴ محیط شکل‌های زیر را به دست بیاور.



۵ ذرنا ۶۵۰۰ تومان پول دارد. علی ۳۲۸۵ تومان کم‌تر از او دارد؟ علی چند تومان پول دارد؟ آن دوروی هم چقدر پول دارند؟

.....

.....

.....

۶ دنیا در قلک خود ۳ اسکناس ۱۰۰۰۰ تومانی و یک اسکناس ۲۰۰۰۰ تومانی و ۵ اسکناس ۱۰۰۰ تومانی و ۲ سکه ۵۰۰ تومانی دارد. دنیا چند تومان پول دارد؟

.....

.....

.....

۷ درنا هر روز از پدرش ۱۰۰۰۰ تومان می‌گیرد و روزی ۵۰۰۰ تومان پس‌انداز می‌کند. او بعد از چند روز پس‌انداز می‌تواند یک روسری به قیمت ۷۵۰۰۰ تومان بخرد؟

.....

.....

.....

۸ مساحت تهران تا مشهد ۹۴۰ کیلومتر است. قطار پس از طی ۳۶۵ کیلومتر برای صرف نهار توقف کرد و بعد از طی مسافت ۲۸۷ کیلومتر دیگر مجدداً برای خواندن نماز صبح متوقف شد. این قطار چه قدر از مسیر را طی کرده است؟ چه قدر از مسیر باقی مانده است؟

.....

.....

.....



۹ دبستان علوی پسرانه ۲۷۶ دانش آموز دارد. این دبستان ۹۷ دانش آموز کم تر از دبستان علوی دخترانه دانش آموز دارد.

دبستان علوی دخترانه چند دانش آموز دارد؟ این دو دبستان روی هم چند دانش آموز دارند؟

۴۲۲ (۴)

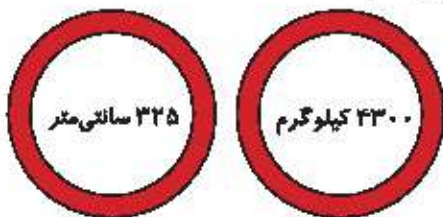
۴۸۳ (۳)

۲۷۹ (۲)

۴۷۳ (۱)

۱۰ دو علامت راهنمایی روی پل روستای مانصب شده اند. این دو علامت، حداکثر عرض و حداکثر جرم ماشین هایی را که

می توانند از پل عبور کنند نشان می دهند، کدام یک از ماشین ها مجاز است از روی پل بگذرد؟



(۱) ماشینی به عرض ۲۱۵ سانتی متر و جرم ۴۴۰۰ کیلوگرم

(۲) ماشینی به عرض ۳۲۰ سانتی متر و جرم ۴۲۵۰ کیلوگرم

(۳) ماشینی به عرض ۳۳۰ سانتی متر و جرم ۴۲۰۰ کیلوگرم

(۴) ماشینی به عرض ۳۲۵ سانتی متر و جرم ۴۲۵۰ کیلوگرم

خودارزیابی

خیلی خوب خوب قابل قبول نیاز به تلاش



توانایی محاسبه حاصل جمع و تفریق های مختلف با روش فرآیندی



توانایی محاسبه حاصل جمع و تفریق های چهار رقمی مختلف با روش تکنیکی

