



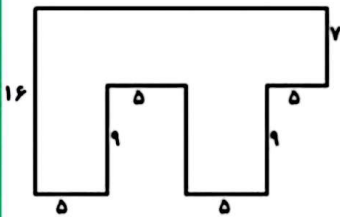
موضوع:

تاریخ

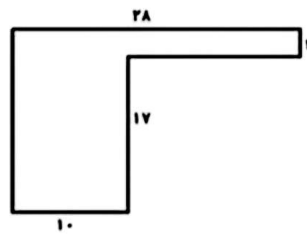
نام و نام خانوادگی

هدف:

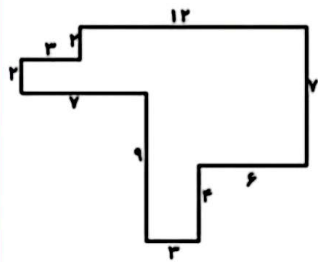
محیط شکل های زیر را بدست آورید .



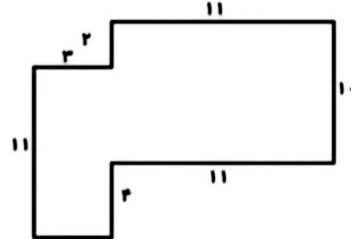
محیط = .....



محیط = .....



محیط = .....



محیط = .....

قطر شکل های زیر را رسم کنید و تعداد آن ها را زیر هر شکل بنویسید



.....



.....



.....



.....

محیط مربعی به اضلاع ۶ سانتی متر را بدست آورید .



بازخورد:

.....

.....

