



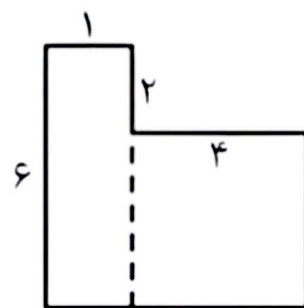
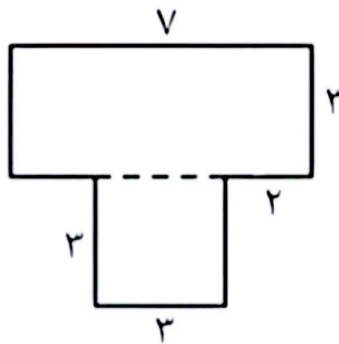
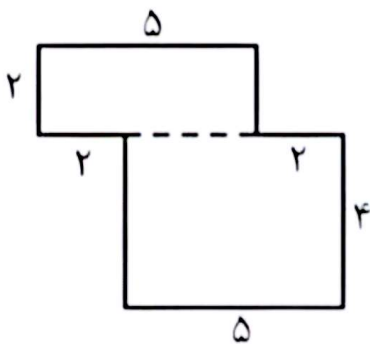
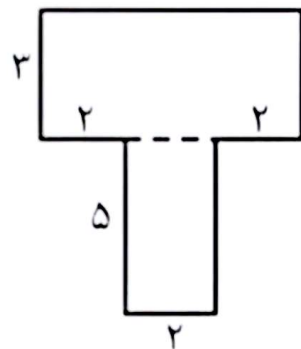
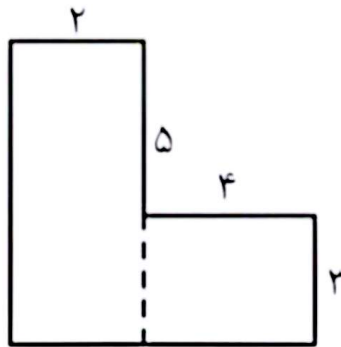
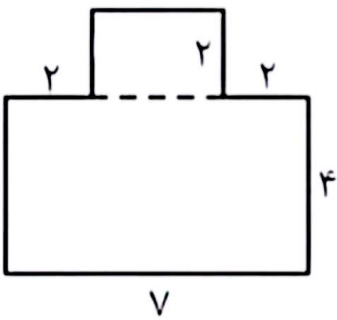
موضوع:

تاریخ:

نام و نام خانوادگی:

هدف:

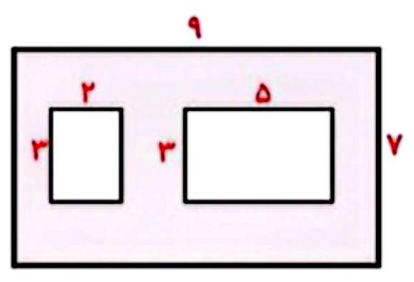
محیط شکل های زیر را به دست آورید.



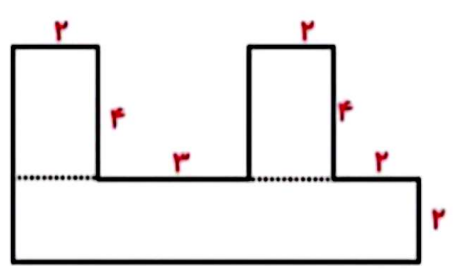


نام و نام خانوادگی: _____
 تاریخ: _____
 موضوع: _____
 هدف: _____

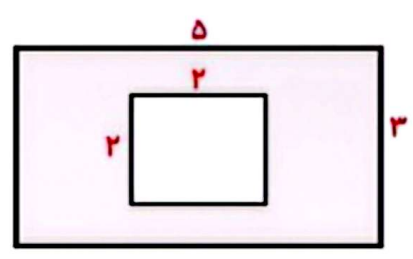
مساحت شکل های زیر را بدست آورید .



مساحت قسمت رنگی =



مساحت =



مساحت قسمت رنگی =





موضوع:

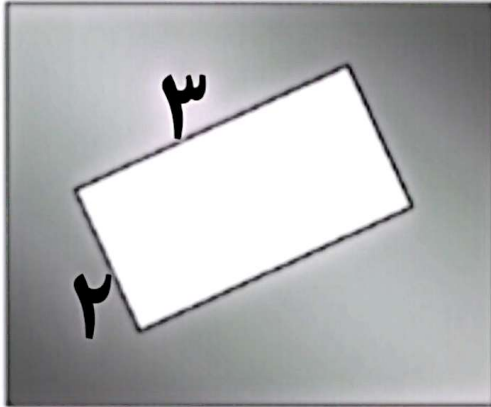
تاریخ

نام و نام خانوادگی

هدف:

مساحت قسمت رنگی را به دست آورید.

۵ س



جمع و تفریق های زیر را به روش فرآیندی حل کنید.

$$\begin{array}{r} ۲ \quad ۷ \quad ۴ \quad ۹ \\ - ۲ \quad ۴ \quad ۵ \quad ۱ \\ \hline \end{array}$$

$$\begin{array}{r} ۴ \quad ۵ \quad ۱ \quad ۲ \\ + ۴ \quad ۶ \quad ۲ \quad ۹ \\ \hline \end{array}$$

