

ارمغان هفته - سوم دبستان

شماره‌ی

۲۴

نام و نام خانوادگی: تاریخ: نام آموزگار:

ریاضی < فصل ۶: جمع و تفریق تکیکی

علوم < درس ۱۱: بکارید و ببینید

فارسی < درس ۱۴ و ۱۵: بوی سیب، حکایت خروس ایرانی قرآن < فصل ۳: انس با قرآن کریم (۱۱)

مطالعات اجتماعی < درس ۱۸: خانه‌ها با هم تفاوت دارند.

هدیه‌های آسمان < درس ۱۵: همسفر ناشناس

ریاضی

عبارت جمعی را که شکل زیر نشان می‌دهد در جدول ارزش مکانی بنویسید.

	یکان	دهگان	صدگان	هزارگان
	۲	۵	۴	۳
+	۳	۳	۳	۲
	۵	۸	۷	۵



حاصل جمع و تفریق‌های زیر را بدست آورید.

$$\begin{array}{r} 4000 \\ + 1387 \\ \hline 5387 \end{array}$$

$$\begin{array}{r} 5491 \\ + 2502 \\ \hline 7993 \end{array}$$

$$\begin{array}{r} 3940 \\ + 1417 \\ \hline 5357 \end{array}$$

$$\begin{array}{r} 6630 \\ + 4050 \\ \hline 10680 \end{array}$$

۳ در جاهای خالی عدد مناسب بگذارید.

ه	ص	د	ی
۲	۴	۷	۱
+	۳	۱	۵
۵	۵	۸	۶

۴ در یک کارگاه صنایع دستی، یک هنرمند ۴۳۵۱ ظرف را رنگ کرده است. اگر ۲۵۶۰ تای آنها مربوط به ماه گذشته باشند او در این ماه چند ظرف رنگ کرده است؟ ۱۷۹۱ ظرف

$$\begin{array}{r}
 4351 \\
 - 2560 \\
 \hline
 1791
 \end{array}$$

۵ از دریاچه‌ای ۳۱۰۹ ماهی قزل‌آلا و ۲۳۴۵ ماهی کفال و ۹۰۸ ماهی کپور صید شده است. چند ماهی از این دریاچه صید شده است؟ ۶۳۶۲ ماهی

$$\begin{array}{r}
 3109 \\
 + 2345 \\
 + 908 \\
 \hline
 6362
 \end{array}$$





عباس آقا زمینی به شکل مستطیل دارد. او می‌خواهد دور تا دور زمینش را با سیم خاردار ببندد تا کسی نتواند بدون اجازه وارد زمینش شود. اگر طول زمینش ۱۰ متر و عرض آن نصف طولش باشد، او چند متر سیم خاردار باید تهیه کند؟

$$10 \div 2 = 5$$

$$2 \times (10 + 5) = 30 \text{ متر}$$



۵

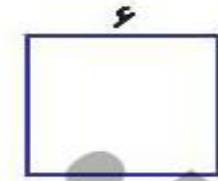

۱۰




عبارت روبه‌رو مربوط به محیط کدام شکل است؟ آن را رنگ بزنید.

$$(2 \times 9) + (2 \times 6)$$

۱۵



با توجه به ریشه‌ی گیاه، گل و برگ مناسب برای این گیاه را انتخاب کرده و بچسبانید.



ریشه‌ی راست



جدول زیر را کامل کنید.



گل	برگ	ساقه	ریشه	دانه	نام گیاه
۴ یا ۵ و مضرب‌های آن	پهن	نازک توپر	راست	دو قسمتی	کدو
۴ یا ۵ و مضرب‌های آن ها	پهن	نازک توپر	راست	دو قسمتی	لوییا
۳ یا ۶ و مضرب‌های آن	باریک و دراز	نازک توخالی	افشان	یک قسمتی	بادمجان
۳ یا ۶ و مضرب‌های آن ها	باریک و دراز	نازک توخالی	افشان	یک قسمتی	گندم

تصویر زیر را با دقت نگاه کنید.



الف) نام گیاه چیست؟ درخت سرو

ب) نوع برگ آن چگونه است؟ سوزنی

پ) نوع میوه‌ی آن چگونه است؟ مخروط

ت) نوع دانه‌ی آن چگونه است؟ بالدار

ث) یک گیاه دیگر مانند آن نام ببرید. کاج



۴ من چیستم؟

الف) گیاهی هستم که از پرچم من برای معطر کردن غذا استفاده می‌شود. **زعفران**

ب) گیاهی هستم که برگ‌های باریک و درازی دارم ولی ساقه‌ی چوبی کلفتی دارم. **زیتون**

پ) گیاهی هستم با دانه‌ی تک قسمتی که روغن من هم طرفدار زیادی دارد. **کنجد**

ت) گیاهی هستم با گل زرد بزرگ که دانه‌ی من درون گلم می‌باشد و مصرف خوراکی دارد. **آفتابگردان**

فارسی

۱ با توجه به متن درس «ایران آباد»، کلماتی که نشانه‌های زیر را دارند را بنویسید.

ض ض	ط	ظ	ث
موضوع - اعضای	طرف - مناطق - وطن مصطفی - طول	نظر - حفظ - وظیفه	بحث - باعث

۲ هدف فرماندهی ایرانی از آوردن خروس در حکایت «خروس ایرانی»، چه بود؟

می‌خواست قوی بودن سربازان ایرانی را نشان دهد.



با توجه به متن «بوی سیب و یاس، به سؤالات زیر پاسخ کوتاه دهید.

الف) پدربزرگ امید در آزادسازی کدامیک از شهرهای ایران دلاورانه جنگیده بود؟ **خرمشهر**

ب) روز آزادسازی «خرمشهر، چه روزی است؟ **روزی که دشمن از ما شکست خورد.**

پ) تصویر تابلویی که روی میز سر کوچه قرار داشت، چه بود؟ **مسجد خرمشهر**

ت) نام کوچه در داستان «بوی سیب، چه بود؟ **شهید رستمی**

ث) نویسنده‌ی داستان «بوی سیب و یاس، چه کسی است؟ **مژگان بابامرندی**



درس چهاردهم را با دقت بخوانید و واژه‌های خواسته شده را پیدا کرده و بنویسید.

الف) دو کلمه‌ی جمع: **دانش آموزان و ایرانیان**

ب) دو کلمه که در آخر «انه، دارند: **دلاورانه و شجاعانه**

پ) دو کلمه که در آخر «گی، دارند: **زندگی و همبستگی**

ت) سه کلمه که ابتدای آن‌ها «هم، دارد: **همبستگی و همدلی و همکاری**



مطالعات اجتماعی

درستی و نادرستی هر عبارت را مشخص کنید.

الف) زهرا هنگام خروج از کلاس چند تکه زباله‌ای که دوستش جا گذاشته بود را در سطل زباله انداخت.

ب) علی به دوستش که مریض شده بود و چند روز به مدرسه نیامده بود برای یادگیری بهتر دروس کمک نکرد.

پ) بچه‌های کلاس به کمک یکدیگر کلاس را تمیز نگه می‌دارند.

الف) کدام‌یک از بخش‌های مدرسه‌ی خود را دوست دارید؟

ب) آیا دوست دارید در آینده شغلی در مدرسه داشته باشید؟ به چه دلیل؟

جاهای خالی را با دقت کامل کنید.

الف) مدرسه خانه‌ی ما است.

ب) مدرسه جای خواندن قرآن و نماز و درس خواندن است.

پ) کارکنان مدرسه با هم همکاری می‌کنند تا دانش‌آموزان درس بخوانند.

هدیه‌های آسمان - قرآن





۱ به چه دلیل امام سجاد (ع) به زمین‌العابدین، معروف شده است؟






به دلیل عبادت زیاد، زینت عبادت کنندگان بود.

۲ آرامگاه امام سجاد (ع) در کدام شهر و کدام قبرستان قرار دارد؟ شهر مدینه، قبرستان بقیع

۳ یک دعا از امام سجاد (ع) که در صحیفه‌ی سجادیه آمده است را بنویسید.

خدایا، کمک کن تا به مردم خدمت کنم.

	درک مطلب
	واژه‌شناسی
	مکان‌های مختلف و قوانین مدرسه
	آشنایی با امام چهارم

	جمع و تفریق تکنیکی
	مسائل جمع و تفریق
	محیط مستطیل
	دسته‌بندی گیاهان از نظر ریشه، دانه، برگ، ساقه و گل
	گیاهان مخروط‌دار

شاخص‌ها

-  خیلی خوب
-  خوب
-  قابل قبول
-  نیاز به تلاش بیشتر

کتاب ریاضی

ریاضی

صفحه ی ۱۳۰



مرور فصل

فرهنگ نوشتن



۱- نمودار دایره‌ای در تمرین ۳ صفحه‌ی ۱۲۶ را چگونه رنگ کردید؟ توضیح دهید.

هر قسمت از دایره را ۵۰ نفر در نظر گرفتیم و با توجه به

نمودار ستونی دایره را رنگ کردیم.

۲- دو جمله بنویسید که در آن‌ها کلمه‌ی «احتمال» یا «شانس» به کار رفته باشد.

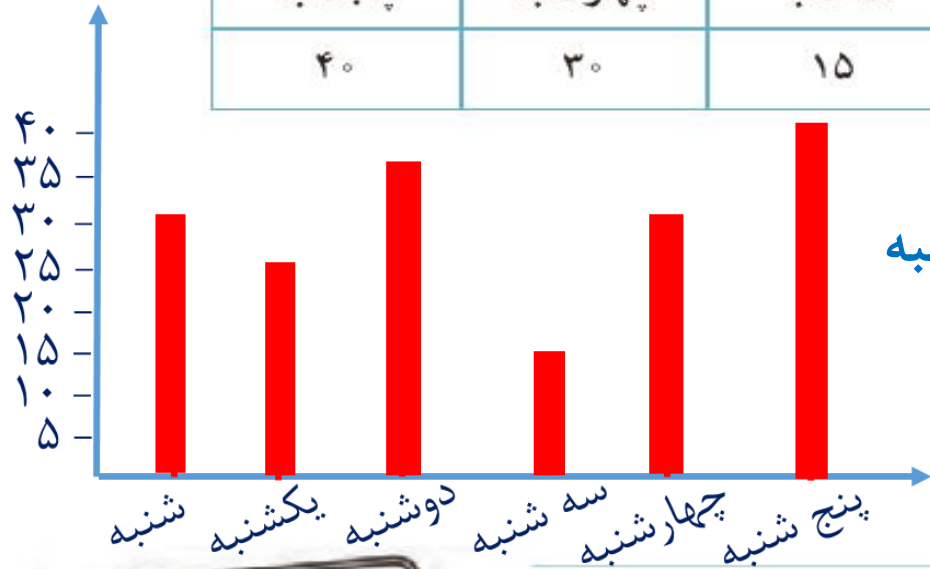
احتمال بارش باران در فصل تابستان، کم است.

شانس رنگ قرمز در چرخنده زیاد بود.



۱- مغازه‌داری تعداد بطری‌های شیر را که در روزهای مختلف هفته فروخته، در جدول زیر ثبت کرده است.

روز	شنبه	یکشنبه	دوشنبه	سه‌شنبه	چهارشنبه	پنجشنبه
تعداد بطری‌ها	۳۰	۲۵	۳۵	۱۵	۳۰	۴۰



اطلاعات جدول را در یک نمودار ستونی قرار دهید.

این مغازه‌دار در چه روزی کمترین مقدار شیر را فروخته است؟
چرا روز پنجشنبه فروش شیر بیشتر بوده است؟

چون جمعه تعطیل است.

به نظر شما، بهتر است این مغازه‌دار هر روز چند بطری شیر

برای فروش بیاورد؟ تقریباً ۳۰ چرا؟

چون بیشتر روزها نزدیک به این تعداد فروخته است.

