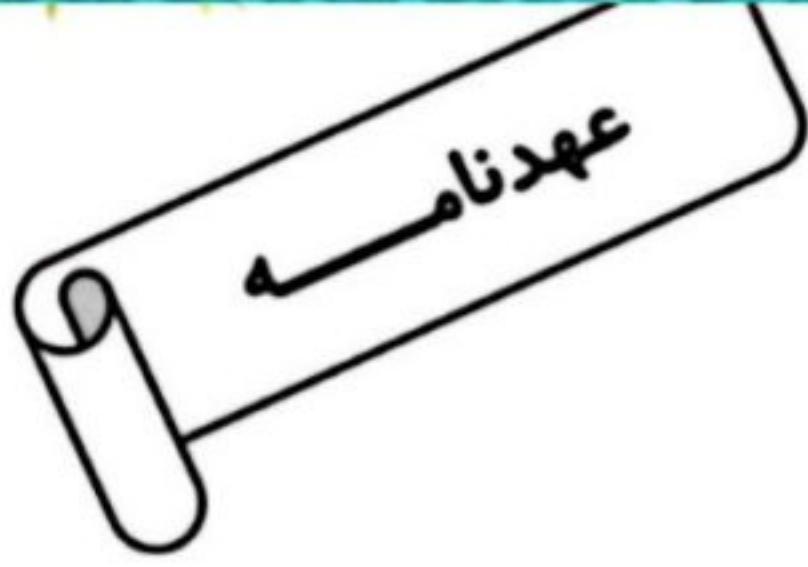


موضوع: کاربرد عیدانه

تاریخ

نام و نام خانوادگی

هدف: مرور



پسرهای نازنین من

میان اسال یک کار مهم، جالب و جذاب انجام بدیم.

این رازی است من و تو و خدا

میان با هم عهدی با خدا می‌ندیم:

اول من:

بهترین عهدم در اسال نو با خدا این است:

(که اسال را بهترین سال عمرم خواهم ساخت)

حالا نوبت شماست:

تو اسال با خدایت چه عهدی می‌بندی؟

(در یک بند به شکلی زیبا برایم بنویس)

Blank area for writing the answer.



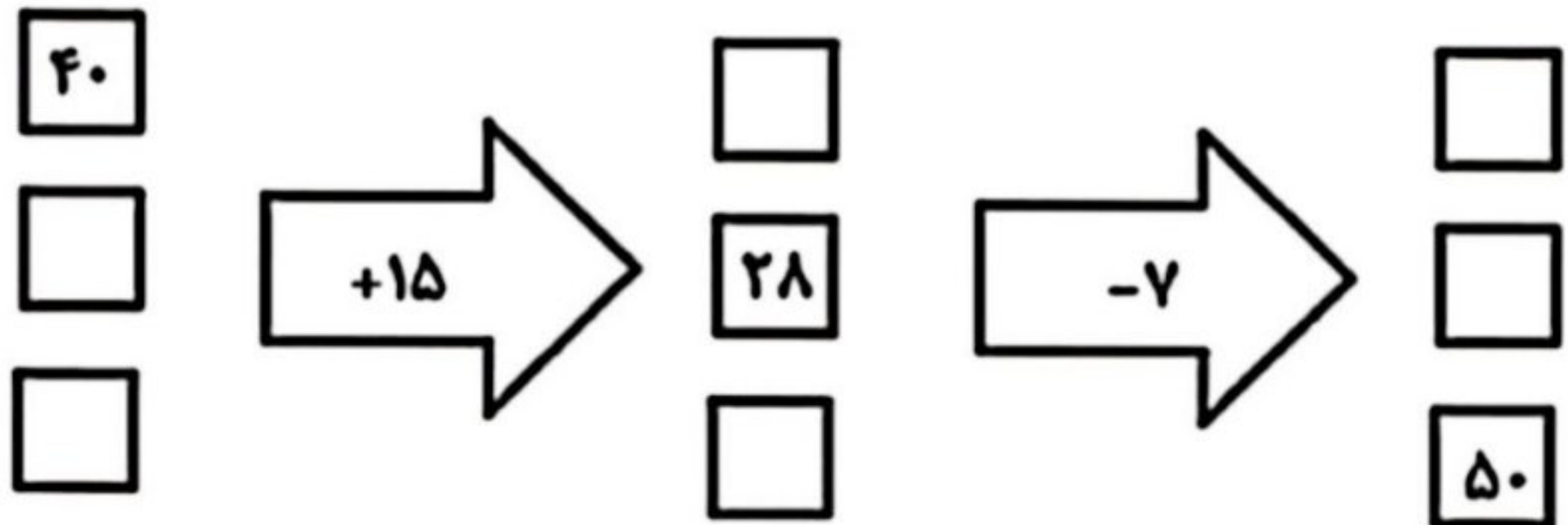
موضوع: کاربرد عیدانه

تاریخ

نام و نام خانوادگی

هدف: مرور

۱- ماشین ورودی-خروجی زیر را با دقت انجام دهید.



۲- الگوی عددی را رو به عقب ادامه بده.

..... ، ۳۳ ، ۳۹ ، ۴۵

۳- هتلی در تهران ۵ طبقه دارد. بالاترین طبقه‌ی آن ۳ واحد دارد. هر واحد ۲ پنجره دارد. هر طبقه

که پایین می‌رویم ۲ واحد به واحدها اضافه می‌شود.

الف) بالاترین و پایین‌ترین طبقه چند واحد دارد؟

ب) در بالاترین و پایین‌ترین طبقه چند پنجره وجود دارد؟

ج) چه الگویی بین تعداد پنجره‌های طبقات متوالی وجود دارد؟

شماره طبقه					
تعداد واحد					
تعداد پنجره					



موضوع:

تاریخ:


نام و نام خانوادگی:

هدف:



۴- برای شکل مقابل ۳ کسر مساوی بنویس.

۵- کدام دو شکل دو کسر مساوی را نشان می دهند؟



۶- با رسم شکل تساوی کسرها را نشان بده.

$$\frac{1}{3} = \frac{2}{6}$$

۷- زاویه ی شکل های زیر را مشخص کنید.



۸- زهرا و فاطمه دو پارچه ی هم اندازه دارند. زهرا $\frac{4}{10}$ و فاطمه $\frac{1}{10}$ پارچه ی خود را گلدوزی کردند. اگر بخواهند در فضای باقی مانده پولک دوزی کنند در کدام پارچه فضای بیشتری برای پولک دوزی دارند؟ چرا؟

بازخورد:

A large dashed-line box for providing feedback.





موضوع: کاربرد عیدانه

تاریخ

نام و نام خانوادگی

هدف: مرور

زمان داده شده
را روی ساعت نشان
بده و عقربه بکش.



۱۹:۴۵



۱۷:۲۵



۱۴:۳۰

بازخورد:

Blank area for student feedback.



موضوع: کاربرد عیدانه

تاریخ

نام و نام خانوادگی

هدف: مرور

عددها را به حروف بنویسید.



پر کردن





موضوع: کاربرد عیدانه


تاریخ

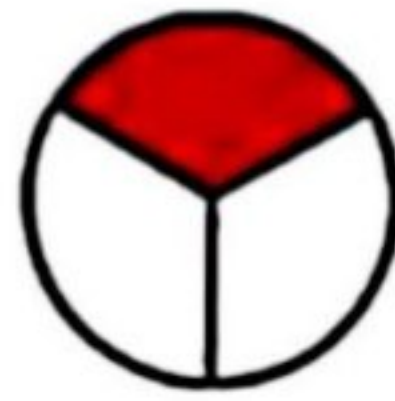
نام و نام خانوادگی

هدف: مرور



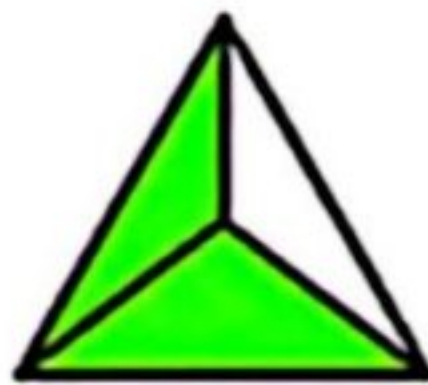
در هر شکل چه کسری رنگ شده است؟

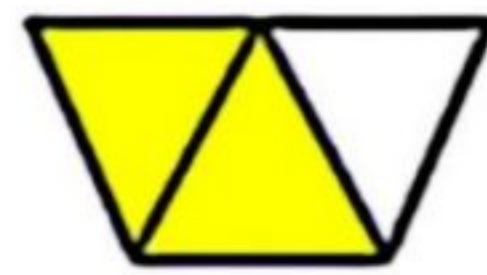
















موضوع: کاربرد عیدانه

تاریخ

نام و نام خانوادگی

هدف: مرور



$$4 \times 7 =$$

$$16 \div 8 =$$

$$5 \times 4 =$$

$$24 \div 6 =$$

$$6 \times 3 =$$

$$32 \div 4 =$$

$$9 \times 2 =$$

$$49 \div 7 =$$

$$3 \times 8 =$$

$$54 \div 6 =$$

$$5 \times 5 =$$

$$14 \div 2 =$$

$$8 \times 6 =$$

$$81 \div 9 =$$

$$7 \times 9 =$$

$$21 \div 3 =$$

بازخورد:

Blank area for student feedback or comments.





موضوع: کاربرد عیدانه


تاریخ

نام و نام خانوادگی

هدف: مرور



محیط و مساحت
شکل های زیر را
حساب کنید.



محیط
مساحت



محیط
مساحت

بازخورد:

Blank area for student feedback.



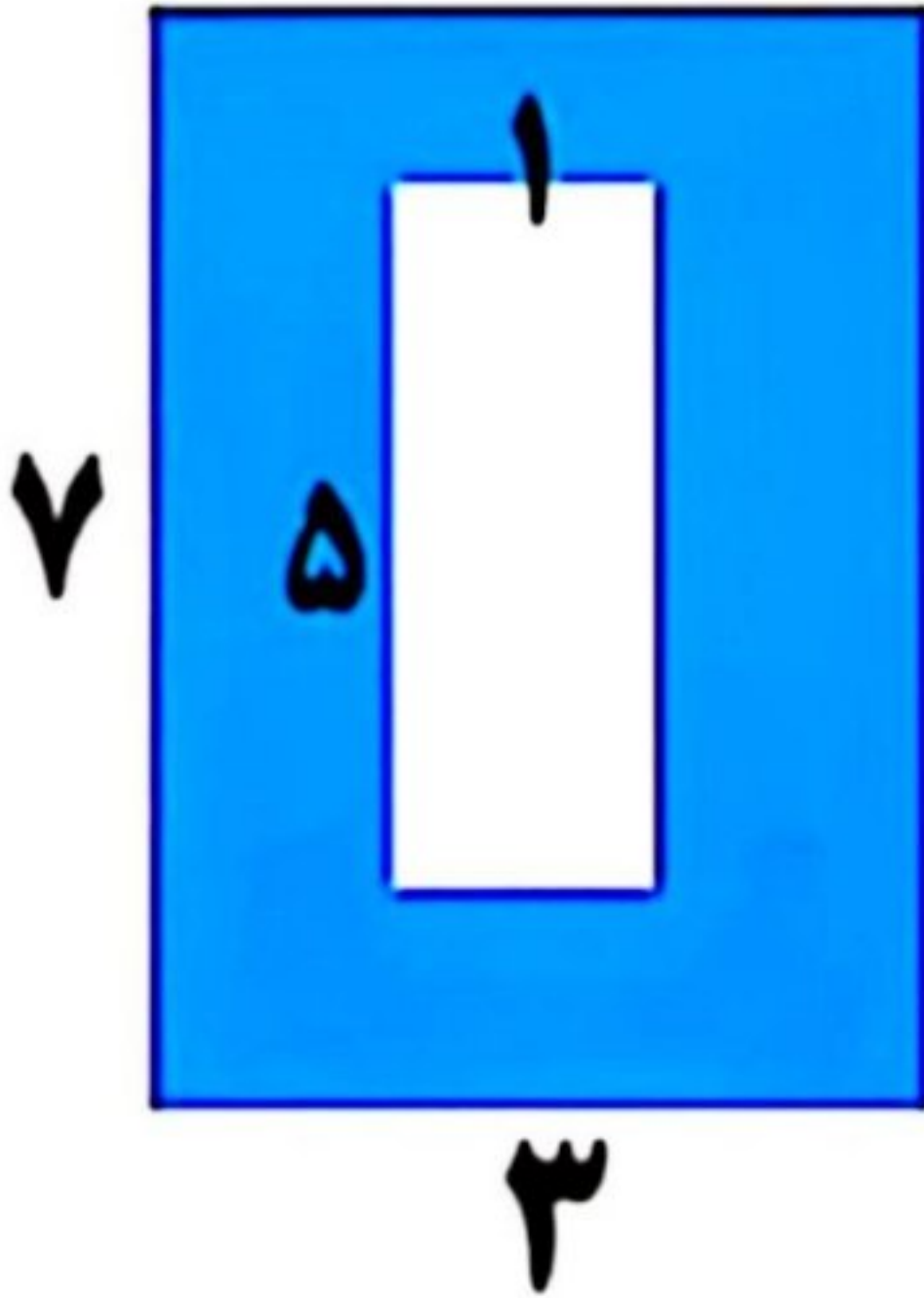


موضوع: کاربرد عیدانه

تاریخ

نام و نام خانوادگی

هدف: مرور



بازحورد:

Blank writing area with a dashed border and horizontal lines.



موضوع: کاربرد عیدانه

تاریخ

نام و نام خانوادگی

هدف: مرور

محیط یک مربع ۲۸ سانتی متر
است. هر ضلع مربع چند
سانتی متر است؟

رسم

بازخورد:





موضوع: کاربرد عیدانه

تاریخ

نام و نام خانوادگی

هدف: مرور

جمع یا تفریق کن .

$$\begin{array}{r} ۲۳۴۶ \\ + ۱۲۴۵ \\ \hline \end{array}$$

$$\begin{array}{r} ۷۳۴۹ \\ - ۲۱۵۲ \\ \hline \end{array}$$



بازخورد:

Blank area for feedback.





موضوع: کاربرد عیدانه

تاریخ

نام و نام خانوادگی

هدف: مرور



وارد کردن نیرو چه تغییراتی در جسم به وجود می آورد؟

بازیافت را مختصر توضیح بده.

حرام یعنی:

واجب یعنی:

عددی را سه برابر کردیم سپس حاصل آن را با ۴۰ جمع کرده ایم.

جواب آن ۱۳۰ شده. آن عدد چیست؟

$$(\dots \times 3) + 40 = 130$$

با ترکیب حرف آخر واژه ها یک کلمه ی جدید بساز تا بتوانی به کلید دست پیدا کنی.

خیام - طمع - مین - حاجت

بازخورد:

Blank dashed box for feedback.





موضوع: کاربرد عیدانه

تاریخ

نام و نام خانوادگی

هدف: مرور



حالا  به کمک شما نیاز داره تا بتونه خیلی زود جواب ها رو بنویسه و به قالب  برسه. در پایان تو هم به کلیدت می رسی.

۱- بزرگ ترین عدد ۴ رقمی غیر تکراری منهای (-) کوچک ترین عدد فرد ۴ رقمی. (فرآیندی)



۲- مقدار تقریبی عبارت با حذف یکان ، دهگان و صدگان. $2345 + 4215$

۳- تعداد رکعت های نماز واجب مسلمانان (منهای) تعداد روزهای هفته (+) ۵

۴- زین العابدین لقب امام چندم ماست؟ آن را در عدد سنی که امام باقر(ع) در کربلا حاضر بودند ضرب (×) کن.

۵- رقم صدگان سؤال اول رو در رقم هزارگان پاسخ دوم ضرب کن. از جواب سؤال ۳ تا کمک کن. بعد اون رو در عدد ۵ تقسیم کن. حالا رسیدی به کلید.



بازخورد:





موضوع:

تاریخ

نام و نام خانوادگی

هدف:

۲ کیلومتر چند متر است؟.....چرا؟

۷ کیلومتر و ۳۵ متر برابر است با.....

۹ کیلومتر و ۳ متر برابر است با.....

۶ کیلومتر و ۶۰ متر برابر است با.....

۵۰۰۰ متر چند کیلومتر است؟.....چرا؟

۴۵۹۰ متر برابر است با..... کیلومتر ومتر

۳۰۱۰ متر برابر است با..... کیلومتر ومتر

۸۰۰۴ متر برابر است با..... کیلومتر ومتر

۹۸۹ متر برابر است با..... کیلومتر ومتر

بازخورد:

Blank rounded rectangular box for feedback.



موضوع:

تاریخ:

نام و نام خانوادگی:

هدف:



عنا

به نام خدا
بیش دبستان و دبستان پسرانه
(شعبه تهران شرق)

نام و نام خانوادگی:



آزمون جامع ضرب

$5 \times 7 =$	$7 \times 8 =$	$6 \times 10 =$
$1 \times 2 =$	$4 \times 2 =$	$9 \times 2 =$
$2 \times 2 =$	$8 \times 2 =$	$8 \times 10 =$
$8 \times 6 =$	$2 \times 2 =$	$2 \times 8 =$
$2 \times 1 =$	$9 \times 7 =$	$8 \times 8 =$
$4 \times 1 =$	$4 \times 9 =$	$4 \times 2 =$
$5 \times 4 =$	$8 \times 7 =$	$5 \times 6 =$
$6 \times 8 =$	$5 \times 2 =$	$6 \times 5 =$
$6 \times 2 =$	$4 \times 2 =$	$10 \times 2 =$
$2 \times 7 =$	$9 \times 8 =$	$9 \times 9 =$
$4 \times 8 =$	$5 \times 10 =$	$2 \times 4 =$
$5 \times 1 =$	$6 \times 6 =$	$5 \times 9 =$
$7 \times 2 =$	$7 \times 2 =$	$6 \times 7 =$
$7 \times 9 =$	$9 \times 5 =$	$7 \times 1 =$
$8 \times 9 =$	$7 \times 2 =$	$7 \times 7 =$
$8 \times 2 =$	$7 \times 10 =$	$4 \times 10 =$
$9 \times 1 =$	$5 \times 7 =$	$2 \times 2 =$
$2 \times 6 =$	$2 \times 5 =$	$8 \times 2 =$
$9 \times 6 =$	$7 \times 6 =$	$4 \times 5 =$
$5 \times 2 =$	$4 \times 4 =$	$5 \times 2 =$
$8 \times 5 =$	$8 \times 4 =$	$2 \times 10 =$
$6 \times 2 =$	$6 \times 1 =$	$9 \times 2 =$
$8 \times 1 =$	$9 \times 2 =$	$5 \times 8 =$
$4 \times 6 =$	$6 \times 9 =$	$6 \times 4 =$
$9 \times 10 =$	$7 \times 4 =$	$4 \times 7 =$
$5 \times 10 =$	$9 \times 4 =$	$2 \times 9 =$






موضوع:

تاریخ

نام و نام خانوادگی

هدف:

محیط شکل های زیر را حساب کنید.



بازخورد:

A large dashed-line box for providing feedback.





موضوع:

تاریخ

نام و نام خانوادگی

هدف:

۷
۴۵

۸
۷۴

۲
۵
۶
۳
۵
فراپیندی

۵
۳
۱
۳
۱
تکنیکی

بازخورد:

