



# ارمغان هفته - سوم دبستان

نام و نام خانوادگی: ..... تاریخ: ..... نام آموزگار: .....

مطالعات اجتماعی ← نوروز  
هدیه‌های آسمان ← نوروز  
قرآن ← نوروز

ریاضی ← نوروز  
علوم ← نوروز  
فارسی ← نوروز

## ریاضی

بعد از پیدا کردن کاری که هر ماشین انجام می‌دهد، جاهای خالی را کامل کنید.

۱۵
۱۹



۲۱
۳۷
۵۳

۱۸
۴۳



۳
۵۹
۶۴

با رسم شکل تساوی دو کسر  $\frac{1}{2}$  و  $\frac{4}{8}$  را نشان دهید.



۳ اگر قیمت یک عدد سبزه‌ی سفره‌ی هفت‌سین ۵۰۰۰ تومان باشد:

الف) با ۱۵۰۰۰ تومان چند سبزه می‌توان خرید؟

ب) قیمت یک سبزه چند ریال است؟

۴ تمام اعداد سه رقمی با صدگان ۷ و یکانی که ۳ واحد از دهگان بیش‌تر باشد را بنویسید.

۵ در جدول زیر حروف الفبای فارسی امتیازبندی شده‌اند. امتیاز هر کلمه براساس ضرب اعداد ساخته می‌شود. به عدد توجه کرده سپس بگویید هر کلمه چند امتیاز دارد؟ و در آخر اسم خودتان را امتیاز دهید.

۳ امتیاز

ر ز ژ س

۶ امتیاز

چ چ ح خ د ذ

۲ امتیاز

ا ب پ ت ث

۸ امتیاز

ل م ن و ه ی

۵ امتیاز

ع غ ف ق ک گ

۴ امتیاز

ش ص ض ط ظ

اسم خودتان ←

سرم ←

شاد ←

باغ ←  $2 \times 2 \times 5 = 20$

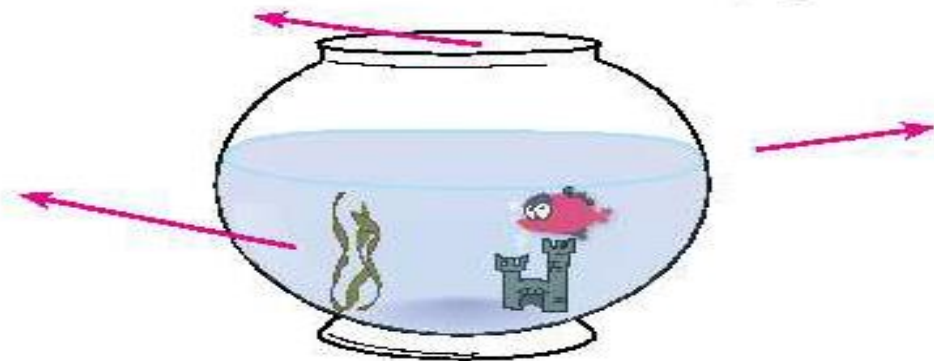
طرز ←

شصت ←

مو ←

## علوم

۱ قسمت‌های جامد، مایع و گاز را مشخص کنید.



۲ کدامیک از آب‌های زیر شور و کدامیک شیرین است؟

رودخانه: .....

لوله‌کشی: .....

اقیانوس: .....

دریا: .....

۳ نام گروه‌های هرم غذایی زیر را بنویسید.





آهن یکی از مواد اصلی تشکیل دهنده‌ی خون است و کمبود آن باعث کم‌خونی، خستگی و بی‌حوصلگی می‌شود.

پ	گ	ر	د	و	ا
ر	ب	ک	ر	ف	س
ت	ا	ف	خ	پ	د
ق	د	ن	ر	ی	ن
ا	ا	د	م	ا	ش
ل	م	ق	ا	ز	ل
ا	ن	گ	و	ر	ا

کلسیم برای رشد و محکم شدن استخوان‌ها و دندان‌ها لازم است.

اکنون که عید است خوب است بدانید خوراکی‌هایی مثل کرفس، فندق، گردو، بادام،

پیاز، انگور و پرتقال دارای کلسیم هستند و خوراکی‌هایی از قبیل خرما، کرفس،

گردو، انگور، پرتقال، اسفناج دارای آهن هستند.

این خوراکی‌ها را در جدول پیدا کرده و مواد دارای آهن را قرمز و مواد دارای کلسیم

را زرد کنید و در عید بسیار بخورید.

### فارسی



قسمت‌های ناقص شعر را با معلومات خود کامل کنید.

ابر در حال سفر

در غروب و در طلوع



۲ مخفف عبارات زیر را به جمله‌ی کامل آن وصل کنید.

حضرت فاطمه (س)

حضرت علی (ع)

حضرت محمد (ص)

حضرت سلیمان (ع)

حضرت زینب (س)

علیه السلام

صلی الله علیه و آله

سلام الله علیها

۳ با کلمه‌های داده شده یک بند با موضوع بهار بنویسید.

بهار - گوشه‌ای - تحویل - سفره

---

---

---

---

---





تمام چیزهایی را که در سفره هفت‌سین قرار می‌دهید را از جدول پیدا کنید و بنویسید.

ن	ه	ک	س	م	ب	ی	س	ق	گ
ی	گی	ن	ر	غ	ر	م	م	خ	ت
ا	و	ه	ک	ا	د	ج	ن	س	س
ر	ی	س	ه	ر	ف	س	و	ر	م
ه	ز	ب	سی	ه	ن	ی	ی	آ	ا
ج	د	ظ	ف	ا	ح	ن	آ	ر	ق

.....
.....
.....
.....
.....

.....
.....
.....
.....
.....

**مطالعات اجتماعی**



الف) آیا وجود مقررات در زندگی لازم است؟

.....

ب) چند مورد از مقررات منزل خودتان را بنویسید.

.....



در رابطه با صرفه‌جویی گزینه‌ی صحیح را با  مشخص کنید.


الف) هنگام خرید سعی کنیم از کیسه‌های کم‌تری استفاده کنیم.

ب) در هنگام شست‌وشوی ماشین از شلنگ آب استفاده کنیم.





در ایام نوروز به هر کجا سفر می‌کنید تصویری از شکل خانه‌ها را نقاشی کرده و در چند سطر آداب و رسوم آن شهر را توضیح دهید.



### هدیه‌های آسمان - قرآن

پسرخ سوالات زیر را در جدول روبه‌رو رنگ کنید و با استفاده از کلمات باقی‌مانده رمز جدول را بنویسید.



الف) امام چهارم شیعیان

ب) به ما محرم است.

پ) روزه گرفتن بر مؤمنان ..... است.

ت) دختران در مقابل نامحرم باید ..... داشته باشند.

رمز جدول : .....







ه	ب	س	ع
ب	ا	ج	م
ب	ج	ا	و
ا	ح	د	ر










۲ اذکار نماز را به نام آن ذکر وصل کنید. (یک مورد اضافه است).

- سبحان ربی العظیم و بحمده
- استغفر الله ربی و اتوب الیه
- سمع الله لمن حمده
- استغفار
- رکوع
- سجده
- قیام

۳ خداوند از ما می خواهد قبل از نماز چه کارهایی را انجام دهیم؟

	بند نویسی
	حروف مخفف
	مقررات
	صرفه جویی
	قوانین دین اسلام
	اذکار نماز

	ماشین اعداد
	تساوی کسر
	عدد نویسی
	ضرب و مسائل ضرب
	حالت های مواد
	هرم غذایی
	مواد غذایی

شاخص ها

-  خیلی خوب
-  خوب
-  قابل قبول
-  نیاز به تلاش بیشتر

۴

