



موضوع: کاربردگ عیدانه (۱)

تاریخ

نام و نام خانوادگی

درس: ریاضی

۱- مریم ۴۳۵۰ تومان پول داشت. او ۱۲۴۰ تومان از پول هایش را در صندوق صدقات انداخت. چند تومان دیگر برایش باقی مانده است؟



۲- با رقم های ۸، ۰، ۴ و ۳ کوچکترین و بزرگترین عدد چهاررقمی را بنویس و اختلاف آن ها را پیدا کن.

کوچکترین: .....

بزرگترین: .....

۳- در جاهای خالی عدد مناسب بنویس.

برای مقایسه ی دو عدد چهاررقمی ابتدا رقم ..... آن ها را با هم مقایسه می کنیم.

مثلی که فقط دو ضلع برابر دارد، مثلث ..... نام دارد.

محیط مستطیل برابر است با ( عرض  $\times$  ..... ) + ( .....  $\times$  ۲ )

عدد ۲۸۳۷ با حذف رقم یکان و دهگان برابر با ..... است.



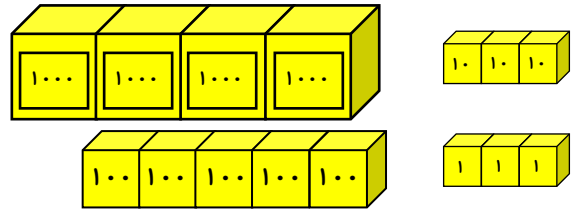
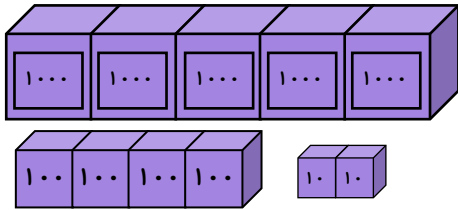
موضوع: کاربردگ عیدانه (۱)

تاریخ

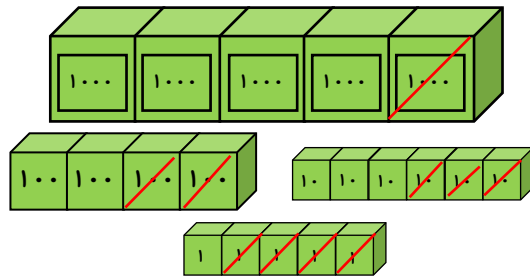
نام و نام خانوادگی

درس: ریاضی

۴- برای شکل زیر جمع و تفریق مناسب بنویس.




..... + ..... = .....




..... - ..... = .....


۵- تعداد قطره‌های کدام یک از شکل‌های زیر از همه بیشتر است؟




۱۰۰ ضلعی



۵۰ ضلعی



۱۲۰ ضلعی



۸۱ ضلعی