



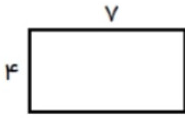
موضوع: اردوی نوروز

تاریخ

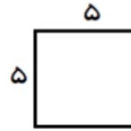
نام و نام خانوادگی

هدف: تکرار و تمرین فصل پنجم ریاضی (محیط و مساحت)

محیط و مساحت شکل های زیر را حساب کنید.

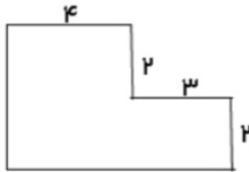


محیط:
مساحت:



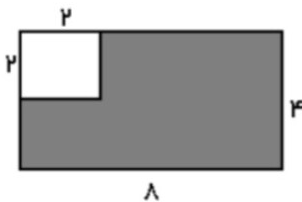
محیط:
مساحت:

ابتدا اندازه ی ضلع هایی را که داده نشده است، پیدا کنید. سپس ، محیط و مساحت شکل را به دست آورید.



محیط:
مساحت:

مساحت قسمت رنگی شکل زیر را به دست آورید.



مساحت مستطیلی ۴۸ سانتی متر مربع است. اگر یک ضلع آن ۶ سانتی متر باشد، ضلع دیگرش چند سانتی متر است؟ (با رسم شکل)

پدر علی یک فرش ۷ در ۹ متر خریده است. مساحت این فرش چند متر مربع است؟ (با رسم شکل)

