



ارمغان هفته - سوم دبستان

نام و نام خانوادگی: تاریخ: نام آموزگار:

- ریاضی ← نوروز
- علوم ← نوروز
- فارسی ← نوروز
- مطالعات اجتماعی ← نوروز
- هدیه‌های آسمان ← نوروز
- قرآن ← نوروز

ریاضی

۱ بعد از پیدا کردن کاری که هر ماشین انجام می‌دهد، جاهای خالی را کامل کنید.

۱۵
۳۱
۱۹
۴۷

→


۲۱
۳۷
۲۵
۵۳

→

۱۸
۴۳
۷۴
۷۹

→

۳
۲۸
۵۹
۶۴



۲ با رسم شکل تساوی دو کسر $\frac{1}{4}$ و $\frac{4}{8}$ را نشان دهید.

$$\frac{1}{4} = \frac{2}{8}$$

مردگان	بچه‌ها	مردگان
✓	۵	۳
✓	۱	۴
✓	۲	۵
✓	۳	۶
✓	۴	۷
✓	۵	۸
✓	۶	۹

۳ اگر قیمت یک عدد سبزه‌ی سفره‌ی هفت‌سین ۵۰۰۰ تومان باشد:

الف) با ۱۵۰۰۰ تومان چند سبزه می‌توان خرید؟ $15000 \div 5000 = 3 \Rightarrow 15 \div 5 = 3$

ب) قیمت یک سبزه چند ریال است؟ 5000 ریال

۴ تمام اعداد سه رقمی با صدگان ۷ و یکانی که ۳ واحد از دهگان بیش‌تر باشد را بنویسید.

$703, 714, 725, 736, 747, 758, 769$


۵ در جدول زیر حروف الفبای فارسی امتیازبندی شده‌اند. امتیاز هر کلمه براساس ضرب اعداد ساخته می‌شود. به عدد توجه کرده سپس بگویید هر کلمه چند امتیاز دارد؟ و در آخر اسم خودتان را امتیاز دهید.

امتیاز ۳ ر ز ژ رس	امتیاز ۶ ج چ ح خ د ذ	امتیاز ۲ ا ب پ ت ث
امتیاز ۸ ل م ن و ه ی	امتیاز ۵ ع غ ف ق ک گ	امتیاز ۴ ش ص ض ط ظ

باغ ← $2 \times 2 \times 5 = 20$ شاد ←
 مو ← شصت ←
 سرم ← طرز ←
 اسم خودتان ←

۱


باسم و التماس





علوم

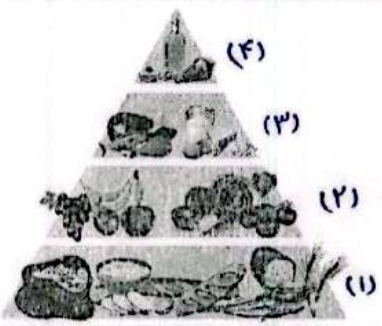
۱ قسمت‌های جامد، مایع و گاز را مشخص کنید.



۲ کدام یک از آب‌های زیر شور و کدام یک شیرین است؟

- رودخانه: شیرین ... لوله کشی: شیرین ... اقیانوس: شور ... دریا: شور

۳ نام گروه‌های هرم غذایی زیر را بنویسید.



- (۱) گروه گیاهان (انواع مرغی، مرغ، ماهی، میوه‌ها و سبزیجات و بیضجی است)
 (۲) گروه پرنده‌ها (گاو، گوسفند، مرغ، ماهی، میوه‌ها و سبزیجات و بیضجی است)
 (۳) گروه حشرات (انواع مرغی، مرغ، ماهی، میوه‌ها و سبزیجات و بیضجی است)
 (۴) گروه گیاهان (انواع مرغی، مرغ، ماهی، میوه‌ها و سبزیجات و بیضجی است)

۴ آهن یکی از مواد اصلی تشکیل دهنده خون است و کمبود آن باعث کم‌خونی، خستگی و بی‌حوصلگی می‌شود.

پ	ب	ا	د	ر	ح	و	ا
ر	ب	ا	ف	ر	ی	س	س
ت	ا	ا	پ	خ	ف	د	د
ق	د	د	ی	ر	ن	*	ن
ا	ا	ا	ا	م	ا	ش	ا
ل	م	م	ز	ا	ق	ل	ج
*	ا	ا	و	ی	ن	ر	*

کلسیم برای رشد و محکم شدن استخوان‌ها و دندان‌ها لازم است.
 اکنون که عید است خوب است بدانید خوراکی‌هایی مثل کرفس، فندق، گردو، بادام، پسته، انگور، پرتقال دارای کلسیم هستند و خوراکی‌هایی از قبیل خرما، کرفس، گردو، انگور، پرتقال، اسفناج دارای آهن هستند.
 این خوراکی‌ها را در جدول پیدا کرده و مواد دارای آهن را قرمز و مواد دارای کلسیم را زرد کنید و در عید بسیار بخورید.


فارسی

۱ قسمت‌های ناقص شعر را با معلومات خود کامل کنید.

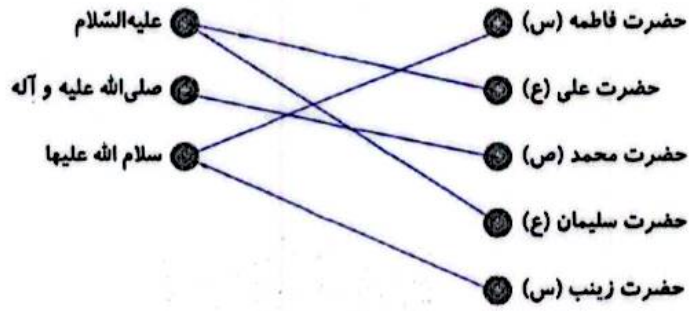
ابر در حال سفر
 در غروب و در طلوع

۲





۲ مخفف عبارات زیر را به جمله‌ی کامل آن وصل کنید.



۳ با کلمه‌های داده شده یک بند با موضوع بهار بنویسید.

بهار - گوشه‌ای - تحویل - سفره

بهار و گوشه‌ای

۴ تمام چیزهایی را که در سفره هفت‌سین قرار می‌دهید را از جدول پیدا کنید و بنویسید.

ن	ه	ک	س	م	ب	ی	س	ق	گ
ی	ی	ن	ر	غ	ر	م	م	خ	ت
ا	و	ه	ک	ا	د	ج	ن	س	س
ر	ی	س	ه	ر	ف	س	د	ر	م
ه	ز	ب	س	ه	ن	ی	آ	ی	ا
ج	د	ظ	ف	ا	ح	ن	آ	ر	ق

سینه
ساق
خم مرغ پزنی
حافظ
سینه

سینه
سینه
سینه
قرآن
آینه

مطالعات اجتماعی

۱ الف) آیا وجود مقررات در زندگی لازم است؟

بله، اگر مقررات رعایت نشود، هر چه می‌خواهیم در کارها به وجود می‌آید و کارها در زمان خود به موقع انجام نمی‌دهیم. در این مورد از مقررات منزل خودتان را بنویسید.


داخل اتاق نوب بازی نکنیم - لوازم خود را در جاهای خود قرار ندهیم

۲ در رابطه با صرفه‌جویی گزینه‌ی صحیح را با مشخص کنید.

الف) هنگام خرید سعی کنیم از کیسه‌های کم‌تری استفاده کنیم.


ب) در هنگام شست‌وشوی ماشین از شلنگ آب استفاده کنیم.

۳





۳ در ایام نوروز به هر کجا سفر می کنید تصویری از شکل خانه ها را نقاشی کرده و در چند سطر آداب و رسوم آن شهر را توضیح دهید.



بایست و آسرا

هدیه های آسمان - قرآن

۱ پاسخ سؤالات زیر را در جدول روبه رو رنگ کنید و با استفاده از کلمات باقی مانده رمز جدول را بنویسید.

ه	ب	س	ع
پ	ا	ح	م
ب	ج	ا	و
ا	ح	د	ر

الف) امام چهارم شیعیان **سجده**


ب) به ما محرم است. **عمو**

پ) روزه گرفتن بر مؤمنان **واجب** است.

ت) دختران در مقابل نامحرم باید **حجاب** داشته باشند.

رمز جدول: **بجاسر**

۲ اذکار نماز را به نام آن ذکر وصل کنید. (یک مورد اضافه است).



۳ خداوند از ما می خواهد قبل از نماز چه کارهایی را انجام دهیم؟

و منبر می بینیم و نماز را با بیداری و لباس پاکیزه شروع کنیم و اگر لباسها آلوده یا کثیف باشد باید با آب بشویم

بند نویسی	ماشین اعداد
حروف مخلف	تساوی کسر
مقررات	عدد نویسی
صرفه جویی	ضرب و مسائل ضرب
قوانین دین اسلام	حالت های مواد
اذکار نماز	هرم غذایی
	مواد غذایی

شاخص ها

- خوب
- خوب
- قابل قبول
- نیاز به تلاش بیشتر

۴





ارمغان هفته - سوم دبستان

نام و نام خانوادگی: تاریخ: نام آموزگار:

مطالعات اجتماعی < نوروژ
هدیه‌های آسمان < نوروژ
قرآن < نوروژ

ریاضی < نوروژ
علوم < نوروژ
فارسی < نوروژ

ریاضی

$$7 \times 8 = 56 \Rightarrow 8, 16, 24, 32, 40, 48, 56$$

$$7 \times 5 = 35 \Rightarrow$$

$$7 \times 8 =$$

$$7 \times 5 =$$

$$3 \times 6 = 18 \Rightarrow$$

$$8 \times 8 = 64 \Rightarrow 8, 16, 24, 32, 40, 48, 56, 64$$

$$4 \times 9 = 36 \Rightarrow$$

حاصل ضرب‌های زیر را با روش دلخواه به دست بیاورید.

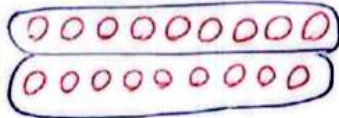
حاصل جمع و تفریق‌های زیر را از راه گسترده نویسی (فرآیندی) به دست آورید.

$$\begin{array}{r} 3490 \\ + 1678 \\ + 4490 \\ + 478 \\ + 5090 \\ + 5170 \\ \hline 5198 \end{array}$$

$$\begin{array}{r} 5438 \\ - 2362 \\ \hline 3438 \\ - 344 \\ \hline 3138 \\ + 42 \\ \hline 3078 \\ - 3078 \\ \hline 0 \end{array}$$

برای تقسیم زیر شکل بکشید و یک مسئله برای آن بنویسید.

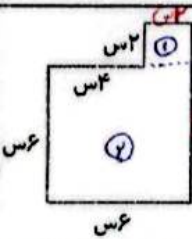
$$18 \div 9 = 2$$



سارا هر روز ۷ صفحه از کتاب داستانش را

می‌خواند. او ۱۴ صفحه از کتاب را چند روز می‌تواند بخواند؟

محیط و مساحت شکل زیر را به دست آورید.



$$\text{محیط} = 2 + 2 + 6 + 6 + 6 + 6 = 28$$

$$\text{مساحت } \textcircled{1} = 2 \times 2 = 4$$

$$\text{مساحت } \textcircled{2} = 6 \times 6 = 36$$

$$\Rightarrow \text{مساحت کل} = 36 + 4 = 40$$

تمام اعداد سه رقمی با صدگان ۷ و یکانی که ۳ واحد از دهگان بیش تر باشد را بنویسید.

۷۰۳ - ۷۱۴ - ۷۲۵ - ۷۳۶ - ۷۴۷ - ۷۵۸ - ۷۶۹

یکان	دهگان	صدگان
۳	۰	۷
۴	۱	۷
۵	۲	۷
۶	۳	۷
۷	۴	۷
۸	۵	۷
۹	۶	۷



ماجرای خرید عزیز خانم:

روز شنبه عزیز خانم برای خرید مهمانی سال نو به مغازه‌ی سبزی فروشی رفت. او ۲ کیلوگرم سبزی آش و ۵ کیلوگرم سبزی پلو خرید. بعد به مغازه‌ی عطاری رفت و در آن جا ۵۰۰ گرم زردچوبه و ۱ کیلوگرم نمک و ۲۰۰ گرم خاکشیر خرید. پس از آن به بقالی رفت. او یک قوطی رب ۱ کیلوگرمی و ۳۵۰ گرم روغن جامد خرید. عزیز خانم بعد از ظهر به مغازه‌ی طلا فروشی رفت و یک جفت گوشواره به وزن ۳ گرم برای عیدی نوه‌اش خرید.

با توجه به داستان به پرسش‌ها پاسخ دهید.

الف) عزیز خانم چند کیلوگرم سبزی خریده است؟

۷ کیلوگرم = ۲ کیلوگرم + ۵ کیلوگرم : سبزی فروش

ب) خرید صبح عزیز خانم از کدام مغازه سبک‌تر بوده است؟

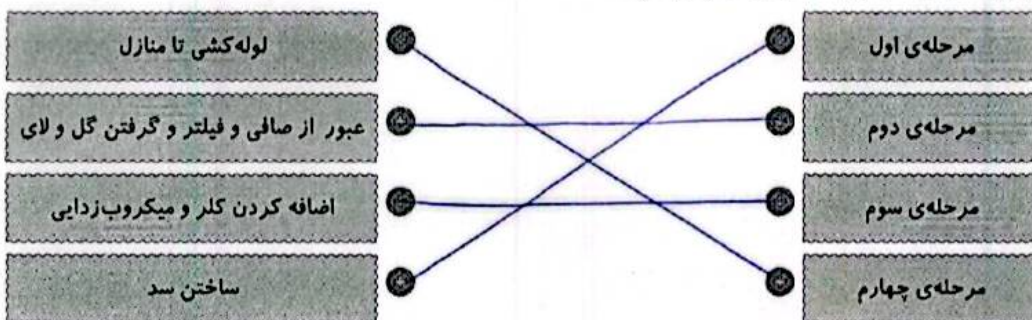
مغازه طلا فروشی که ۳ گرم طلا خریده است.

پ) عزیز خانم در مغازه‌ی عطاری چند گرم خرید کرده است؟

۱۷۰۰ گرم خرید کرده است. $۱۰۰۰ + ۵۰۰ + ۲۰۰ = ۱۷۰۰$ گرم

علوم


۱) مراحل تصفیه‌ی آب را به شماره‌ی آن وصل کنید.



۲) در این تعطیلات یک روز به پارک بازی بروید و لیستی از اهرم‌هایی که آن جا می‌بینید تهیه کنید.

الاکلنگ - جارو - یاغوز - دستگاه مسگری - دستگاه نام زین (هوانورد)


حالا تصویر یکی از وسایل لیست خود را کشیده و محل جسم، نیرو و تکیه‌گاه را روی آن مشخص کنید.



آیا می‌توانید با پدرتان الاکلنگ بازی کنید؟ یک پیشنهاد برای این موضوع بدهید.

بله. هرگاه در دو طرف اهرم دو جسم با جرم‌های نامساوی قرار گیرند برای ایجاد تعادل باید جسم سنگین‌تر

به تکیه‌گاه نزدیک‌تر شود. بنابراین بریم باید نزدیک تکیه‌گاه بنشیند تا بتوانیم تعادل برقرار کنیم.



اطلاعات زیر را درباره‌ی نوع اجزای گیاه زیر کامل کنید.

- ریشه: *ریشه*
- ساقه: *ساقه*
- برگ: *برگ*
- دانه: *دانه*

فارسی

شعر زیر را کامل کنید.

گفتم به گوش باغ آن باغ زیبا گفت:
 این نقش‌ها از کیست؟ *نقش این دنیا*
بیراست است داست *تضا جزاوند است*
نقش این عالم است! *اکن خالق کد*

جملات زیر را با فعل‌های مناسب کامل کنید (یک فعل اضافی است).

- خورد ، بوئید ، شنید ، خواند ، رفت ، دوید،
- الف) مریم گل را ... *بوئید*
- ب) رضا به ملاقات دوستش ... *رفت*
- پ) نرگس قصه را برای خواهرش ... *خواند*
- ت) پدر بزرگ صدای اذان مسجد را ... *شنید*
- ث) علی یک بستنی قیفی ... *خورد*

به هر کدام از کلمه‌های زیر، کلمه‌ای اضافه کنید و عبارت را در جمله‌ای به کار ببرید.

تاریخ ... *تولید* تاریخ *تولید* ... *در شا سنامه‌ی آن* *نویسه شده است*
 کوره‌ی آجرپزی ... *مراحل ساخت* کوره‌ی آجرپزی *مراحل* ... *کند*
 پرندگان ... *با سرد شدن هوا* پرندگان *با سرد شدن هوا* ... *کند*

بیاید با هم اسم فامیل بازی کنیم. جدول زیر را کامل کنید.

حرف	اسم	فامیل	شهر	میوه	رنگ
س	سارا	سلیمانی	ساری	سیب	سبز
م	مریم	محسنی	مازندران	موز	مشکی



مطالعات اجتماعی

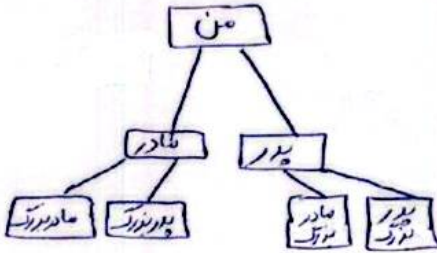
۱ الف) در شهر شما معمولاً خانه‌ها به چه شکلی هستند؟

آبشارخانه‌ای - به دلیل جمعیت زیاد

ب) اگر در ایام عید به سفر رفته‌اید خانه‌ها در آن شهرها چه شکلی داشتند؟

به سبک عربی و خانه‌ها بسیار وسیع و بلند (به دلیل بارش فراوان) بودند

۲) شجره‌نامه‌ی خانوادگی خود را بکشید.



هدیه‌های آسمان - قرآن

۱) موارد مرتبط را به یکدیگر وصل کنید. (دو مورد اضافی است).

- خداوند در آن راه و رسم زندگی را به ما نشان داده است.
- در این ماه خدا بیش‌تر از ماه‌های دیگر به بندگانش پاداش می‌دهد.
- او همسر حضرت علی (ع) است.
- شعبان
- قرآن
- حضرت زینب (س)
- رمضان
- حضرت فاطمه (س)

۲) درستی و نادرستی هر عبارت را مشخص کنید.

- الف) روز مادر، روز میلاد حضرت زهرا (س) است.
- ب) جشن تکلیف، عید عبادت است.
- پ) در عید نوروز، نماز عید می‌خوانیم.

	اهرم و کاربرد آن
	شناخت فعل
	کلمات ترکیبی
	واژه‌شناسی
	انواع خانه‌ها
	شجره‌نامه
	آشنایی با اسلام و الهی اطهار

	روش‌های ضرب
	جمع و تفریق فرآیندی
	مسئله‌ی تقسیم
	محیط و مساحت
	راهبرد مسئله
	مراحل تصفیه آب
	دسته‌بندی گیاهان

شاخص‌ها

- خیلی خوب
- خوب
- قابل قبول
- نیاز به تلاش بیشتر