

# ارمغان هفته - سوم دبستان

شماره‌ی

۲۶

نام و نام خانوادگی: ..... تاریخ: ..... نام آموزگار: .....

مطالعات اجتماعی ← نوروز

هدیه‌های آسمان ← نوروز

قرآن ← نوروز

ریاضی ← نوروز

علوم ← نوروز

فارسی ← نوروز

## ریاضی

۸، ۱۶، ۲۴، ۳۲، ۴۰، ۴۸، ۵۶ الگو

$$7 \times 8 = 56$$

$$6 \times 5 = 30$$

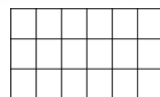


روش مستطیلی

$$3 \times 6 = 18$$

$$8 \times 8 = 64$$

جمع  $8 + 8 + 8 + 8 + 8 + 8 + 8 + 8 = 64$



حاصل ضرب‌های زیر را با روش دلخواه به دست بیاورید.

$$4 \times 9 = 36$$

$$5 \times 4 = 20$$



حاصل جمع و تفریق‌های زیر را از راه گسترده‌نویسی (فرآیندی) به دست آورید.

$$\begin{array}{r} 5090 \\ + 78 \\ \hline 5168 \end{array}$$

$$\begin{array}{r} 3490 \\ + 1678 \\ \hline 5168 \\ + 678 \\ \hline \end{array}$$

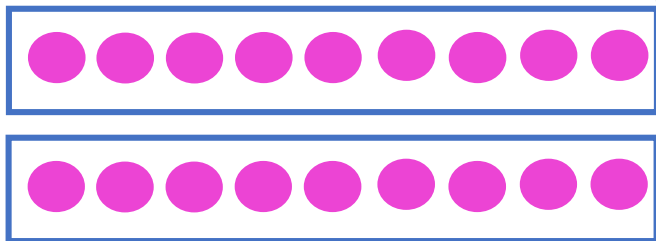
$$\begin{array}{r} 5438 \\ - 2362 \\ \hline 3076 \\ - 3438 \\ \hline 242 \end{array}$$

$$\begin{array}{r} 3138 \\ - 62 \\ \hline 3076 \\ - 2 \\ \hline 3074 \end{array}$$



برای تقسیم زیر شکل بکشید و یک مسئله برای آن بنویسید.

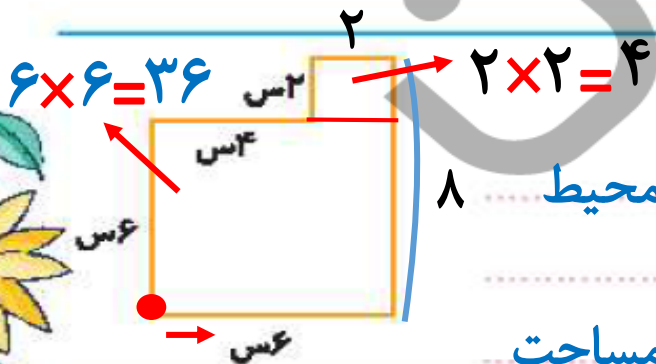
$$18 \div 9 = \dots 2$$



علی ۱۸ شکلات دارد. او می خواهد شکلات ها را در بسته هایی ۹ تایی قرار دهد. علی چند بسته شکلات دارد؟



محیط و مساحت شکل زیر را به دست آورید.



$$\text{محیط: } 6 + 8 + 2 + 2 + 4 + 6 = 28$$

$$\text{مساحت: } 36 + 4 = 40$$



تمام اعداد سه رقمی با صدگان ۷ و یکنی که ۳ واحد از دهگان بیش تر باشد را بنویسید.

۷۰۳ \_ ۷۱۴ \_ ۷۲۵ \_ ۷۳۶ \_ ۷۴۷ \_ ۷۵۸ \_ ۷۶۹



ماجرای خرید عزیز خانم:

۶

روز شنبه عزیز خانم برای خرید مهمانی سال نو به مغازه‌ی سبزی‌فروشی رفت. او ۲ کیلوگرم سبزی آش و ۵ کیلوگرم سبزی پلو خرید. بعد به مغازه‌ی عطاری رفت و در آنجا ۵۰۰ گرم زردچوبه و ۱ کیلوگرم نمک و ۲۰۰ گرم خاکشیر خرید. پس از آن به بقالی رفت. او یک قوطی رب ۱ کیلوگرمی و ۴۵۰ گرم روغن جامد خرید. عزیز خانم بعد از ظهر به مغازه‌ی طلافروشی رفت و یک جفت گوشواره به وزن ۳ گرم برای عیدی نوه‌اش خرید.

با توجه به داستان به پرسش‌ها پاسخ دهید.

الف) عزیز خانم چند کیلوگرم سبزی خریده است؟

$$۲ + ۵ = ۷ \text{ کیلوگرم}$$

ب) خرید صبح عزیز خانم از کدام مغازه سبک‌تر بوده است؟

بقالی، چون ۱ کیلوگرم و ۴۵۰ گرم خرید کرده است.

پ) عزیز خانم در مغازه‌ی عطاری چند گرم خرید کرده است؟

$$۵۰۰ + ۱۰۰۰ + ۲۰۰ = ۱۷۰۰ \text{ گرم}$$

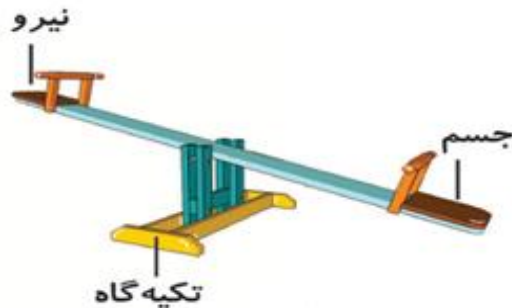
۱ مراحل تصفیه‌ی آب را به شماره‌ی آن وصل کنید.



۲ در این تعطیلات یک روز به پارک بازی بروید و لیستی از اهرم‌هایی که آن‌جا می‌بینید تهیه کنید.

الاکلنگ، پاندول، دستگاه گام زن و...

حالا تصویر یکی از وسایل لیست خود را کشیده و محل جسم، نیرو و تکیه‌گاه را روی آن مشخص کنید.



آیا می‌توانید با پدرتان الاکلنگ بازی کنید؟ یک پیشنهاد برای این موضوع بدهید.

بله، فقط برای برقراری تعادل، پدر که جرم سنگین‌تری دارد باید به تکیه‌گاه نزدیک باشد.



### فارسی

اطلاعات زیر را درباره‌ی نوع اجزای گیاه زیر کامل کنید.



- ریشه: افشان.....
- ساقه: نازک توخالی.....
- برگ: دراز و باریک.....
- دانه: یک قسمتی.....

شعر زیر را کامل کنید.



گفتم به گوش باغ آن باغ زیبا گفت:  
 این نقش‌ها از کیست؟  
 نقاشی اش عالی است!  
 پیدا است استاد است  
 نقاش این دنیا،  
 تنها خداوند است  
 آن خالق یکتا



جملات زیر را با فعل‌های مناسب کامل کنید (یک فعل اضافی است).

«خورد ، بوئید ، شنید ، خواند ، رفت ، دوید»

- الف) مریم گل را **بوید**.  
ب) رضا به ملاقات دوستش **رفت**.  
پ) نرگس قصه را برای خواهرش **خواند**.  
ت) پدر بزرگ صدای اذان مسجد را **شنید**.  
ث) علی یک بستنی قیفی **خورد**.

به هر کدام از کلمه‌های زیر، کلمه‌ای اضافه کنید و عبارت را در جمله‌ای به کار ببرید.

- تاریخ **تولد** : تاریخ تولد هر کس در شناسنامه‌ی او نوشته شده است.  
کوره‌ی **آفتابی** : از کاربردهای آینه‌ی فرورفته، می‌توان کوره‌ی آفتابی را نام برد.  
پرنده‌گان **رنگارنگ** : نغمه‌ی پرنده‌گان رنگارنگ به گوش می‌رسید.

بیاید با هم اسم فاعیل بازی کنیم. جدول زیر را کامل کنید.

حرف	اسم	فاعیل	شهر	میوه	رنگ
س	سارا	سلیمانی	ساری	سیب	سبز
م	مریم	محسنی	مشهد	موز	مشکی

## مطالعات اجتماعی

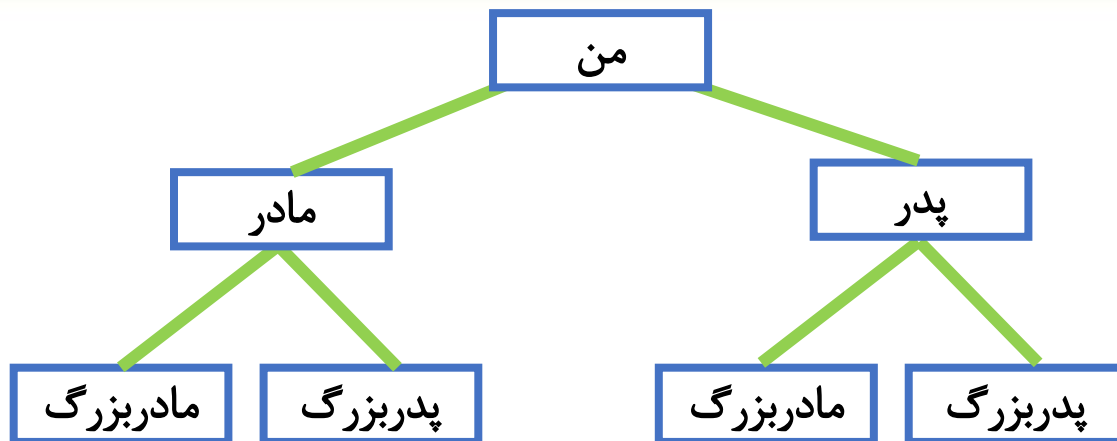
الف) در شهر شما معمولاً خانه‌ها به چه شکلی هستند؟

### آپارتمانی

ب) اگر در ایام عید به سفر رفته‌اید خانه‌ها در آن شهرها چه شکلی داشتند؟

### به عهده ی دانش آموز

۲ شجرنامه‌ی خانوادگی خود را بکشید.




**توضیح:** در صورت داشتن خواهر یا برادر می‌توانید آن‌ها را به شجره نامه اضافه کنید.


## هدیه‌های آسمان - قرآن


موارد مرتبط را به یکدیگر وصل کنید. (دو مورد اضافی است).

- خداوند در آن راه و رسم زندگی را به ما نشان داده است.  شعبان 
- در این ماه خدا بیش‌تر از ماه‌های دیگر به بندگانش پاداش می‌دهد.  قرآن 
- او همسر حضرت علی (ع) است.  حضرت زینب (س) 
- رمضان 
- حضرت فاطمه (س) 

درستی  و نادرستی  هر عبارت را مشخص کنید.

الف) روز مادر، روز میلاد حضرت زهرا (س) است. 

ب) جشن تکلیف، عید عبادت است. 

پ) در عید نوروز، نماز عید می‌خوانیم. 



فصل هفتم

آمار و احتمال

کتاب کار ریاضی  
صفحه ی ۱۵۸

$$5 \times 3 = 15$$

۱۲ هتل کوچکی کلاً ۲۱ نفر ظرفیت دارد. این هتل پنج اتاق سه نفره و چند اتاق دو نفره دارد؟

۳ اتاق دو نفره

$$21 - 15 = 6$$

$$3 \times 2 = 6$$

۱۳ باغ وحش ۱۹ میمون دارد که ۴ تای آن شامپانزه و ۳ تای آن ها بابون هستند. بقیه میمون ها گوریل هستند و در ۳ قفس نگهداری می شوند. تعداد گوریل های همه قفس ها مساوی است. در هر قفس، چند گوریل وجود دارد؟

تعداد گوریل ها

$$4 + 3 + 12 = 19$$

در هر قفس ۴ گوریل وجود دارد.

۱۴ برنا ۲۰ تومان و درنا سه برابر او پول دارد. اگر پول امید نصف مجموع پول برنا و درنا باشد پول امید چند تومان است؟

$$20 + 60 = 80$$

مجموع پول درنا و برنا

$$80 \div 2 = 40$$

پول امید

$$3 \times 20 = 60$$

پول درنا



$$2005 - 205 = 1800$$

۱۸۰۰

۲۵۰ (۱)

۴۰۰ (۲)

۹۱۰ (۳)

۵۰۰ (۴)