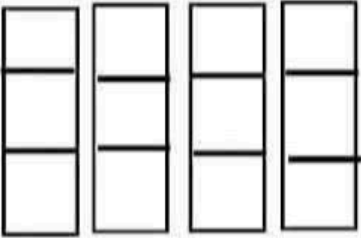
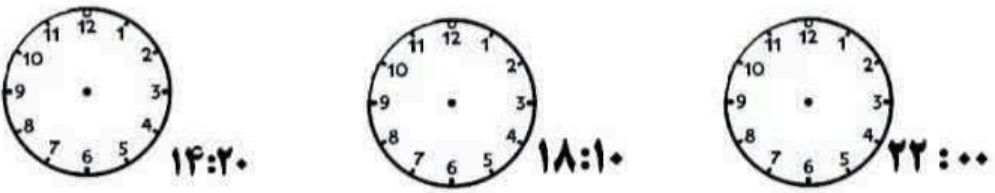
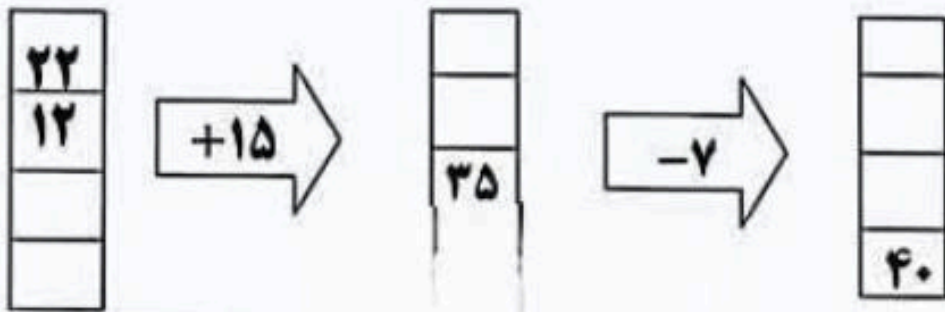


نام خانوادگی:	به نام خدا	تاریخ:
نام خانوادگی:	ارزشیابی ریاضی کلاس سوم	مهرماه
۱	یک ساختمان ۶ طبقه دارد. در هر طبقه ۴ واحد قرار دارد. حالا بگویید؛ تعداد کل واحدها چند تا است؟ تا طبقه چهارم چند واحد می شود؟	
۲	الگوها را ادامه دهید. ۲۲ - ۲۵ - ۲۸ - ۱۴۰ - ۱۵۰ - ۱۶۰ -	
۳	تعداد مربع را به کمک شمارش چند تا چند تا و جمع به دست آورید. 	
۴	سعید هر سه شبه به کلاس شنا می رود. امروز چهارم ماه هست. او چه روزهایی از این ماه را باید به کلاس برود؟	
۵	برای ساعت های داده شده عقربه مناسب بکش. 	

۶- فروشنده ای یک شکلات را ۵۵۰ ریال می خرد و ۶۰۰ ریال می فروشد . حساب کن او با فروش ۵ شکلات چقدر سود می کند ؟

۷- دو ماشین را به هم بسته ایم . جاهای خالی را با عدد مناسب کامل کنید .

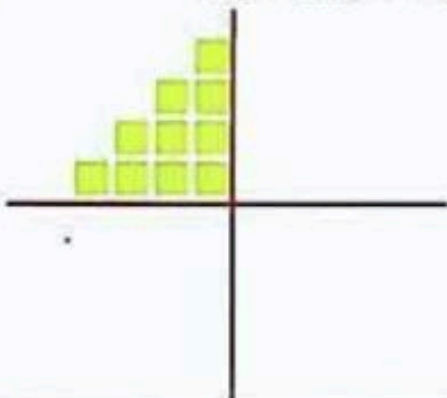


۸- جدول زیر را کامل کنید .

زمان	۱۹:۱۵		۱۴:۲۵	۲۰:۱۰
ساعت بعد از ظهر		۳:۲۰		

۹- نیمه ی دیگر شکل را با توجه به خط تقارن بکشید و سپس تعداد مربع ها را به

کمک خط تقارن پیدا کنید .



۱۰- قطاری ساعت ۷ صبح از تهران به سمت مشهد حرکت کرد و بعد از ۱۰ ساعت به مقصد رسید . قطار چه ساعتی به مشهد رسید ؟ به دو صورت بیان کنید .

نام:

پاسخنامه

به نام خدا

تاریخ:

نام خانوادگی:

ارزشیابی ریاضی کلاس سوم

مهر ماه

یک ساختمان ۶ طبقه دارد. در هر طبقه ۴ واحد قرار دارد. حالا بگویید!

۱

طبقه	۱	۲	۳	۴	۵	۶
واحد	۴	۸	۱۲	۱۶	۲۰	۲۴

تعداد کل واحدها چند تا است؟ **۲۴ واحد**

تا طبقه چهارم چند واحد می شود؟

۱۶ واحد

الگوها را ادامه دهید.

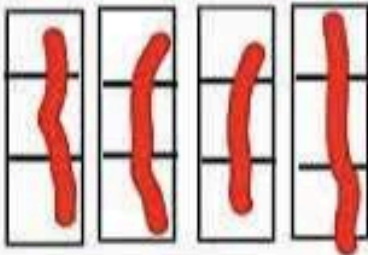
۲

۲۲ - ۲۵ - ۲۸ - ... ۳۱ - ۳۴ - ۳۷

۱۴۰ - ۱۵۰ - ۱۶۰ - ... ۱۷۰ - ۱۸۰ - ۱۹۰

تعداد مربع را به کمک شمارش چند تا چند تا و جمع به دست آورید.

۳



$$3 + 3 + 3 + 3 = 12$$

۳، ۶، ۹، ۱۲

سعید هر سه شنبه به کلاس شنا می رود. امروز چهارم ماه هست. او چه روزهایی از این ماه را باید به کلاس برود؟

۴

۴ - ۱۱ - ۱۸ - ۲۵

برای ساعت های داده شده عقربه مناسب بکش.

۵



۱۴:۲۰



۱۸:۱۰



۲۲:۰۰

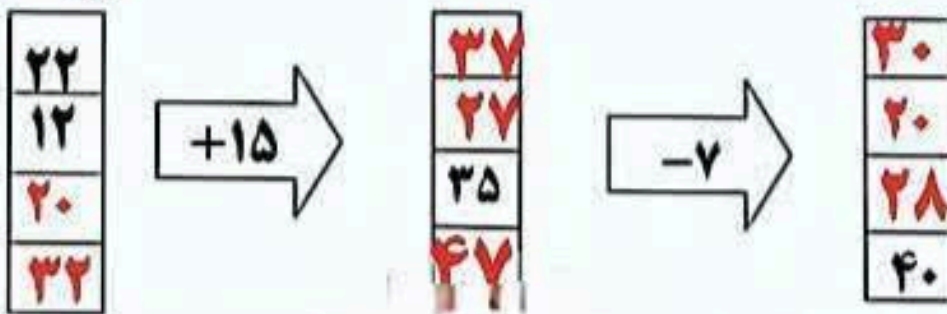
۶- فروشنده ای یک شکلات را ۵۵۰ ریال می خرد و ۶۰۰ ریال می فروشد. حساب کن او با فروش ۵ شکلات چقدر سود می کند؟

شکلات	۱	۲	۳	۴	۵
سود	۵۰	۱۰۰	۱۵۰	۲۰۰	۲۵۰

۲۵۰ ریال سود می کند

پاسخنامه

۷- دو ماشین را به هم بسته ایم. جاهای خالی را با عدد مناسب کامل کنید.

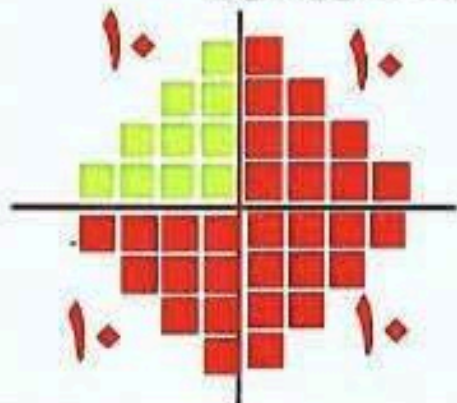


۸- جدول زیر را کامل کنید.

زمان	۱۹:۱۵	۱۵:۲۰	۱۴:۲۵	۲۰:۱۰
ساعت بعد از ظهر	۷:۱۵	۳:۲۰	۲:۲۵	۸:۱۰

۹- نیمه ی دیگر شکل را با توجه به خط تقارن بکشید و سپس تعداد مربع ها را به

کمک خط تقارن پیدا کنید.



$$10 + 10 + 10 + 10 = 40$$

۱۰- قطاری ساعت ۷ صبح از تهران به سمت مشهد حرکت کرد و بعد از ۱۰ ساعت به مقصد رسید. قطار چه ساعتی به مشهد رسید؟ به دو صورت بیان کنید.

$$7 + 10 = 17$$

ساعت ۱۷ یا ۵ بعد از ظهر