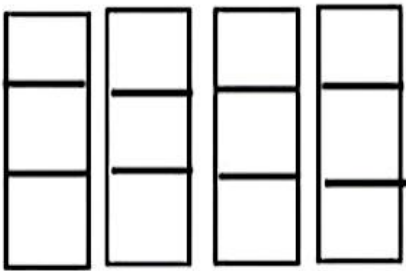

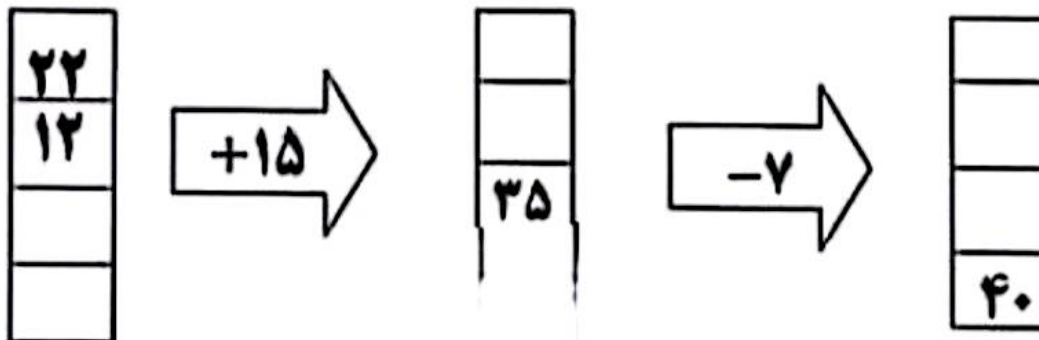


نام:	به نام خدا	تاریخ:
نام خانوادگی:	ارزشیابی ریاضی کلاس سوم	مهر ماه
۱	یک ساختمان ۶ طبقه دارد. در هر طبقه ۴ واحد قرار دارد. حالا بگویند! تعداد کل واحدها چند تا است؟ تا طبقه چهارم چند واحد می شود؟	
۲	الگوها را ادامه دهید. ۲۲ - ۲۵ - ۲۸ --.....-..... ۱۴۰ - ۱۵۰ - ۱۶۰ --.....-.....	
۳	تعداد مربع را به کمک شمارش چند تا چند تا و جمع به دست آورید. 	
۴	سعید هر سه شنبه به کلاس شنا می رود. امروز چهارم ماه هست. او چه روزهایی از این ماه را باید به کلاس برود؟	
۵	برای ساعت های داده شده عقربه مناسب بکش. 	

۶- فروشنده ای یک شکلات را ۵۵۰ ریال می خرد و ۶۰۰ ریال می فروشد.
حساب کن او با فروش ۵ شکلات چقدر سود می کند؟

۷- دو ماشین را به هم بسته ایم. جاهای خالی را با عدد مناسب کامل کنید.

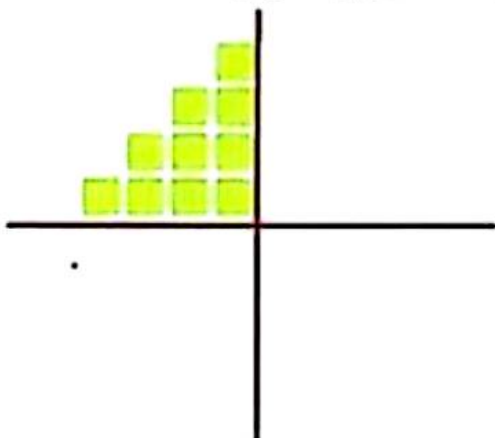


۸- جدول زیر را کامل کنید.

زمان	۱۹:۱۵		۱۴:۲۵	۲۰:۱۰
ساعت بعد از ظهر		۳:۲۰		

۹- نیمه ی دیگر شکل را با توجه به خط تقارن بکشید و سپس تعداد مربع ها را به

کمک خط تقارن پیدا کنید.



۱۰- قطاری ساعت ۷ صبح از تهران به سمت مشهد حرکت کرد و بعد از ۱۰ ساعت به مقصد رسید.
قطار چه ساعتی به مشهد رسید؟ به دو صورت بیان کنید.

پاسخنامه

نام:

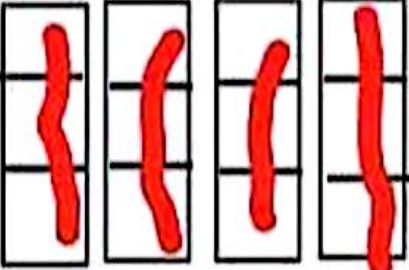



به نام خدا

تاریخ:

نام خانوادگی:

ارزشیابی ریاضی کلاس سوم

مهر ماه

<p>یک ساختمان ۶ طبقه دارد. در هر طبقه ۴ واحد قرار دارد. حالا بگویید؛</p> <p>تعداد کل واحدها چند تا است؟ ۲۴ واحد</p> <p>تا طبقه چهارم چند واحد می شود؟ ۱۶ واحد</p> <table border="1" style="margin-left: auto; margin-right: auto;"> <thead> <tr> <th>طبقه</th> <th>۱</th> <th>۲</th> <th>۳</th> <th>۴</th> <th>۵</th> <th>۶</th> </tr> </thead> <tbody> <tr> <td>واحد</td> <td>۴</td> <td>۸</td> <td>۱۲</td> <td>۱۶</td> <td>۲۰</td> <td>۲۴</td> </tr> </tbody> </table>	طبقه	۱	۲	۳	۴	۵	۶	واحد	۴	۸	۱۲	۱۶	۲۰	۲۴	<p>۱</p>
طبقه	۱	۲	۳	۴	۵	۶									
واحد	۴	۸	۱۲	۱۶	۲۰	۲۴									
<p>الگوها را ادامه دهید.</p> <p>۲۲ - ۲۵ - ۲۸ - ... ۳۱ - ۳۴ - ۳۷</p> <p>۱۴۰ - ۱۵۰ - ۱۶۰ - ... ۱۷۰ - ۱۸۰ - ۱۹۰</p>	<p>۲</p>														
<p>تعداد مربع را به کمک شمارش چند تا چند تا و جمع به دست آورید.</p> <div style="display: flex; align-items: center; justify-content: center;">  <div style="margin-left: 20px;"> $3 + 3 + 3 + 3 = 12$ ۳، ۶، ۹، ۱۲ </div> </div>	<p>۳</p>														
<p>سعید هر سه شنبه به کلاس شنا می رود. امروز چهارم ماه هست. او چه روزهایی از این ماه را باید به کلاس برود؟</p> <p>۴ - ۱۱ - ۱۸ - ۲۵</p>	<p>۴</p>														
<p>برای ساعت های داده شده عقربه مناسب بکش.</p> <div style="display: flex; justify-content: space-around; align-items: center;"> <div style="text-align: center;">  <p>۱۴:۲۰</p> </div> <div style="text-align: center;">  <p>۱۸:۱۰</p> </div> <div style="text-align: center;">  <p>۲۲:۰۰</p> </div> </div>	<p>۵</p>														

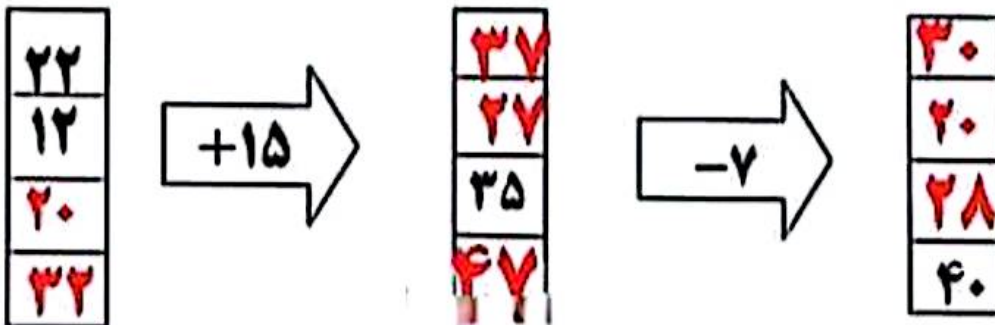
شکلات	۱	۲	۳	۴	۵
سود	۵۰	۱۰۰	۱۵۰	۲۰۰	۲۵۰

۶- فروشنده ای یک شکلات را ۵۵۰ ریال می خرد و ۶۰۰ ریال می فروشد حساب کن او با فروش ۵ شکلات چقدر سود می کند؟

۲۵۰ ریال سود می کند

پاسخنامه

۷- دو ماشین را به هم بسته ایم . جاهای خالی را با عدد مناسب کامل کنید.

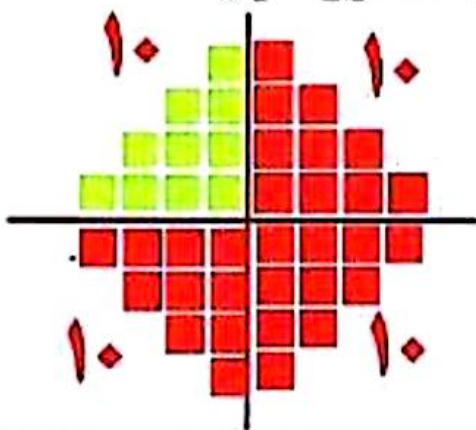


۸- جدول زیر را کامل کنید.

زمان	۱۹:۱۵	۱۵:۲۰	۱۴:۲۵	۲۰:۱۰
ساعت بعد از ظهر	۷:۱۵	۳:۲۰	۲:۲۵	۸:۱۰

۹- نیمه ی دیگر شکل را با توجه به خط تقارن بکشید و سپس تعداد مربع ها را به

کمک خط تقارن پیدا کنید.



$$10 + 10 + 10 + 10 = 40$$

۱۰- قطاری ساعت ۷ صبح از تهران به سمت مشهد حرکت کرد و بعد از ۱۰ ساعت به مقصد رسید . قطار چه ساعتی به مشهد رسید؟ به دو صورت بیان کنید.

$$7 + 10 = 17$$

ساعت ۱۷ یا ۵ بعد از ظهر