

پاسخنامه

نام:

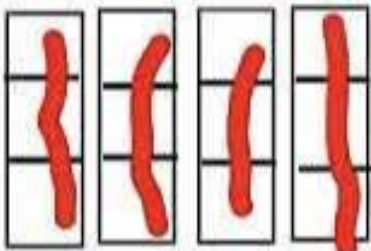



به نام خدا

تاریخ:

نام خانوادگی:

ارزشیابی ریاضی کلاس سوم

مهر ماه

<p>یک ساختمان ۶ طبقه دارد. در هر طبقه ۴ واحد قرار دارد. حالا بگویید!</p> <table border="1" style="display: inline-table; margin-right: 20px;"> <tr> <td>طبقه</td> <td>۱</td> <td>۲</td> <td>۳</td> <td>۴</td> <td>۵</td> <td>۶</td> </tr> <tr> <td>واحد</td> <td>۴</td> <td>۸</td> <td>۱۲</td> <td>۱۶</td> <td>۲۰</td> <td>۲۴</td> </tr> </table> <p>۲۴ واحد؟ ۱۶ واحد؟</p>	طبقه	۱	۲	۳	۴	۵	۶	واحد	۴	۸	۱۲	۱۶	۲۰	۲۴	<p>۱</p>
طبقه	۱	۲	۳	۴	۵	۶									
واحد	۴	۸	۱۲	۱۶	۲۰	۲۴									
<p>الگوها را ادامه دهید.</p> <p>۲۲ - ۲۵ - ۲۸ - ... ۳۱ - ۳۴ - ۳۷</p> <p>۱۴۰ - ۱۵۰ - ۱۶۰ - ... ۱۷۰ - ۱۸۰ - ۱۹۰</p>	<p>۲</p>														
<p>تعداد مربع را به کمک شمارش چند تا چند تا و جمع به دست آورید.</p> <div style="display: flex; align-items: center;">  <div style="margin-left: 20px;"> <p>$3 + 3 + 3 + 3 = 12$</p> <p>۳، ۶، ۹، ۱۲</p> </div> </div>	<p>۳</p>														
<p>سعید هر سه شنبه به کلاس شنا می رود. امروز چهارم ماه هست. او چه روزهایی از این ماه را باید به کلاس برود؟</p> <p>۴ - ۱۱ - ۱۸ - ۲۵</p>	<p>۴</p>														
<p>برای ساعت های داده شده عقربه مناسب بکش.</p> <div style="display: flex; justify-content: space-around;"> <div style="text-align: center;">  <p>۱۴:۲۰</p> </div> <div style="text-align: center;">  <p>۱۸:۱۰</p> </div> <div style="text-align: center;">  <p>۲۲:۰۰</p> </div> </div>	<p>۵</p>														

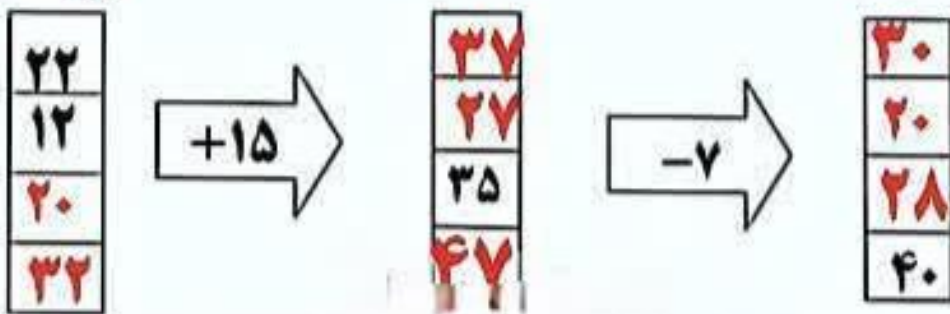
۶- فروشنده ای یک شکلات را ۵۵۰ ریال می خرد و ۶۰۰ ریال می فروشد ۵ شکلات حساب کن او با فروش ۵ شکلات چقدر سود می کند؟

شکلات	۱	۲	۳	۴	۵
سود	۵۰	۱۰۰	۱۵۰	۲۰۰	۲۵۰

۲۵۰ ریال سود می کند

پاسخنامه

۷- دو ماشین را به هم بسته ایم . جاهای خالی را با عدد مناسب کامل کنید.

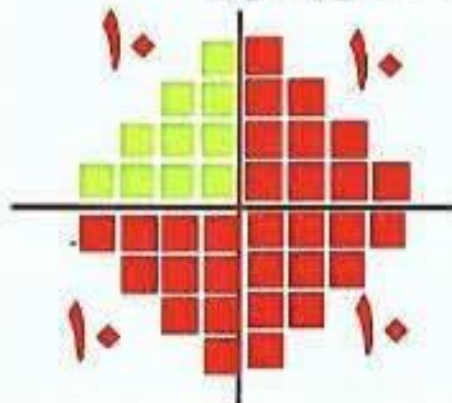


۸- جدول زیر را کامل کنید.

زمان	۱۹:۱۵	۱۵:۲۰	۱۴:۲۵	۲۰:۱۰
ساعت بعد از ظهر	۷:۱۵	۳:۲۰	۲:۲۵	۸:۱۰

۹- نیمه ی دیگر شکل را با توجه به خط تقارن بکشید و سپس تعداد مربع ها را به

کمک خط تقارن پیدا کنید.



$$10 + 10 + 10 + 10 = 40$$

۱۰- قطاری ساعت ۷ صبح از تهران به سمت مشهد حرکت کرد و بعد از ۱۰ ساعت به مقصد رسید . قطار چه ساعتی به مشهد رسید؟ به دو صورت بیان کنید.

$$7 + 10 = 17$$

ساعت ۱۷ یا ۵ بعد از ظهر