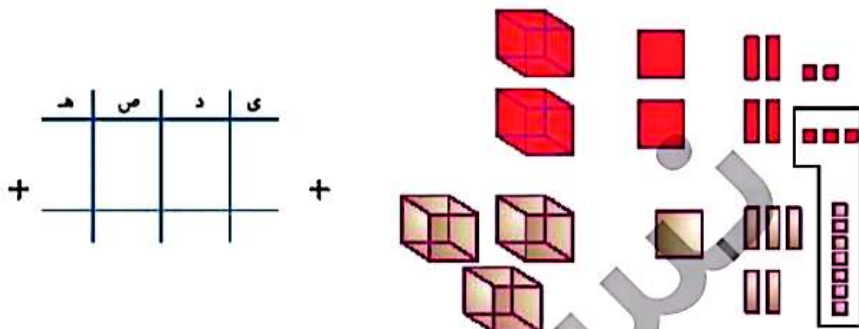


فعالیت کلاسی



۱ جمعی را که شکل زیر نشان می دهد در جدول ارزش مکانی بنویس.



۲ حاصل جمع های زیر را پیدا کن. (تکیگی)

۱۴۳۲	۲۷۵۱	۱۵۹۴	۴۸۷۵	۳۱۶۲
<u>+۱۲۰۹</u>	<u>+۱۴۳۷</u>	<u>+۳۲۵۷</u>	<u>+۱۰۹۸</u>	<u>+۱۹۵۸</u>

۳ انقلاب اسلامی ایران در سال ۱۳۵۷ به پیروزی رسید. اگر امسال ۴۳ سال از این واقعه گذشته باشد، حساب کن در چه سالی قرار داریم؟

.....

.....

۴ آرمان برای خرید یک کتاب داستان، ۴ اسکاس ۱۰۰۰ تومانی، سه سکه ۵۰۰ تومانی و یک سکه ۱۰۰ تومانی پرداخت. قیمت کتاب چند تومان بوده است؟

.....

.....

۵ محیط مستطیلی را به دست بیاور که طول آن ۸ سانتی متر و عرض آن ۴ سانتی متر باشد.

.....

.....

تمرین

۱ حاصل جمع های زیر را به طور ذهنی محاسبه و به عدد مربوطه وصل کن.

- | | |
|------|-------------|
| ۷۵۹۶ | ۷۳۵۶ + ۵۰۰ |
| ۷۶۲۵ | ۷۵۲۶ + ۷۰ |
| ۷۸۵۶ | ۵۶۲۵ + ۲۰۰۰ |
| ۷۷۰۵ | ۷۶۲۵ + ۸۰ |

ریاضی سوم دبستان

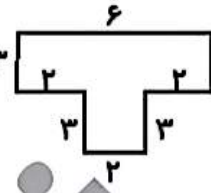


علوی

۲ درستی و نادرستی هر عبارت را مشخص کن.

الف: جمع دو عدد ۷۸۲۹ و ۱۲۸۱ می‌شود ۹۲۱۰.

ب: محیط شکل ۳ می‌شود $(۲ \times ۳) + ۶ + (۳ \times ۳) = ۱۵$.




۲ جدول های زیر را کامل کن.

یکان	دهگان	صدگان	هزارگان
۳	۷	۹	۲
۶	۲	۵	+ ۴

ی	د	ص	ه
۴	۶	۷	۸
۳	۲	۱	+ ۱

۲ جمعی که شکل زیر نشان می‌دهد را در جدول ارزش مکانی بنویس.

یکان	دهگان	صدگان	هزارگان
			+



۵ باقی‌مانده‌ی تفریق ۲۸۶۴ می‌باشد. اگر عدد دوم این تفریق ۴۳۲۹ باشد، عدد اول تفریق را بنویس.

.....

.....

۶ حاصل اختلاف کدام عدد با ۵۳۴۰ عدد ۲۷۶۸ می‌شود؟

.....

.....

۷ فاصله خانه آوا تا مدرسه ۲۰۴۵ متر است. آوا در رفت و برگشت به مدرسه چند کیلومتر و چند متر را طی کرده است؟






.....

.....



جمع و تفریق ➔ فصل ششم

۸ برای خرید همه‌ی وسایل زیر چند تومان باید داشته باشیم؟

				
ریال ۳۵۴۰	ریال ۶۷۰۰	ریال ۲۸۰۰	ریال ۲۹۵۰	ریال ۱۷۰۰

۹ محیط مربعی که مجموع دو ضلع آن ۱۲ سانتی‌متر باشد چند میلی‌متر است؟

.....

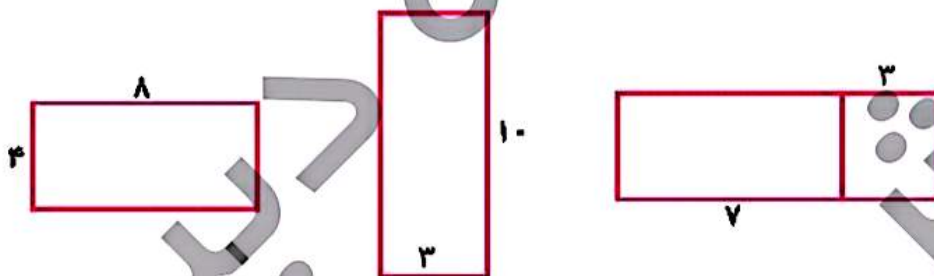
.....

۱۰ مجموع طول و عرض مستطیلی ۴۲ سانتی‌متر است. محیط این مستطیل چند سانتی‌متر است؟

.....

.....

۱۱ محیط مستطیل‌های زیر را به دست بیاور.



۱۲ صاحب یک فروشگاه ۱۴۵۲ مداد سیاه و ۲۵۶۱ مداد قرمز فروخته است. او روی هم چند مداد فروخته است؟

۴۹۱۴ (۴)

۴۰۱۴ (۳)

۴۰۱۵ (۲)

۴۰۴۰ (۱)

خودارزیابی

خیلی خوب خوب قابل قبول نیاز به تلاش

<input type="radio"/>	<input type="radio"/>	<input type="radio"/>	<input type="radio"/>
<input type="radio"/>	<input type="radio"/>	<input type="radio"/>	<input type="radio"/>
<input type="radio"/>	<input type="radio"/>	<input type="radio"/>	<input type="radio"/>
<input type="radio"/>	<input type="radio"/>	<input type="radio"/>	<input type="radio"/>

<input type="checkbox"/>	توانایی محاسبه جمع‌های چهاررقمی با جدول ارزش مکانی
<input type="checkbox"/>	توانایی محاسبه جمع‌های چهاررقمی با شکل
<input type="checkbox"/>	توانایی محاسبه جمع‌های مختلف با روش تکنیکی
<input type="checkbox"/>	توانایی تشخیص مسائل مربوط به جمع و حل آنها

ریاضی سوم دبستان



ب) اگر در عملیات ریاضی کمانک وجود نداشت، ابتدا قسمت مربوط به ضرب و تقسیم و سپس جمع و تفریق حل می‌گردد.

مثال:

$$\underbrace{3 \times 5}_{15} - 6 = 15 - 6 = 9$$

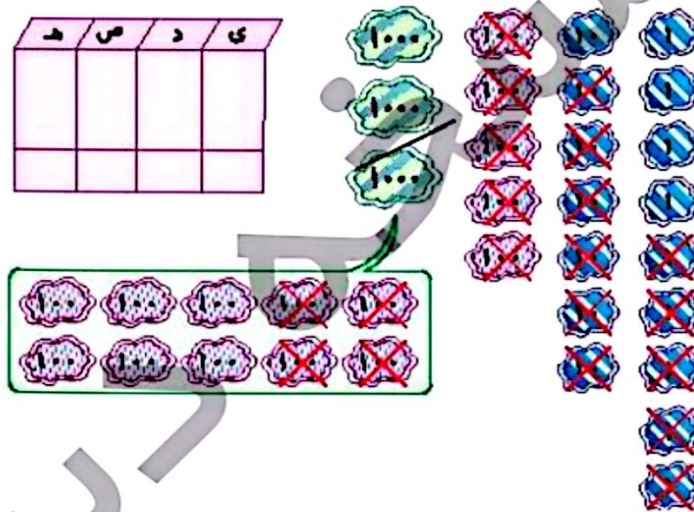
$$24 - \underbrace{3 \times 5}_{15} + \underbrace{6 \div 2}_{3} = 24 - 15 + 3 = 12$$

فعالیت کلاسی



۱) تفریق مربوط به شکل زیر را داخل جدول ارزش مکانی بنویس و حاصل را به دست بیاور.

ه	ص	د	ی



۲) اگر ۷۴۶۵ ریال پول داشته باشی و ۲۲۴۲ تومان از پولهایت را خرج کرده باشی، چقدر برایت باقی مانده؟

.....

.....

۳) حاصل تفریق‌های زیر را به دست بیاور.

$$\begin{array}{r} 4375 \\ -1296 \\ \hline \end{array} \quad \begin{array}{r} 8951 \\ -2379 \\ \hline \end{array} \quad \begin{array}{r} 530 \\ -1026 \\ \hline \end{array} \quad \begin{array}{r} 3000 \\ -1243 \\ \hline \end{array} \quad \begin{array}{r} 6000 \\ -2721 \\ \hline \end{array}$$

۴) به چه عددی ۲۵ واحد اضافه کنی تا حاصل ۴ واحد از عدد ۲۰۰ کم‌تر شود؟

.....

.....

ریاضی سوم دبستان

