

نمودار دایره‌ای

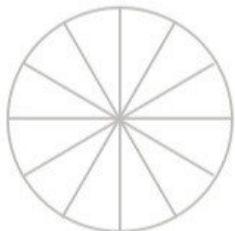
فعالیت

۱- کارهایی که یک دانش‌آموز از ساعت ۶ صبح تا ۶ بعدازظهر انجام می‌دهد، در جدول زیر نشان داده شده است.



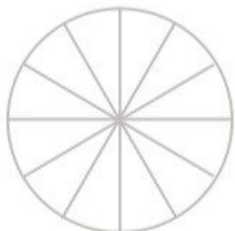
کار	غذا خوردن، نماز خواندن و استراحت	رفت و آمد به مدرسه	حضور در مدرسه	درس خواندن و انجام دادن تکلیف‌ها در منزل
زمان (ساعت)	۲	۲	۵	۳

دایره‌ی زیر ۱۲ قسمت دارد. کارهای روزانه‌ی این دانش‌آموز را با رنگ کردن این قسمت‌ها نشان دهید.



۲- تعداد کتاب‌های فرید و موضوع آن‌ها در جدول زیر مشخص شده است.


نوع کتاب	درسی	علمی	سرگرمی	کمک درسی
تعداد کتاب	۱۰	۱۰	۲۵	۱۵



۳- هر قسمت از دایره‌ی روبه‌رو، نشان‌دهنده‌ی ۵ کتاب است. با رنگ کردن این نمودار دایره‌ای، اطلاعات مربوط به کتاب‌های فرید را نشان دهید.

دو استوانه‌ی کاغذی درست کنید. مثل شکل زیر، استوانه‌ها را از محل‌های مشخص شده برش بزنید. قسمت‌های بریده شده را روی کاغذ بگذارید و دور آن‌ها خط بکشید. در کدام برش، شکل به دست آمده دایره است؟

حدس بزن



نمودار دایره‌ای

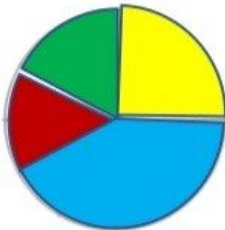
فعالیت

۱- کارهایی که یک دانش‌آموز از ساعت ۶ صبح تا ۶ بعد از ظهر انجام می‌دهد، در جدول زیر نشان داده شده است.

کار	غذا خوردن، نماز خواندن و استراحت	رفت و آمد به مدرسه	حضور در مدرسه	درس خواندن و انجام دادن تکلیف‌ها در منزل
زمان (ساعت)	۲	۲	۵	۳



دایره‌ی زیر ۱۲ قسمت دارد. کارهای روزانه‌ی این دانش‌آموز را با رنگ کردن این قسمت‌ها نشان دهید.



۲- تعداد کتاب‌های فرید و موضوع آن‌ها در جدول زیر مشخص شده است.



نوع کتاب	درسی	علمی	سرگرمی	کمک درسی
تعداد کتاب	۱۰	۱۰	۲۵	۱۵



۳- هر قسمت از دایره‌ی روبه‌رو، نشان‌دهنده‌ی ۵ کتاب است. با رنگ کردن این نمودار دایره‌ای، اطلاعات مربوط به کتاب‌های فرید را نشان دهید.

حدس بزن

دو استوانه‌ی کاغذی درست کنید. مثل شکل زیر، استوانه‌ها را از محل‌های مشخص شده برش بزنید. قسمت‌های بریده شده را روی کاغذ بگذارید و دور آن‌ها خط بکشید. در کدام برش، شکل به دست آمده دایره است؟

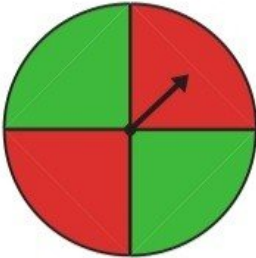


زمانی که با قیچی به صورت صاف برش بزنیم.

کار در کلاس



۱- چرخنده‌ی روبه‌رو را ده بار بچرخانید. هر بار عقربه روی چه رنگی می‌ایستد؟ جواب‌هایتان را در جدول زیر بنویسید.



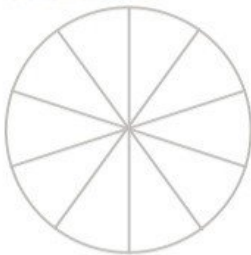
۱۰	۹	۸	۷	۶	۵	۴	۳	۲	۱	آزمایش
										رنگ

با توجه به جدول، دایره‌ی روبه‌رو را با رنگ‌های قرمز و سبز رنگ‌آمیزی کنید.

اگر چرخنده را ۱۰ بار دیگر بچرخانیم، پیش‌بینی می‌کنید که

– چه مقدار از این نمودار به رنگ سبز باشد؟

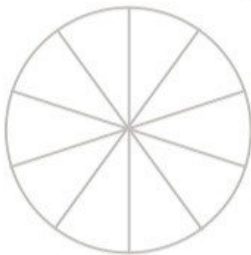
– چه کسری از نمودار قرمز باشد؟



۲- معصومه چرخنده‌ای را که به دو رنگ قرمز و آبی بود، ۱۰۰ بار چرخاند. او هر بار رنگی را که عقربه روی آن می‌ایستاد،

یادداشت می‌کرد. در آخر هم جدول زیر را کشید.

شما با توجه به اطلاعاتی که در جدول آمده است، دایره را رنگ‌آمیزی کنید. ابتدا عددهای تقریبی را بنویسید.



رنگ	تعداد	عدد تقریبی
قرمز	۴۹	
آبی	۵۱	




حدس بزن

با کاغذ دو مخروط درست کنید. با توجه به شکل‌های زیر، مخروط‌ها را از محل مشخص شده، برش

بزنید. قسمت‌های بریده شده را روی کاغذ بگذارید و دور آن‌ها خط بکشید.

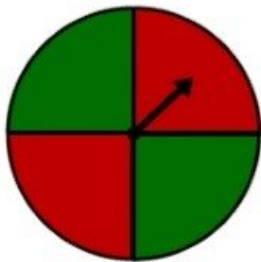
در کدام برش، شکل به‌دست آمده دایره است؟



کار در کلاس



۱- چرخنده‌ی روبه‌رو را ده بار بچرخانید. هر بار عقربه روی چه رنگی می‌ایستد؟ جواب‌هایتان را در جدول زیر بنویسید.



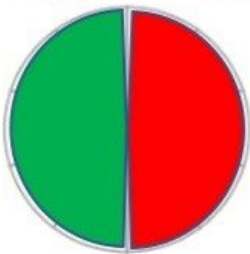
آزمایش	۱	۲	۳	۴	۵	۶	۷	۸	۹	۱۰
رنگ	ق	س	س	ق	ق	س	ق	س	س	ق

با توجه به جدول، دایره‌ی روبه‌رو را با رنگ‌های قرمز و سبز رنگ‌آمیزی کنید.

اگر چرخنده را ۱۰ بار دیگر بچرخانیم، پیش‌بینی می‌کنید که

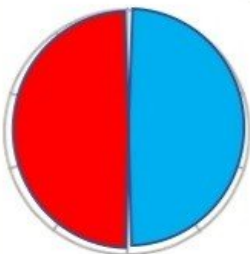
– چه مقدار از این نمودار به رنگ سبز باشد؟ **نصف آن به رنگ سبز است.**

– چه کسری از نمودار قرمز باشد؟ $\frac{1}{2}$



۲- معصومه چرخنده‌ای را که به دو رنگ قرمز و آبی بود، ۱۰۰ بار چرخاند. او هر بار رنگی را که عقربه روی آن می‌ایستاد، یادداشت می‌کرد. در آخر هم جدول زیر را کشید.

شما با توجه به اطلاعاتی که در جدول آمده است، دایره را رنگ‌آمیزی کنید. ابتدا عددهای تقریبی را بنویسید.



رنگ	تعداد	عدد تقریبی
قرمز	۴۹	۵۰
آبی	۵۱	۵۰



حدس بزن

با کاغذ دو مخروط درست کنید. با توجه به شکل‌های زیر، مخروط‌ها را از محل مشخص شده، برش

بزنید. قسمت‌های بریده شده را روی کاغذ بگذارید و دور آن‌ها خط بکشید.

در کدام برش، شکل به دست آمده دایره است؟



زمانی که با قیچی به

صورت صاف برش بزنیم.