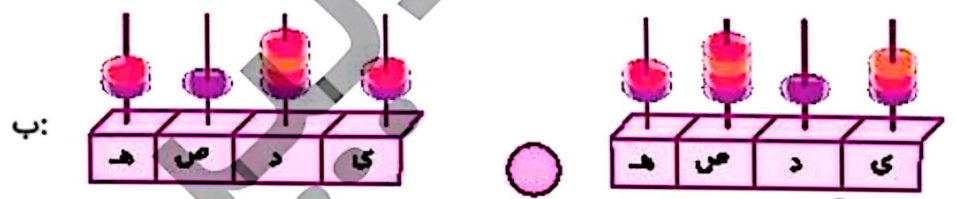


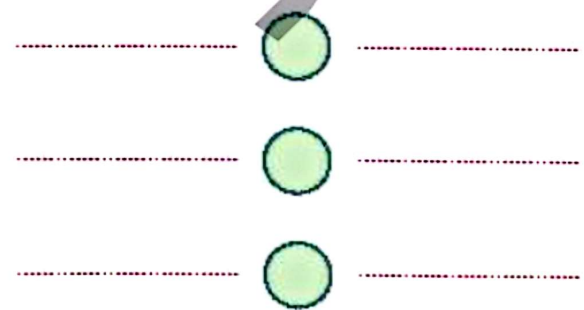
فعالیت کلاسی



عدد هر شکل را کنار آن بنویس و بعد عددها را با هم مقایسه کن. (\leq) (هر مکعب نشان دهنده عدد ۱۰۰۰ است).



۲ دو عدد ۷۳۶۹ و ۷۳۴۲ را در حالت‌های زیر با هم مقایسه کن.



الف: با حذف رقم یکان، دهگان و صدگان

ب: با حذف رقم یکان و دهگان

پ: با حذف رقم یکان

۲ اشکان در کیفش یک ۵۰۰۰ تومانی، یک ۲۰۰۰ تومانی و یک ۱۰۰۰ تومانی دارد. اشکان کدام یک از مبلغ‌های زیر را

نمی‌تواند با اسکناس‌هایش بپردازد؟

۴ ۷۰۰۰ تومان

۳ ۶۰۰۰ تومان

۲ ۴۰۰۰ تومان

۱ ۳۰۰۰ تومان

ریاضی سوم دبستان



علوی

۴ با گذاشتن علامت، دو عدد را مقایسه کن.

- الف: ۲۳۵۰ ریال ۲۴۷۰ ریال
 ب: ۷۹۰۰ تومان ۷۹۱۰ ریال
 پ: ۱۰۳۰ ریال ۲۰۰۰ تومان
 ت: ۵۶۲۰ تومان ۵۶۲۰ ریال

۵ محیط شکل‌های زیر را به دست بیاور.



۶ اندازه ضلع مثلث متساوی‌الاضلاع ۹ سانتی‌متر است. محیط این مثلث چند سانتی‌متر است؟ محیط مثلث چند برابر اندازه یک ضلع آن است؟

.....

تمرین

۱ علامت مناسب هر جای خالی را تشخیص بده و وصل کن.

- ۸۳۳ ۳۸۸ + ۴۴۵ >
 ۶۹۲۰ ۶۹۰۲ >
 ۸۷۴۱ ۹۰۴۱ - ۳۰۰ =
 ۴۰۱۲ ۴۰۲۱ <
 ۸۱۷۵ ۸۷۱۵ <

۲ درستی و نادرستی هر عبارت را مشخص کن.

الف: علامت بین دو عدد $۷۳۶۰ > ۷۳۶۲$ درست گذاشته شده است.

ب: محیط مثلث متساوی‌الاضلاع که اضلاع برابری ندارد یک ضلع ضربدر ۲ می‌باشد.

جمع و تفریق ➡ فصل ششم



۲ عددی را که هر شکل نشان می‌دهد، بنویس و با یکدیگر مقایسه کن.



۳ عددی را که هر ردیف را از کوچک به بزرگ مرتب کن.

۵۰۲۰ - ۵۰۰۰ - ۵۰۳۰ - ۵۰۰۵



۲۳۲۸ - ۲۳۲۵ - ۲۳۲۶ - ۲۳۲۳ - ۲۳۲۹



۵ عددی زیر را با حذف رقم یکان از کوچک به بزرگ مرتب کن.

۶۰۳۷ - ۶۰۰۶ - ۶۰۱۳ - ۶۲۰۸



۶ عددی زیر را با حذف رقم‌های یکان و دهگان از کوچک به بزرگ مرتب کن.

۷۰۴۶ - ۷۶۱۸ - ۷۵۳۹ - ۷۷۷۸



۷ علامت مناسب بگذار (<=>).

۷۰۰۰ ۷۸۹

۷۵۰ - ۲۵۰ ۶۳۰ + ۶۰

۴۷۸۰ ۵۰۴۰

۲۱۳۰ + ۴۰۰ ۲۶۰۰ - ۱۰۰

۸۰ + ۷۴ ۱۴۴

۵۶۰ + ۷۳۰ ۴۶۰ + ۹۲۵

۳۵۰ + ۳۲۰ ۷۸۰

۶۴۰ + ۲۱۰ ۷۰۰ + ۶۰۰

۸ حاصل جمع و تفریق‌های زیر را با حذف رقم یکان و دهگان به صورت تقریبی به دست بیاور.

۷۴۵۶ → _____
- ۱۳۲۰ → _____

۶۴۰۹ → _____
- ۴۳۰۸ → _____

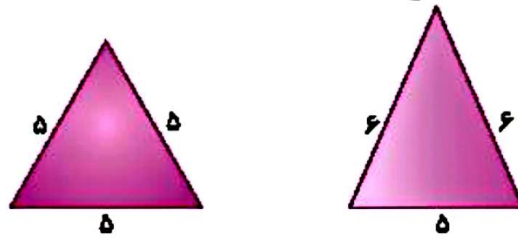
۹۷۶۲ → _____
- ۱۶۵۱ → _____

۸۹۲۱ → _____
+ ۱۰۱۸ → _____



علوی

۹ نام مثلث‌های زیر را با توجه به اندازه‌ی ضلع‌ها بنویس و محیط آن را به دست آور.



۱۰ محیط مثلث متساوی الساقین زیر ۱۹ سانتی‌متر است. اندازه‌ی هر ساق آن چند سانتی‌متر است؟



۱۱ جلوی می‌خواست اعداد ۱۳۷۹ و ۲۴۲ را با ماشین حساب خود جمع کند. او به اشتباه $1279 + 242$ را وارد ماشین کرد.

او باید برای جبران اشتباه خود کدام‌یک از کارهای زیر را انجام دهد؟

- (۱) ۱۰۰ تا اضافه کند (۲) یکی اضافه کند (۳) یکی کم کند (۴) ۱۰۰ تا کم کند

۱۲ در کدام‌یک از جفت‌های عددی زیر عدد دوم ۱۰۰ تا از عدد اول بیشتر است؟


- (۱) ۲۰۹ و ۱۹۹ (۲) ۴۲۴۶ و ۴۲۳۶ (۳) ۹۷۳۵ و ۹۶۳۵ (۴) ۵۲۸۶۳ و ۵۱۸۶۳

زنگ تفریح

خدایا آن روز را برسان که روح و جسمم در تقارن هم و موازی دستورات تو باشد.

خودارزیابی

خیلی خوب خوب قابل قبول نیاز به تلاش



توانایی مقایسه اعداد چهاررقمی با هم

توانایی محاسبه حاصل جمع و تفریق‌های چهاررقمی با تقریب

توانایی محاسبه محیط اشکال دارای اضلاع مساوی با ضرب

جمع و تفریق ➔ فصل هشتم