

تصویر



۱- برای هر جمله یکی از حالت‌ها را انتخاب کنید.

به طور حتم اتفاق می‌افتد احتمال دارد اتفاق بیفتد به طور حتم اتفاق نمی‌افتد



- درخت حرکت کند و راه برود.
- بعد از فصل پاییز فصل زمستان بیاید.
- در تابستان باران بیاید.
- اگر سیب را رها کنی، روی زمین بیفتد.

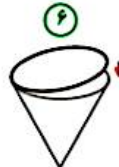
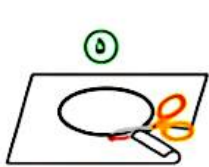
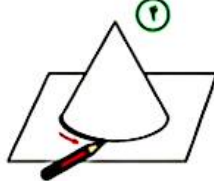
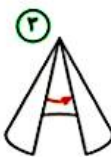
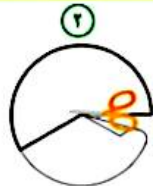
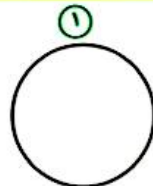
۲- در یک کیسه ۱۲ مهره به رنگ‌های مختلف وجود دارد: ۴ مهره‌ی آبی، ۳ مهره‌ی قرمز و ۵ مهره‌ی سبز. بدون نگاه کردن به داخل کیسه، یک مهره بردارید. پس از یادداشت کردن رنگ مهره، آن را دوباره داخل کیسه قرار دهید. این آزمایش را ۱۲ بار انجام دهید.



جدول را کامل کنید.
 چه کسری از آزمایش‌ها به رنگ قرمز است؟ $\frac{3}{12}$
 چه کسری از آزمایش‌ها به رنگ آبی است؟ $\frac{4}{12}$
 چه کسری از آزمایش‌ها به رنگ سبز است؟ $\frac{5}{12}$

۱۲	۱۱	۱۰	۹	۸	۷	۶	۵	۴	۳	۲	۱	آزمایش
س	آ	س	آ	آ	س	س	ق	ق	ق	آ	س	رنگ

با توجه به شکل‌های زیر یک مخروط بسازید.



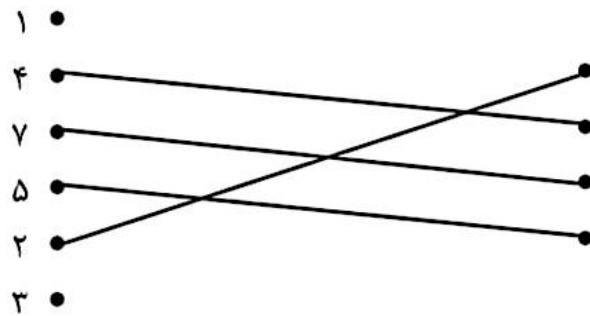
- ۱- یک دایره‌ی بزرگ روی کاغذ بکشید و آن را از کاغذ جدا کنید.
- ۲- مانند شکل بخشی از آن را ببرید و کنار بگذارید.
- ۳- دو لبه‌ی آن را به هم بچسبانید.
- ۴- شکل ساخته شده را روی کاغذ بگذارید و دور آن را خط بکشید.

- ۵- دایره‌ی رسم شده روی کاغذ را ببرید.
- ۶- دایره‌ی بریده شده را به شکل بچسبانید.

کار دست‌ی بساز



تمرین درس سوم فصل ۷ صفحه ۱۶۶:
۱)



۲. الف) نادرست

ب) درست

۳. الف) $\frac{۴}{۸}$ (ب) $\frac{۲}{۸}$ (پ) $\frac{۱}{۸}$ (ت) رز

۴. الف) به طور حتم اتفاق نمی افتد (ب) احتمال دارد اتفاق بیفتد

(پ) به طور حتم اتفاق می افتد (ت) حتما اتفاق بیفتد

ث) به طور حتم اتفاق می افتد

۵. الف) $\frac{۲}{۱۳}$ (ب) $\frac{۶}{۱۳}$ (پ) $\frac{۰}{۱۳}$ (ت) $\frac{۵}{۱۳}$

۶. الف) $\frac{۱}{۷}$ (ب) $\frac{۲}{۷}$

گزینه «۱» پاسخ درست می باشد.