

علوی

بنام خداوند جان و خرد

پایه:
سوم



تاریخ

نام و نام خانوادگی

موضوع: ضرب عددهای یک رقمی در چند رقمی

۱۴۰۵/۱/۲۲

هدف: تمرین به دست آوردن حاصل ضرب ها با رسم شکل

با رسم شکل حاصل ضرب ها را به دست آورید.

$$4 \times 22 =$$

$$2 \times 325 =$$

کتاب ریاضی

ریاضی

صفحه ی ۱۴۰





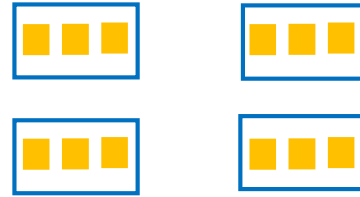

با رسم شکل حاصل ضرب‌ها را به دست آورید.

$$4 \times 23 = 92$$

$20 + 3$

$$4 \times 20 = 80$$

$$4 \times 3 = 12$$



$$5 \times 31 = 155$$

$30 + 1$

$$5 \times 30 = 150$$

$$5 \times 1 = 5$$




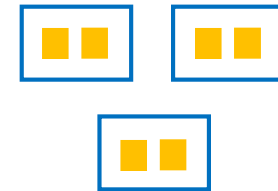

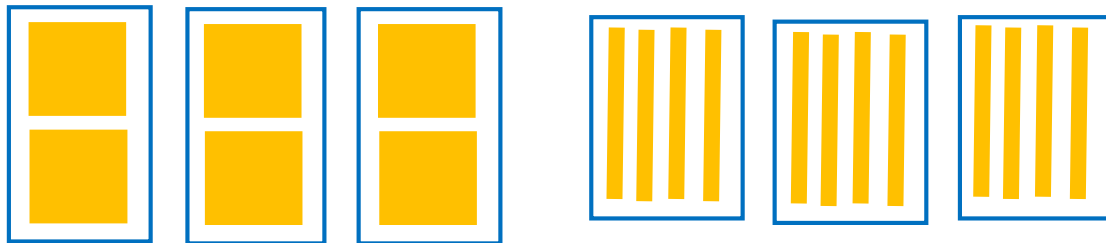
$$3 \times 242 = 726$$

$200 + 40 + 2$

$$3 \times 200 = 600$$

$$3 \times 40 = 120$$

$$3 \times 2 = 6$$



تقریب بزن

۱- مانند نمونه، حاصل ضرب‌ها را به صورت تقریبی بنویسید.

$$۴۷ \times ۲۱ \rightarrow ۵۰ \times ۲۰ = ۱۰۰۰, \quad ۸۳ \times ۲۹ \rightarrow ۸۰ \times ۳۰ = ۲۴۰۰$$

$$۵۱ \times ۶۱ \rightarrow ۵۰ \times ۶۰ = ۳۰۰۰, \quad ۷۸ \times ۸۹ \rightarrow ۸۰ \times ۹۰ = ۷۲۰۰$$

۲- کشاورزی در مزرعه‌اش ۵۷ ردیف کلم کاشته است. او در هر ردیف ۶۱ کلم کاشته است.

در مزرعه‌ی او به‌طور تقریبی چند کلم کاشته شده است؟

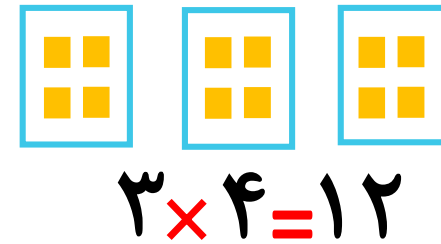
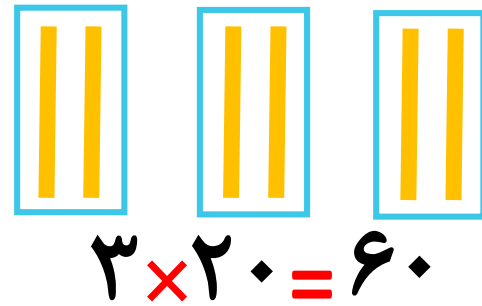


$$۶۰ \times ۶۰ = ۳۶۰۰$$

با رسم شکل حاصل ضرب ها را به دست آورید.

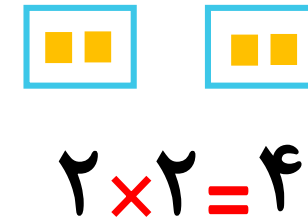
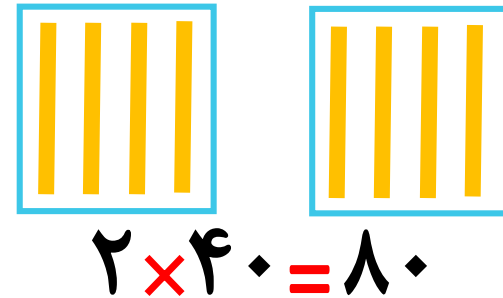
$$3 \times 24 = 72$$

$20 + 4$



$$2 \times 42 = 84$$

$40 + 2$



$$2 \times 215 = 430$$

$200 + 10 + 5$

