

موضوع:


تاریخ:

نام و نام خانوادگی:

۶ نمودار دایره‌ای زیر تعداد گل‌های باغش را نشان می‌دهد. اگر هر قسمت نشان دهنده ۱۰ گل باشد، جدول و نمودار ستونی آن را کامل کنید.



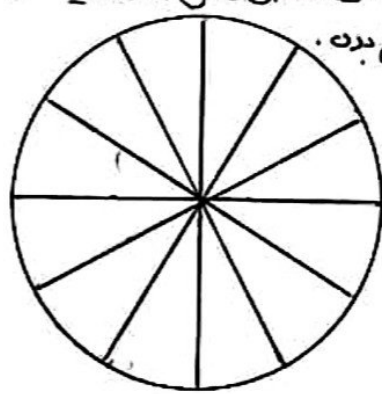
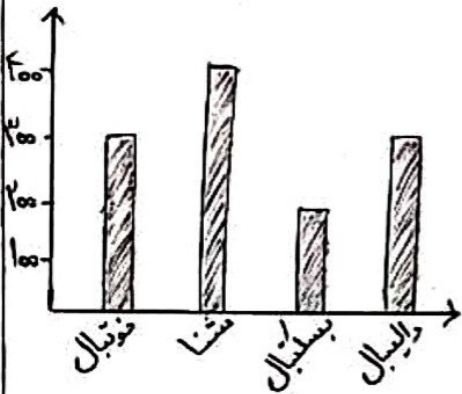
| گل | تعداد |
|--------|-------|
| مریم | |
| رز | |
| نرگس | |
| آفاقیا | |



۷ نمودار تصویر زیر جدول داده‌های تعداد درختان باغ هشتمی رضا را رسم کن.

| نام درخت | تعداد |
|----------|-------|
| سیب | ۵۰۰ |
| گلابی | ۱۰۰ |
| هلو | ۲۰۰ |
| گیلاس | ۴۰۰ |

۸ نمودار ستونی زیر نشان دهنده علاقه دانش آموزان یک مدرسه به رشته‌های ورزشی است. با توجه به آن نمودار دایره‌ای را کامل کن و به سوالات پاسخ بده. هر هکتار یک قسمت



الف) علاقه‌مندان به کدام ورزش از همه بیشتر است؟
 ب) کسر $\frac{۲}{۱۱}$ در نمودار دایره‌ای مربوط به کدام ورزش است؟
 ج) چند دانش‌آموز به ورزش فوتبال علاقه دارند؟

۹ کلاس‌های فوق برنامه در مدرسه این به ترتیب زیر است:

| عنوان کلاس | نقاشی | دیاتیک | قرآن | کامپیوتر |
|-------------------|-------|--------|------|----------|
| تعداد علاقه‌مندان | ۴۰ | ۲۰ | ۳۰ | ۲۰ |

الف) علاقه‌مندان کدام کلاس بیشترین است؟
 ب) چند نفر در دو کلاس قرآن و دیاتیک شرکت کرده‌اند؟