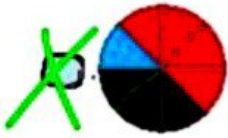


۲ درستی و نادرستی  و نادرستی  هر عبارت را مشخص کن.



الف: در یک جامدادی ۲۰ مداد وجود دارد که با توجه به نمودار دایره‌ای مدادهای قرمز ۲ عدد است **مخروم**

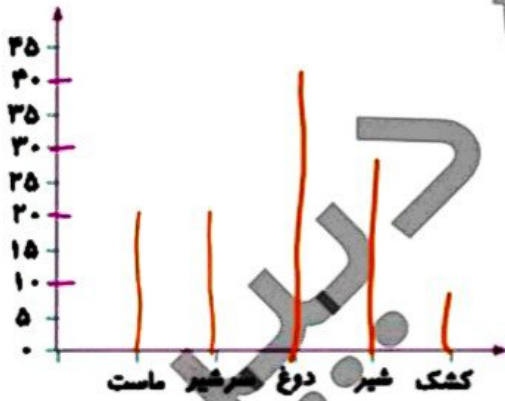
ب: گسترده مغلوط، یک دایره یک مثلث است.

۲ نمودار دایره‌ای جدول زیر را رسم کن.

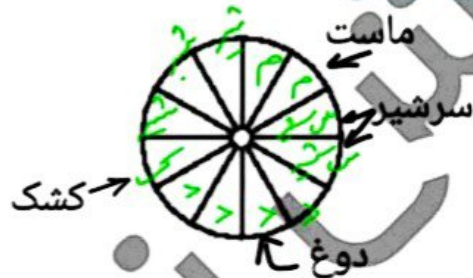
ساعت	برنامه روزانه (در جمعه)
۴	مطالعه
۲	تماشای تلویزیون
۲	تفریح و استراحت
۱	خوردن
۱	کار بارایقه



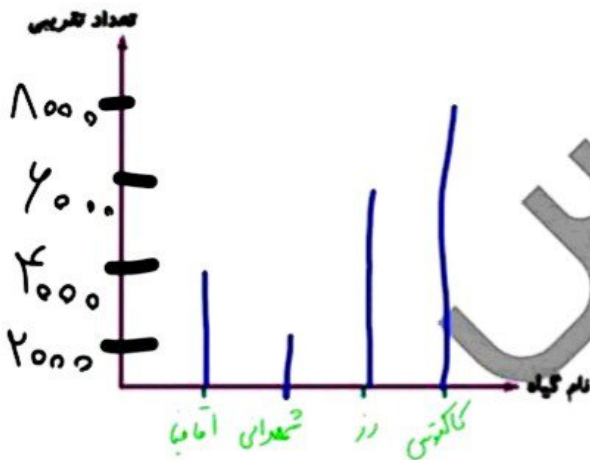
۲ تعداد محصولات یک لبنیاتی در جدول زیر آمده است. با توجه به این جدول نمودارهای مختلف را کامل کن.



نوع	تعداد	ماست	سرشیر	دوغ	شیر	کشک
۲۰	۲۰	۲۰	۲۰	۲۰	۳۰	۱۰



۵ تعداد گیاهان مختلف در یک باغ به صورت تقریبی در جدول زیر مشخص شده است. آن‌ها را روی نمودار دایره‌ای و ستونی نشان بده.



گیاه	تعداد تقریبی	شمعدانی	آفتاب	زرد	کاکتوس
۲۰۰۰	۳۰۰۰	۳۰۰۰	۳۰۰۰	۶۰۰۰	۴۰۰۰



\* هر قسمت را ۲۰۰۰ در نظر گرفته