

"سوال ریاضی"

یک تاس را ۱۲ بار انداخته ایم.

هر بار عدد را یادداشت کردیم. جدول مناسب بکشید.

۱_۴_۲_۵_۱_۴_۶_۵

۵_۲_۶_۲



"سوال ریاضی"

عددی را دو برابر کردیم. سپس با ۲۰ جمع

کردیم. حاصل ۳۰ شد. آن عدد را پیدا کن.



"سوال ریاضی"

۱- یک چرخنده را ۱۰ بار چرخانده ایم. هر بار رنگ را یادداشت کرده ایم. برای این اطلاعات جدول بکشید.

سبز - زرد - سبز - نارنجی - زرد - آبی

زرد - قرمز - سبز - آبی



۱ عددی را با ۱۵ جمع کردیم و از آن ۵ تا کم کردیم، حاصل ۳۵ شد. آن عدد چیست؟

$$\square + 15 - 5 = 35$$

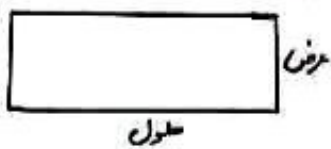
۲ مساحت مستطیلی ۲۴ سانتی متر مربع است. اندازه‌ی ضلع‌ها را طوری پیدا کن که محیط آن ۲۰ سانتی متر شود.

عرض	طول
○	○
$(\text{○} + \text{○}) \times 2 = 20$	

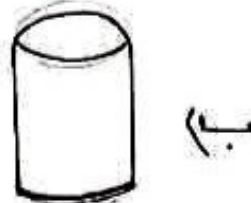
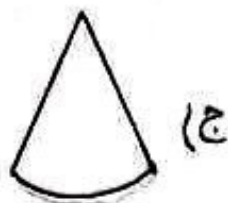
عرض	طول
○	○
$(\text{○} + \text{○}) \times 2 = 20$	

عرض	طول
○	○
$(\text{○} + \text{○}) \times 2 = 20$	

دانش آموز خودم اگر باین سه عدد به جواب نرسی، عددی را امتحان کن. 😊



۳ اگر مستطیل را از عرض آن تا کنیم، استوانه‌ای ساخته شده کدام است؟



۴ با توجه به جدول داده‌ها به پرسش‌ها پاسخ بده.



آزمایش	۱	۲	۳	۴	۵	۶	۷	۸	۹	۱۰	۱۱	۱۲
رنگ	قرمز	قرمز	آبی	زرد	قرمز	زرد	قرمز	آبی	آبی	زرد	قرمز	قرمز

- الف) چه کسری از آزمایش‌ها قرمز است؟
 ب) چه کسری از آزمایش‌ها آبی است؟
 ج) چه کسری از آزمایش‌ها زرد است؟

۵ برای هر جمله کدام حالت اتفاق می‌افتد؟ علامت ✓ بزن.

جمله	با طور حتم اتفاق می‌افتد	احتمال دارد اتفاق بیفتد	به طور حتم اتفاق نمی‌افتد
<ul style="list-style-type: none"> ماهی‌ها خارج آب زندگی می‌کنند. آلترسکه را بیندازیم پشت می‌آید. در یک روز بیرون ببارد و باران ببارد. تعبیر را مالک بیندازد و به پایین برگردد. 			