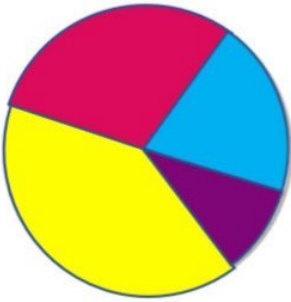


## تمرین



تعداد دختران و پسران دو مهد کودک بویا و شبنم در جدول زیر آمده است. می‌خواهیم این اطلاعات را در دو نمودار دایره‌ای و ستونی نشان دهیم. نمودارهای زیر را کامل کنید.



شبنم		بویا	
پسر	دختر	پسر	دختر
۱۰	۲۰	۴۰	۳۰

$$۲۰ + ۳۰ = ۵۰ \text{ تعداد دخترها}$$

$$۱۰ + ۴۰ = ۵۰ \text{ تعداد پسرها}$$



در مجموع، تعداد دخترها بیشتر است یا پسرها؟ در مجموع با هم برابرند

برای پاسخ به سؤال بالا کدام نمودار مناسب‌تر است؟




چرا؟ **ستونی**. زیرا می‌خواهیم اطلاعاتی را

با هم مقایسه کنیم.

## خلاق باش

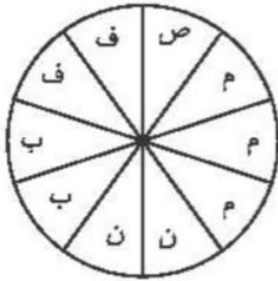


آجرچینی‌های زیر را به صورت متقارن رنگ آمیزی کنید.



## تمرین درس چهارم فصل ۷ صفحه ۱۶۹:

۱.



فعالیت	صبحانه	مطالعه	ناهار	بازی	فیلم
زمان	۸-۹	۹-۱۲	۱۲-۱۴	۱۴-۱۶	۱۶-۱۸
مقدار ساعت	۱	۳	۲	۲	۲

۲.

محصول	شیر	ماست	دوغ	کره	خامه	کشک
تعداد	۲۰	۱۲	۸	۸	۸	۸

۳. ۵ تا سرد ۱۵ تا گرم

غذای گرم  $۲۰ \div ۴ = ۵$ 

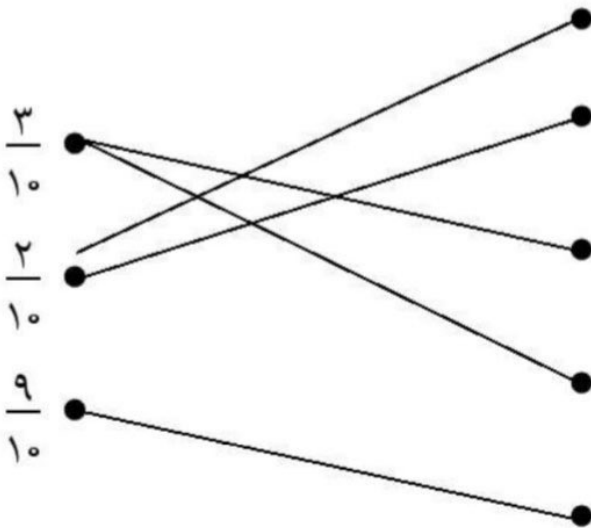
۴. الف) ۲۰ تا

ب) ۶۵ نفر

$$۱۵ + ۳۰ + ۲۰ = ۶۵$$

## تمرین درس چهارم فصل ۷ صفحه ۱۶۹:

۱.




۲. الف) رنگ ها از روری کتاب چک شود.

ب) نادرست: یک دایره است.

۳.

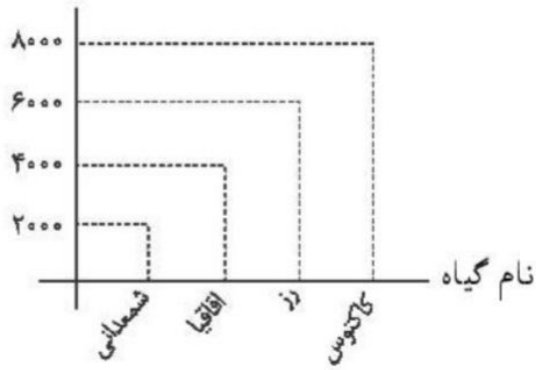


۴.



۵.

تعداد تقریبی

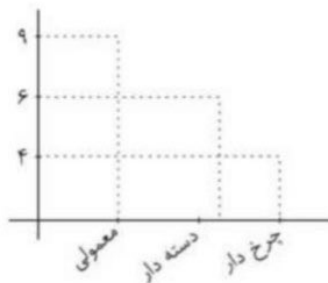


۶.

(الف)

معمولی	دسته دار	چرخ دار
۹	۶	۴

(ب)



(پ) گزینه «۱» پاسخ درست می باشد.