



موضوع:


تاریخ:

نام و نام خانوادگی:

هدف:

تعداد دانش آموزانی که به شهرهای مختلف سفر کرده‌اند، در جدول زیر مشخص شده است:

شهر	مشهد	اصفهان	تبریز	شیراز	تهران	یزد
تعداد	۲۵	۱۵	۵	۲۰	۳۰	۵



اگر هر قسمت نشان دهنده ۱۰ نفر باشد، با رنگ کردن وضعیت شهرهایی که به آنجا سفر شده را نشان بده.

کتاب‌هایی که امیرمهدی در کتابخانه‌ی خود دارد، در نمودار زیر آمده است. کوچکترین قسمت نمودار نشان دهنده ۵ کتاب است.

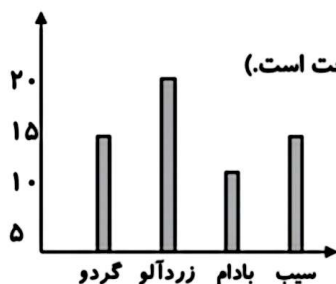


چند کتاب با موضوع علمی هستند؟


چند کتاب از کتاب‌های او تخیلی هستند؟

امیرمهدی در کتابخانه‌ی خود چند کتاب دارد؟

با توجه به تعداد درختان باغی در شهریار، نمودار زیر رسم شده است:



اطلاعات نمودارستونی را روی نمودار دایره‌ای نشان بده. (هر قسمت دایره ۵ درخت است).



تعداد بعضی از گل‌هایی که در یک هفته در گل فروشی فروخته شده، در جدول زیر نوشته شده است:

اطلاعات جدول را بر روی نمودار دایره‌ای نشان بده و به سوالات پاسخ بده.

نوع گل	مریم	میخک	رُز	نرگس
تعداد	۲۰	۱۰	۵۰	۲۰

کدام گل کمتر فروخته شده است؟

مقدار فروش کدام گل‌ها با هم برابر است؟

چه کسری از گل‌های فروخته شده رُز است؟

تعداد گل‌های فروخته شده در یک هفته چندتا است؟

بازخورد:

Blank space for student feedback.

