



۱- حاصل ضرب عددهای زیر را به کمک ماشین حساب پیدا کنید.

$$3 \times 10 = 30$$

$$4 \times 20 = 80$$

$$80 \times 3 = 240$$

$$20 \times 30 = 600$$

$$60 \times 40 = 2400$$

$$80 \times 200 = 16000$$

$$200 \times 400 = 80000$$

$$300 \times 20 = 6000$$

$$10 \times 100 = 1000$$

۲- بین تعداد صفرهای دو عدد و تعداد صفرهای حاصل ضرب چه رابطه‌ای وجود دارد؟ بنویسید.

به تعداد صفرهای دو عدد، در حاصل ضرب صفر می‌گذاریم.

۳- به کمک رابطه‌ای که کشف کردید، توضیح دهید که چگونه می‌توانید حاصل ضرب‌ها را بدون ماشین حساب به دست آورید؟ بدون در نظر گرفتن صفرها، ضرب می‌کنیم. بعد صفرها را می‌شماریم و جلوی پاسخ می‌گذاریم

۴- با توجه به توضیح قسمت بالا، حاصل ضرب‌ها را پیدا کنید.

$$4 \times 60 = 240$$

$$20 \times 40 = 800$$

$$800 \times 30 = 24000$$

درستی پاسخ‌های خود را با ماشین حساب بررسی کنید.





اگر جواب‌های شما نادرست باشند، باید دوباره در مورد سؤال ۲ و ۳ فکر کنید.



خلاق باش

الگوهای آجری را رنگ کنید.

در صورت امکان، شکل رنگ شده متقارن باشند.



فعالیت



برای تعداد گلاس‌ها در هر شکل یک تساوی ضرب بنویسید.



$$3 \times 2 = 6$$



$$3 \times 1 = 3$$



$$3 \times 0 = 0$$

حاصل ضرب هر عدد در صفر چه عددی می‌شود؟ **هر عددی در صفر ضرب شود، جواب صفر می‌شود.**



کار در کلاس



۱- حاصل ضرب‌ها را بنویسید.

$$20 \times 40 = 800$$

$$200 \times 30 = 6000$$

$$80 \times 10 = 800$$

$$10 \times 100 = 1000$$

$$100 \times 10 = 1000$$

$$10 \times 10 = 100$$

$$2 \times 3 \times 10 = 60$$

$$50 \times 2 \times 10 = 1000$$

$$40 \times 20 \times 3 = 2400$$

۲- تساوی‌ها را کامل کنید.

$$2 \times 0 = \underline{\quad}$$

$$4 \times \underline{\quad} = 0$$

$$30 \times \underline{\quad} = \underline{\quad}$$

$$1 \times 7 = \underline{7}$$

$$\underline{1} \times 12 = 12$$

$$1 \times \underline{2} = \underline{2}$$

$$1 \times 1 = \underline{1}$$

$$\underline{1} \times 5 = 5$$

$$18 \times \underline{\quad} = 0$$

$$\underline{\quad} \times 25 = \underline{\quad}$$

$$1 \times \underline{8} = 8$$

$$1 \times 17 = \underline{17}$$

۳- ماشین ورودی - خروجی، هر مقدار ورودی را 10° برابر می‌کند. اگر ورودی این ماشین ۲۵ باشد، خروجی آن چه مقدار خواهد بود؟

$$25 \times 10 = 250$$

تمرین



۱- در جای خالی عدد مناسب بنویسید.

$$10 \times 14 = 140$$

$$42 \times 10 = 420$$

$$84 \times 10 = 840$$

$$14 \times 10 = 140$$

$$10 \times 75 = 750$$

$$270 = 10 \times 27$$

۲- یک گروه کارگر در هر ماه ۱۰ کیلومتر جاده‌ی روستایی می‌سازد. این گروه در یک سال چند کیلومتر جاده‌ی روستایی می‌سازد؟

$$12 \times 10 = 120 \quad \text{یک سال ۱۲ ماه است. پس}$$

۳- احمد روزی ۱۰ آیه‌ی قرآن را می‌خواند. در یک ماه (۳۰ روز) چند آیه می‌خواند؟

$$30 \times 10 = 300 \quad \text{آیه می‌خواند}$$

۴- حاصل عبارت‌ها را به دست آورید.

$$2 \times 2 \times 4 = (2 \times 2) \times 4 = 16$$

$$7 \times 1 \times 3 = (7 \times 1) \times 3 = 21$$

$$0 \times 4 \times 6 = 0$$

$$2 \times 5 \times 7 = (2 \times 5) \times 7 = 70$$

۵- زهره در برنامه‌ی درسی‌اش هفته‌ای ۲ بار ریاضی دارد و هر بار ۲ ساعت ریاضی می‌خواند.

$$4 \times 2 \times 2 = (4 \times 2) \times 2 = 16 \quad \text{ساعت}$$

زهره در ۴ هفته چند ساعت ریاضی می‌خواند؟



۶- محسن ۴ بز دارد که هر کدام روزی ۲ کیلو شیر می‌دهد.

این بزها در ۳ روز چند کیلو شیر می‌دهند؟

$$3 \times 4 \times 2 = (3 \times 4) \times 2 = 24 \quad \text{کیلوگرم}$$

کار با ماشین حساب

به کمک ماشین حساب، حاصل عبارت زیر را به دست آورید.

$$3 \ 5 \ + \ 2 \ \times \ 5 \ - \ 1 \ 4 \ = \underline{31}$$

$$4 \ 8 \ + \ 4 \ \times \ 3 \ + \ 2 \ 5 \ = \underline{61}$$

$$47 \times 31 + 129 = 1586$$

$$1457$$

