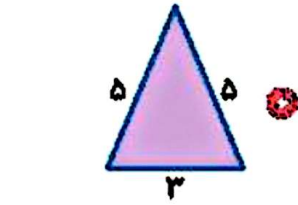


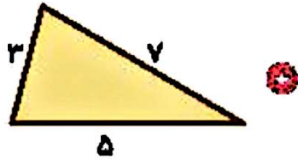
## تمرین



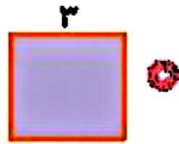
۱ عبارات مناسب محیط اشکال را به شکل مربوطه وصل کرده و سپس حاصل را به دست بیاور.



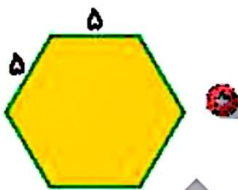
$(2 \times 5) + 3 = 5 + 5 + 3 = \dots\dots\dots$



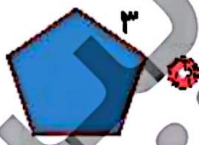
$4 \times 3 = 3 + 3 + 3 + 3 = \dots\dots\dots$



$5 \times 3 = 3 + 3 + 3 + 3 = \dots\dots\dots$



$3 \times 7 = 7 + 7 + 7 = \dots\dots\dots$



$3 + 5 + 7 = \dots\dots\dots$



$6 \times 5 = 5 + 5 + 5 + 5 + 5 + 5 = \dots\dots\dots$

۲ درستی  و نادرستی  هر عبارت را مشخص کن.

الف: محیط پنج ضلعی به ضلع ۷ می شود ۰.۲۷

ب: حاصل جمع ۴۲۶۱ با ۲۶۲۸ می شود ۰.۷۸۹۰

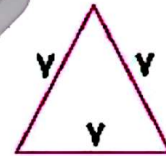
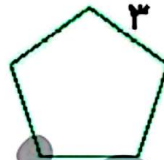
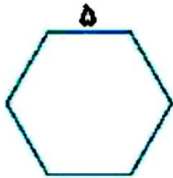
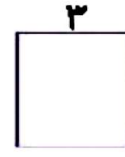
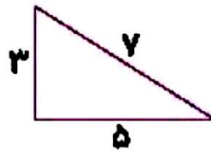
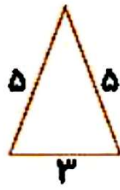
۲ جمع و تفریق کن.

$$\begin{array}{r} 6000 \\ -2369 \\ \hline \end{array}$$

$$\begin{array}{r} 7896 \\ +2114 \\ \hline \end{array}$$



۴ محیط شکل‌های زیر را به دست بیاور.



۵ ذرنا ۶۵۰۰ تومان پول دارد. علی ۲۲۸۵ تومان کم‌تر از او دارد؟ علی چند تومان پول دارد؟ آن دو روی هم چقدر پول دارند؟

.....

.....

.....

۶ دنیا در قلک خود ۲ اسکناس ۱۰۰۰ تومانی و یک اسکناس ۲۰۰۰ تومانی و ۵ اسکناس ۱۰۰ تومانی و ۲ سکه ۵۰۰ تومانی دارد. دنیا چند تومان پول دارد؟

.....

.....

.....

۷ درنا هر روز از پدرش ۱۰۰۰ تومان می‌گیرد و روزی ۵۰۰ تومان پس‌انداز می‌کند. او بعد از چند روز پس‌انداز می‌تواند یک روسری به قیمت ۷۵۰۰ تومان بخرد؟

.....

.....

.....

۸ مساحت تهران تا مشهد ۹۴۰ کیلومتر است. قطار پس از طی ۲۶۵ کیلومتر برای صرف نهار توقف کرد و بعد از طی مسافت ۲۸۷ کیلومتر دیگر مجدداً برای خواندن نماز صبح متوقف شد. این قطار چه قدر از مسیر را طی کرده است؟ چه قدر از مسیر باقی مانده است؟

.....

.....

