



ارمغان هفته - سوم دبستان

شماره‌ی

۲۸

نام و نام خانوادگی: تاریخ: نام آموزگار:

ریاضی < فصل ۷: جدول داده‌ها، نمودارهای آماری و احتمال مطالعات اجتماعی < درس ۲۰: خانه شما کجاست؟
 علوم < درس ۱۲ و ۱۳: هر کدام جای خود (۱) و (۲) هدیه‌های آسمان < درس ۱۷: خواب شیرین
 فارسی < درس ۱۵ و ۱۶: دریا - اگر جنگل نباشد. قرآن < انس با قرآن کریم (۱۲)

ریاضی

۱ در یک کیسه ۷ مهره‌ی آبی و ۵ مهره‌ی قرمز وجود دارد؟

الف) چه کسری از مهره‌ها آبی هستند؟

ب) چه کسری از مهره‌ها قرمز هستند؟

پ) احتمال بیرون آمدن کدام رنگ با چشم بسته بیشتر است؟

۲ جدول زیر مربوط به داده‌های یک گل‌فروشی می‌باشد. صاحب مغازه تعداد گل‌هایی را که در یک هفته فروخته است را در این جدول یادداشت کرده است.

نوع گل	مریم	یاس	ارکیده	رز
تعداد	۲۰	۱۰	۲۰	۴۰

الف) چه کسری از گل‌های فروخته شده مریم می‌باشد؟

ب) کدام گل‌ها بیش‌تر فروخته شده‌اند؟

پ) نمودار دایره‌ای داده‌های این مسئله را رسم کنید.



۳ در کدام کیسه احتمال خارج شدن رنگ قرمز بیشتر است؟ دلیل انتخاب خود را بنویسید.

۴ تعداد شیرینی‌های یک شیرینی‌فروشی به صورت زیر می‌باشد. برای مقایسه‌ی تعداد شیرینی‌ها شما چه نموداری را پیشنهاد می‌کنید؟ آن را رسم کنید.

نوع شیرینی	تعداد
خمه‌ای	### ### ### ###
دل‌مارکی	### ###
باقلوا	### ### ###
نایلونی	###

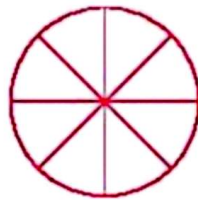


۵ جواب درست را با مشخص کنید.

جمله	به طور حتم اتفاق می افتد	احتمال دارد اتفاق بیافتد	به طور حتم اتفاق نمی افتد
۱) به دنیا آمدن یک انسان با ۷ پا	<input type="checkbox"/>	<input type="checkbox"/>	<input type="checkbox"/>
۲) اگر شب دیر بخوابیم صبح دیر بیدار می شویم.	<input type="checkbox"/>	<input type="checkbox"/>	<input type="checkbox"/>
۳) اگر باران ببارد زمین خیس می شود.	<input type="checkbox"/>	<input type="checkbox"/>	<input type="checkbox"/>
۴) در شب هوا روشن باشد.	<input type="checkbox"/>	<input type="checkbox"/>	<input type="checkbox"/>
۵) فردا خورشید طلوع نکند.	<input type="checkbox"/>	<input type="checkbox"/>	<input type="checkbox"/>

۶ جدول زیر تعداد درختان باغ پدر بزرگ سحر را نشان می دهد. با توجه به آن نمودارها را کامل کنید.

درخت	سیب	گلابی	گیلاس	انار
تعداد	۱۵	۱۰	۲۰	۵



با توجه به نموداری که رسم کردید کدام درختها به صورت مساوی در باغ وجود دارد؟

علوم

۱) درستی و نادرستی هر عبارت را مشخص کنید.

- الف) بچه قورباغهها در خشکی زندگی می کنند.
- ب) نوعی وزغ وجود دارد که پاهایش برآمدگی شیبه بیل کوچک دارد.
- پ) بدن دلفینها پولک ندارد.

۲) کدام گزینه عبارت زیر را به درستی کامل نمی کند؟

ماهیها

- ۱) برخلاف دوزیستان بالغ، آبشش دارند.
- ۲) برخلاف نوزاد دوزیستان، از هوای محلول در آب استفاده می کنند.
- ۳) همانند دوزیستان در آب تخم گذاری می کنند.
- ۴) همانند نوزاد دوزیستان، دست و پا ندارند.



۳ تفاوت‌ها و شباهت‌های کوسه و نهنگ را بیان کنید.

.....
.....



۴ پولک دو جانور زیر با هم چه فرقی دارد؟ چرا؟

فارسی

۱ کلمات هم خانواده را به هم وصل کنید.

- اصوات
- موج
- عروج
- آرام

- معراج
- مواج
- صوت
- رام

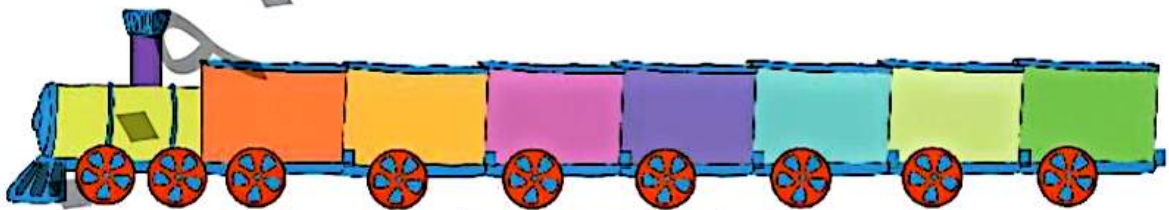
۲ از میان کلمات زیر، کلمات غلط را پیدا کنید و صحیح آن را بنویسید.

قوطة ، مثل ، عفق ، ذلال ، ساحل ، ماصه ،

.....

۳ کلمات زیر را به ترتیب حروف الفبا مرتب کنید.

غوطه - لفق - صورت - موج - مهربان - دل‌گشا - ساحل ،



مطالعات اجتماعی


۱ الف کدام نهاد برای خانه‌ها نشانی تعیین می‌کند؟

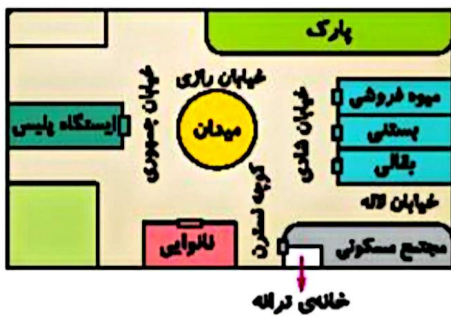
.....
.....

ب) آیا تا به حال به پلاک‌های کوچه یا خیابان خود دقت کرده‌اید؟ این پلاک‌ها به چه ترتیبی کنار هم قرار می‌گیرند؟

.....

۳





با توجه به تصویر، در جاهای خالی کلمه‌های مناسب بنویسید.

- الف) ترانه می‌تواند از مسیر به میوه فروشی برود.
 ب) ایستگاه پلیس در خیابان قرار دارد.
 پ) نانوايي در کنار کوچه‌ی قرار دارد.
 ت) بقالی در تقاطع و قرار دارد.

الف) کدام گزینه نشانی دقیق خانه را نشان می‌دهد؟

- ۱) نام شهر - نام محله - شماره‌ی خانه
 ۲) نام شهر - نام محله - نام خیابان - نام کوچه - پلاک
 ۳) نام خیابان - نام کوچه - شماره‌ی خانه
 ۴) نام محله - نام کوچه - پلاک

ب) علت گم شدن یک فرد چه چیزی می‌تواند باشد؟ هنگام گم شدن به چه کسی مراجعه می‌کنیم؟

۱) نبودن بزرگ‌ترها - پستچی
 ۲) بی‌نظمی - پلیس

۳) نداشتن خانه - مأمور شهرداری
 ۴) نداشتن آدرس - پلیس

هدیه‌های آسمان - قرآن

با توجه به فرمایش امام صادق (ع)، چند مورد از نشانه‌های مؤمنان را نام ببرید.

۱) امام جعفر صادق (ع)، فرزند امام
 ۲) امام جعفر صادق (ع)، فرزند امام
 ۳) امام جعفر صادق (ع)، فرزند امام
 ۴) امام جعفر صادق (ع)، فرزند امام

به خاک سپرده شده است.

(ع) است و در قبرستان

نام سه نفر از امامان را بنویسید که در قبرستان بقیع دفن شده‌اند.

ترتیب حروف الفبا	جدول داده‌ها و نمودارهای آماری
آشنایی با آدرس و نشانی	احتمال
تشخیص نشانی از روی نقشه	شناخت جانوران مهره‌دار (دوزیستان، ماهی‌ها، خزندگان، پستانداران)
آشنایی با امام ششم	کلمات هم‌خانواده

شاخص‌ها	خوبی خوب
	خوب
	قابل قبول
	نیاز به تلاش بیشتر



شماره‌ی

۲۹

ارمغان هفته - سوم دبستان

نام و نام خانوادگی: تاریخ: نام آموزگار:

ریاضی < فصل ۸: حذف حالت‌های نامطلوب
 علوم < درس ۱۲ و ۱۳: هر کدام جای خود (۱) و (۲)
 فارسی < درس ۱۶: اگر جنگل نباشد.

مطالعات اجتماعی < درس ۱: جهت‌های اصلی
 هدیه‌های آسمان < درس ۱۸: آینه‌ی سخنگو
 قرآن < انس با قرآن کریم (۱۴)

ریاضی

۱ کوچک‌ترین عدد فرد چهار رقمی بدون تکرار رقم‌ها را که مجموع رقم‌های آن ۱۰ باشد بنویسید.



۲ حاصل ضرب دو عدد ۵۶ و جمع آن دو ۱۵ است. این دو عدد کدامند؟



۳ اختلاف بزرگ‌ترین عدد چهاررقمی با کدام عدد برابر با ۲۳۵۷ است؟

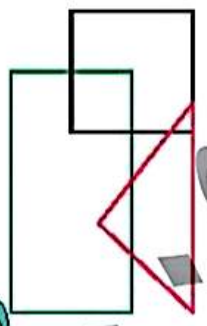


۴ با رقم‌های ۰، ۶، ۸، ۴ و ۳ چند عدد چهاررقمی می‌توان نوشت که رقم دهگان آن ۴ باشد؟ (تکرار ارقام مجاز نیست).




۵ عددهای ۰ تا ۸ را با توجه به توضیحات داده شده را در جای خود قرار دهید.

- (الف) در مثلث فقط عددهای زوج است.
- (ب) عدد ۵ هم در مربع و هم در مستطیل است.
- (پ) عدد ۱ و ۳ فقط در مستطیل هستند.
- (ت) عدد ۲ هم در مربع و هم در مثلث است.
- (ث) عدد ۴ هم در مستطیل و هم در مثلث است.
- (ج) عدد ۷ فقط در مربع است.



علوم

۱ جانوران مهره‌دار را آبی و بی‌مهره را قرمز کنید.



۲ خزندگان روی تخم‌های خود نمی‌خوابند ولی پرندگان روی تخم‌های خود می‌خوابند، بنابراین:

۱) تخم‌های پرندگان در برابر عوامل خطرناک محیطی مقاوم‌تر است.

۲) تخم‌های پرندگان نسبت به خزندگان بزرگ‌ترند و اندوخته‌ی غذایی بیش‌تری دارند.

۳) تخم‌های خزندگان نسبت به پرندگان زودتر به جنین تبدیل می‌شوند.

۴) تخم‌های پرندگان باید گرم نگه داشته شوند.

۳ تحقیق کرده و بنویسید.

الف) پستانداری تخم‌گذار است:

ب) پستانداری پرنده است:

پ) پستانداری شناگر است:

ت) پستانداری خزنده است:

۴ هر پا مربوط به کدام پرنده است؟ (عکس پرنده را از برجسب‌ها ببرید و در کنار پاهایش بچسبانید.) حالا از روی پای آن پرنده بگویید چه مهارتی دارد.

--	--	--	--



۵ حیوانات ما قبل تاریخ بنام دایناسور در کدام گروه جانوران مهره‌دار قرار می‌گیرند؟ دلیل این انتخابتان چیست؟

فارسی

۱ معنی کلمات زیر را بنویسید.

	حفظ
	زوزه

	حاشیه
	غزش



با توجه به مثال جاهای خالی را کامل کنید.

خاک نمناک، یعنی خاکی که نم دارد.

الف) نگاه غمناک، یعنی

ب) زخم دردناک، یعنی

پ) ، یعنی حادثه‌ای که خطر دارد.

با توجه به درس ، اگر جنگل نباشد، کلماتی که نشانه‌های زیر را دارند را پیدا کنید و بنویسید.

ص	غ	ذ

جدول را کامل کنید.

مادر سُست.	مادر چه چیز را	؟	مادر لباس‌ها را
فاطمه	فاطمه چه چیز را نوشت؟	؟	
نقاشی کرد.	علی چه چیز را	؟	نقاشی کرد.

این داستان را ادامه دهید. (۳ خط)

در جنگل سرسبز صدای باد در میان برگ‌ها پیچیده بود و صدای

مطالعات اجتماعی

با توجه به تصویر، هر کدام در چه جهتی قرار دارند؟

دریای خزر

حرم امام رضا (ع)

خلیج فارس

استان ایلام



پاسخ کوتاه دهید.

الف) طلوع خورشید از سمت است.

ب) غروب خورشید از سمت است.

پ) چهار جهت اصلی: شمال،، شرق و است.

هدیه های آسمان - قرآن

کدام یک از کارهای زیر نشان دهنده ی یک فرد منظم و مرتب است؟ با علامت مشخص کنید.



کار

امام علی (ع) چرا از مسلمانان می خواهد که قرآن را فرا بگیرند؟

- بند نویسی
- جهت های جغرافیایی
- شناخت نظم
- خوبی های قرآن و تلاوت آن

- راهبرد حذف حالت های نامطلوب
- آشنایی با چاقوران مهره دار و دسته بندی آنها
- معنی کلمات
- واژه شناسی
- شناخت مفعول

شاخص ها

- خیلی خوب
- خوب
- قابل قبول
- نیاز به تلاش بیشتر