



ارمغان هفته - سوم دبستان

نام و نام خانوادگی: تاریخ: نام آموزگار:

ریاضی < فصل ۷: حدس و آزمایش، استوانه و مخروط مطالعات اجتماعی < درس ۱۹: مکان‌های مدرسه را بشناسیم.
علوم < درس ۱۱ و ۱۲: بکارید و ببینید، هر کدام جای خود (۱) هدیه‌های آسمان < درس ۱۶: داناترین مردم
فارسی < درس ۱۵: دریا قرآن < انس با قرآن کریم ۱۲

ریاضی

۱ ۵ برابر عددی به علاوه ۳ می‌شود ۴۸، آن عدد چیست؟

.....
.....

۲ ۴ برابر شعاع دایره‌ای ۱۶ سانتی‌متر است. قطر دایره چند سانتی‌متر است؟

.....
.....

۳ نام سه وسیله‌ی استوانه‌ای شکل را بنویسید.

.....
.....

۴ مسئله‌های زیر را با استفاده از راهبرد حدس و آزمایش حل کنید.

الف) عددی را نصف کردیم سپس حاصل را با ۴ جمع کردیم و جواب ۱۲ شد. آن عدد کدام است؟


.....
.....

ب) اندازه‌ی محیط یک مستطیل ۱۲ سانتی‌متر است. اگر عرض مستطیل نصف طول آن باشد، اندازه‌ی عرض آن چقدر است؟


.....
.....

پ) عددی را بر ۸ تقسیم کردیم و حاصل را در خودش ضرب کردیم پاسخ ۹ شد. عدد مورد نظر چند است؟

.....
.....



بهزاد می خواهد برای تولد برادرش یک کلاه رنگارنگ درست کند. او با برش زدن کدام یک از اشکال زیر می تواند کلاه را بسازد؟



علوم

نام و نام خانوادگی: تاریخ: نام آموزگار:

ریاضی < فصل ۷: جدول داده‌ها، نمودارهای آماری و احتمال مطالعات اجتماعی < درس ۲۰: خانه شما کجاست؟
 علوم < درس ۱۲ و ۱۳: هر کدام جای خود (۱) و (۲) هدیه‌های آسمان < درس ۱۷: خواب شیرین
 فارسی < درس ۱۵ و ۱۶: دریا - اگر جنگل نباشد. قرآن < انس با قرآن کریم (۱۳)

ریاضی

۱ در یک کیسه ۷ مهره‌ی آبی و ۵ مهره‌ی قرمز وجود دارد؟

الف) چه کسری از مهره‌ها آبی هستند؟

ب) چه کسری از مهره‌ها قرمز هستند؟

پ) احتمال بیرون آمدن کدام رنگ با چشم بسته بیش‌تر است؟

۲ جدول زیر مربوط به داده‌های یک گل‌فروشی می‌باشد. صاحب مغازه تعداد گل‌هایی را که در یک هفته فروخته است را در این جدول یادداشت کرده است.


نوع گل	مریم	یاس	ارکیده	رز
تعداد	۲۰	۱۰	۳۰	۴۰

الف) چه کسری از گل‌های فروخته شده مریم می‌باشد؟

ب) کدام گل‌ها بیش‌تر فروخته شده‌اند؟

پ) نمودار دایره‌ای داده‌های این مسئله را رسم کنید.

۳ در کدام کیسه احتمال خارج شدن رنگ قرمز بیش‌تر است؟ دلیل انتخاب خود را بنویسید.



۴ تعداد شیرینی‌های یک شیرینی‌فروشی به صورت زیر می‌باشد. برای مقایسه‌ی تعداد شیرینی‌ها شما چه نموداری را پیشنهاد می‌کنید؟ آن را رسم کنید.

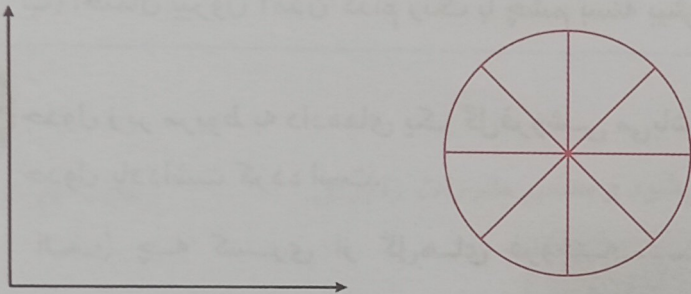
نوع شیرینی	تعداد
خامه‌ای	
دانمارکی	
باقلوا	
ناپلثونی	

جواب درست را با مشخص کنید.

جمله	به طور حتم اتفاق می افتد	احتمال دارد اتفاق بیافتد	به طور حتم اتفاق نمی افتد
(۱) به دنیا آمدن یک انسان با ۷ پا	<input type="checkbox"/>	<input type="checkbox"/>	<input type="checkbox"/>
(۲) اگر شب دیر بخوابیم صبح دیر بیدار می شویم.	<input type="checkbox"/>	<input type="checkbox"/>	<input type="checkbox"/>
(۳) اگر باران بیارد زمین خیس می شود.	<input type="checkbox"/>	<input type="checkbox"/>	<input type="checkbox"/>
(۴) در شب هوا روشن باشد.	<input type="checkbox"/>	<input type="checkbox"/>	<input type="checkbox"/>
(۵) فردا خورشید طلوع نکند.	<input type="checkbox"/>	<input type="checkbox"/>	<input type="checkbox"/>

جدول زیر تعداد درختان باغ پدر بزرگ سحر را نشان می دهد. با توجه به آن نمودارها را کامل کنید.

درخت	سیب	گلابی	گیلاس	انار
تعداد	۱۵	۱۰	۱۰	۵



با توجه به نموداری که رسم کردید کدام درختها به صورت مساوی در باغ وجود دارد؟