

ارمغان هفته - سوم دبستان

شماره‌ی

۳۰

نام و نام خانوادگی: تاریخ: نام آموزگار:

ریاضی < فصل ۸: ضرب چند رقمی و ضرب مضارب ۱۰
 علوم < درس ۱۳ و ۱۴: هر کدام جای خود (۲)، از گذشته تا آینده هدیه‌های آسمان < درس ۱۹: گندم از گندم بروید.
 فارسی < درس ۱۷: چشم‌های آسمان
 قرآن < فصل ۳: انس با قرآن کریم (۱۵)
 مطالعات اجتماعی < درس ۲۲: پست

ریاضی

۱ حاصل عبارت‌های زیر را به دست آورید.

الف) $۲۰ \times ۶۰۰ = ۱۲۰۰۰$
 ب) $۳۰ \times ۴۰۰ = ۱۲۰۰۰$
 پ) $۵۰ \times ۷۰۰ = ۳۵۰۰۰$

ت) $۲۰۰ \times ۸۰ = ۱۶۰۰۰$
 ث) $۴۰ \times ۴۰ = ۱۶۰۰$
 ج) $۷۰ \times ۳۰ = ۲۱۰۰$

۲ حاصل عبارات زیر را به دست آورید.

$$\begin{array}{r} ۴۳ \overline{) ۵} \\ - ۴۰ \\ \hline ۳ \end{array}$$

$$\begin{array}{r} ۸۷۶ \\ \times ۵ \\ \hline ۴۳۸۰ \\ + ۴۳۵۰ \\ + ۳۰۰ \\ \hline ۴۳۸۰ \end{array}$$

۸۰۰ + ۷۰ + ۶

$$\begin{array}{r} ۸۳ \overline{) ۹} \\ - ۸۱ \\ \hline ۲ \end{array}$$

$$\begin{array}{r} ۲۹۴ \\ \times ۸ \\ \hline ۱۶۰۰ \\ ۷۲۰ \\ ۳۲ \\ \hline ۲۳۵۲ \end{array}$$

۲۰۰ + ۹۰ + ۴

۳ یک ساختمان ۷ طبقه دارد و در هر طبقه ۵ واحد آپارتمان وجود دارد. اگر در هر واحد ۲ نفر زندگی کنند، در این ساختمان چند نفر زندگی می‌کنند؟

۷۰ نفر زندگی می‌کنند. $۳۵ \times ۲ = ۷۰$ تعداد واحدها $۷ \times ۵ = ۳۵$

۴ جاهای خالی را با استفاده از اعداد درون جعبه کامل کنید.


۱۰	۱۲	۲۰	۳	۷۵۰۰	۱۰۰
----	----	----	---	------	-----

۱۲۰ یعنی: ۱۲ تا ده‌تایی $۲۲ \times ۱۰ = ۲۲۰$
 $۷۵ \times ۱۰۰ = ۷۵۰۰$
 $۱۰۰ \times ۸ = ۸۰۰$
 $۲۰ \times ۳۰ = ۶۰۰$
 $۳۰۰ \times ۳ = ۹۰۰$

۵ درست یا نادرست بودن گزینه‌ها را با چسباندن یا مربوطه مشخص کنید.



پ) $۱ \times ۷ \times ۸۰ = ۵۶۰$



الف) $۳ \times ۶ \times ۲ = ۵۰$



ت) $۹ \times ۴ \times ۲ = ۶۳$



ب) $۲ \times ۵ \times ۰ = ۰$

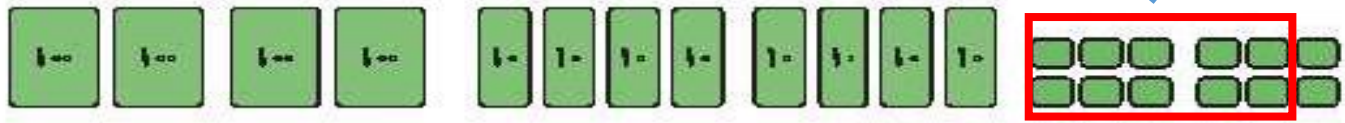




۶ برای شکل زیر ضرب بنویسید.

$$2 \times 246 = 492$$

۱۰



علوم

۱ برای هر کدام ۲ راه نگهداری بنویسید.



مربا کردن	(۱)	منجمد کردن	(۱)	خشک کردن	(۱)
منجمد کردن	(۲)	کنسرو کردن	(۲)	کمپوت کردن	(۲)

۲ به سوالات زیر پاسخ دهید.

- الف) دو پرنده که مهارت پرواز ندارند نام ببرید. شترمرغ - مرغ
- ب) دو پرنده که مهارت شنا کردن دارند نام ببرید. اردک - پنگوئن
- پ) دو پرنده که مهارت شکار کردن دارند نام ببرید. عقاب - شاهین



در هر ردیف جانوری که با بقیه متفاوت است را مشخص کنید.



(الف)



(ب)



(ج)



(د)





فارسی

۱ کلمات هم معنی را هم رنگ کنید.

غرق شدن	احوال پرسی	عظیم	اشتیاق
شور و علاقه	فرورفتن در آب	پرسیدن حال کسی	بزرگ

۲ با حروف درهم ریخته کلمه بسازید.

ح ز ل ن و	م خ ل	خ م د ت	ن م ع ت
حلزون	ملخ	خدمت	نعمت

۳ کلمات غلط را از میان کلمات زیر پیدا کنید و صحیح آن‌ها را بنویسید.

چقدر ، عظیم ، سراغ ، محافظت ، زحمت ، سوت زنان ،

چقدر محافظت سوت زنان



جمله‌های به هم ریخته‌ی زیر را مرتب کرده و بنویسید.

الف) هرگز - همیشه - نمی‌خواهد - نورافشانی - است - مشغول - و - خورشید - .

خورشید هرگز نمی‌خواهد و همیشه مشغول نور افشانی است.

ب) چقدر - گسترده - و - آسمان - وسیع - بود - .

آسمان چقدر گسترده و وسیع بود.



جمله‌های ناتمام را کامل کنید.

الف) ستاره‌ها خوابیده بودند و ماه برایشان لالایی می‌خواند.

ب) خورشید گرم با مهربانی برای گل‌ها نورافشانی می‌کرد.

پ) دریای آرام با صدای آرامی ساحل را از خواب بیدار کرد.

مطالعات اجتماعی



کلمه مناسب را انتخاب کنید.

الف) هر مأمور پست، نلحه‌های (یک شهر - یک منطقه) را به دست مردم می‌رساند.

ب) نامه‌های (پستی - رایانه‌ای) در زمان بسیار کوتاهی ارسال می‌شود.

پ) بر روی پاکت نامه باید (کد پستی - شماره تلفن) نوشته شود.



بر روی پاکت زیر نشانی فرستنده و گیرنده و محل تمبر را مشخص کنید.



تمبر

نشانی فرستنده:

نشانی گیرنده:

کار اداره‌ی پست خدمت است یا تولید؟



خدمت

هدیه‌های آسمان - قرآن

پس از این دنیا وارد جهانی می‌شویم که به آن جهان آخرت می‌گویند.



۲ مفهوم ضرب المثل «گندم از گندم بروید، جو ز جو، چیست؟»

هر کار خوب یا بدی انجام دهیم، نتیجه ی آن به خودمان بر می گردد.

۳ کلام «الدُّنْيَا مَزْرَعَةٌ الْآخِرَةُ، به چه معناست؟»

دنیا مزرعه ی آخرت است.





۴ خداوند با فرستادن کدام سوره خبر پیروزی سپاه حضرت علی (ع) را به پیامبر (ص) داد؟






(۱) قدر

(۲) عادیات

(۳) قارعه

(۴) حمد

	◀ کلمسازی و جملهسازی
	◀ آشنایی با نامه و وقایف اداره پست
	◀ آشنایی با آخرت
	◀ داستان های قرآنی

	◀ ضرب مضارب ۱۰
	◀ ضرب چند رقمی در یک رقمی
	◀ روش های نگهداری طولانی مدت مواد غذایی
	◀ شناخت و دستبندی جانوران مهره دار
	◀ کلمات هم معنی

شاخص ها

-  خیلی خوب
-  خوب
-  قابل قبول
-  نیاز به تلاش بیشتر



فصل هشتم

ضرب عددها

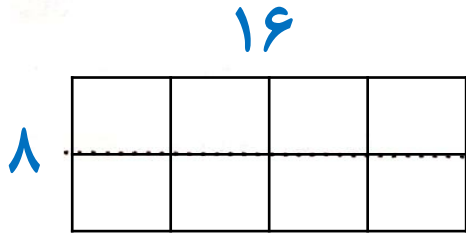
کتاب کار ریاضی

۲ درستی و نادرستی هر عبارت را مشخص کن.

الف: حاصل ضرب ۸۴۴ در ۷ می شود ۵۷۸۶.

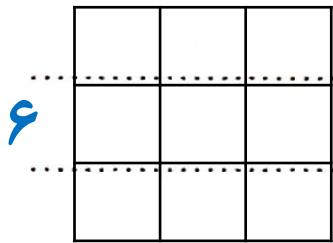
ب: حاصل تقریبی ضرب ۳۷۱×۷۹ می شود ۲۵۹۰۰.

۳ سطح مستطیلی را با ۸ مربع ۴ سانتی متری پوشانده ایم. مساحت این مستطیل چه قدر است؟



$$\text{مساحت} = ۱۶ \times ۸ = ۱۲۸$$

۴ سطح مربعی را با ۹ مربع به ضلع ۲ سانتی متر پوشانده ایم. محیط این شکل چند سانتی متر است؟



$$\text{مساحت} = ۲۴ = ۴ \times ۶$$

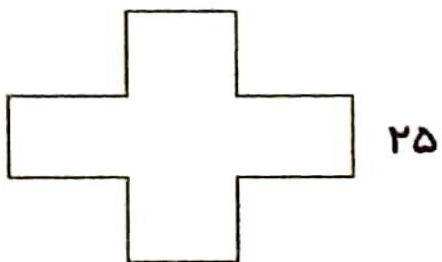
۵ محیط مربعی ۸۰ سانتی متر است. مساحت آن چند سانتی متر مربع است؟

$$\text{مساحت مربع} = ۲۰ \times ۲۰ = ۴۰۰ \quad \text{مساحت مربع} = ۸۰ = ۴ \times \boxed{۲۰}$$

ضلع مربع

۶ عرض زمین مستطیل شکلی ۵ متر و طول آن ۳ برابر عرضش است. مساحت آن چند سانتی متر مربع است؟

$$\text{طول} = ۱۵ = ۳ \times ۵ \quad \text{مساحت مستطیل} = ۷۵ = ۱۵ \times ۵$$



۷ طول هر ضلع این شکل ۲۵ میلی‌متر است. محیط این شکل چند میلی‌متر است؟

$$۱۲ \times ۲۵ = ۳۰۰ \text{ میلی‌متر}$$

$$\begin{array}{r} ۱۲۵ \\ \times ۹ \\ \hline ۹۰۰ \\ + ۱۸۰ \\ \hline ۱۱۲۵ \end{array}$$

۱۰۰ + ۲۰ + ۵

تعداد کل مدادها

۸ ۹ جعبه مداد داریم. هر جعبه ۱۲۵ مداد دارد. تعداد کل مدادها چقدر است؟

۹ آرمین هر هفته ۳۲۵ تومان از پول خود را پس‌انداز می‌کند. حساب کن آرمین بعد از یک ماه تقریباً چند تومان پس‌انداز کرده است؟

۴ هفته

$$۳۰۰ \times ۴ = ۱۲۰۰ \text{ تومان}$$



۱۰ قلب انسان به طور متوسط در هر دقیقه ۷۰ بار می‌تپد. به طور متوسط در یک ساعت چند بار می‌تپد؟

$$60 \times 70 = 4200$$

۱۱ در هر یک از ۱۰ قفسه مغازه کفش فروشی جانوران، ۱۲ جفت کفش قرار داشت. پنج تا هزارپا اولین مشتری‌های مغازه

بودند. سه تا از آن‌ها هر کدام ۳۰ جفت کفش خریدند و دوتای دیگر هر کدام ۵ جفت کفش خریدند. چند جفت کفش در

$$2 \times 5 = 10$$

$$3 \times 30 = 90$$

قفسه‌ها مانده است؟

تعداد کل کفش‌ها $10 \times 12 = 120$

تعداد کفش‌های مانده در قفسه‌ها $120 - 100 = 20$ تعداد کفش‌های خرید شده $10 + 90 = 100$

۱۲ هر دانش‌آموز برای مدرسه به ۸ دفترچه نیاز دارد. ۱۱۵ دانش‌آموز به چند دفترچه نیاز دارند؟

$$\begin{array}{r} 115 \\ \times 8 \\ \hline 800 \\ 80 \\ + 40 \\ \hline 920 \end{array}$$

$$910 \text{ (۴)}$$

$$920 \text{ (۳)}$$

$$930 \text{ (۲)}$$

$$975 \text{ (۱)}$$