

مرور فصل


فرهنگ نوشتن

۱- با توجه به ضرب و حاصل آن $۲۳ \times ۷ = ۱۶۱$ ، توضیح دهید که حاصل ضرب زیر چگونه به دست می‌آید.

$$\begin{array}{r} ۲۳۰۰۰ \\ \times ۷۰ \\ \hline \end{array}$$

۲- توضیح دهید باقی مانده‌ی تقسیم روبه‌رو چگونه به دست می‌آید.

$$\begin{array}{r} ۳۷ \overline{) ۵} \\ ۷ \end{array}$$



فرهنگ نوشتن

۱- با توجه به ضرب و حاصل آن $۲۳ \times ۷ = ۱۶۱$ ، توضیح دهید که حاصل ضرب زیر چگونه به دست می‌آید.

$$\begin{array}{r} ۲۳۰۰۰ \\ \times ۷۰ \\ \hline ۱۶۱۰۰۰۰ \end{array}$$

صفرها زیر تور عروس می‌روند و ما آنها را نمی‌بینیم. اعداد را در هم ضرب می‌کنیم در آخر تمام صفرها را جلوی جواب می‌گذاریم.

۲- توضیح دهید باقی‌مانده‌ی تقسیم روبه‌رو چگونه به دست می‌آید.

$$\begin{array}{r} ۳۷ \overline{) ۵} \\ -۳۵ \\ \hline ۲ \end{array}$$



باید دسته‌های ۵ تایی درست کنیم. ۷ دسته درست می‌شود و ۲ تا مربع بنفش رنگ باقی می‌مانند.

تمرین



۱- می خواهیم ۶ بسته ی ۱۲ تایی مداد را بین ۹ نفر به طور مساوی تقسیم کنیم. به هر نفر چند مداد می رسد؟



۲- اگر وزن هر ۵ نخود به طور تقریبی یک گرم باشد، یک کیلوگرم نخود چند تا نخود است؟

۳- در یک کارخانه ی پارچه بافی ساعتی ۱۲۳۵ متر پارچه بافته می شود. در این کارخانه در ۸ ساعت چند متر پارچه بافته می شود؟

تمرین



۱- می‌خواهیم ۶ بسته‌ی ۱۲ تایی مداد را بین ۹ نفر به‌طور مساوی تقسیم کنیم. به هر نفر چند مداد می‌رسد؟

$$\begin{array}{r}
 12 \\
 \times 6 \\
 \hline
 72
 \end{array}$$

۶

$$\begin{array}{r}
 9 \\
 \hline
 8 \\
 \hline
 72 \\
 - 72 \\
 \hline
 0
 \end{array}$$

به هر نفر ۸ مداد می‌رسد

۲- اگر وزن هر ۵ نخود به‌طور تقریبی یک گرم باشد، یک کیلوگرم نخود چند تا نخود است؟

یک کیلوگرم ۱۰۰۰ گرم است. بنابراین در یک کیلوگرم نخود تقریباً:


$$1000 \times 5 = 5000 \text{ نخود است.}$$

۳- در یک کارخانه‌ی پارچه‌بافی ساعتی ۱۲۳۵ متر پارچه بافته می‌شود. در این کارخانه در ۸ ساعت چند متر پارچه بافته می‌شود؟


$$\begin{array}{r}
 1235 \\
 \times 8 \\
 \hline
 8000 \\
 1600 \\
 240 \\
 + 40 \\
 \hline
 9880
 \end{array}$$

در هشت ساعت در این کارخانه ۹۸۸۰ متر پارچه بافته می‌شود.

۴- اتومبیلی در هر ساعت ۸۰ کیلومتر را طی می کند. اگر به همین ترتیب حرکت کند، در ۳ ساعت چند کیلومتر را می پیماید؟
۵۰۰ کیلومتر را در کمتر از ۶ ساعت طی می کند یا بیشتر از آن؟




۴- اتومبیلی در هر ساعت ۸۰ کیلومتر را طی می کند. اگر به همین ترتیب حرکت کند، در ۳ ساعت چند کیلومتر را می پیماید؟ **۲۴۰ کیلومتر**
۵۰۰ کیلومتر را در کمتر از ۶ ساعت طی می کند یا بیشتر از آن؟ **در ۶ ساعت ۴۸۰ کیلومتر می رود پس ۵۰۰ کیلومتر را**
در بیش از ۶ ساعت طی می کند.



ساعت	۱	۲	۳	۴	۵	۶	۷
کیلومتر	۸۰	۱۶۰	۲۴۰	۳۲۰	۴۰۰	۴۸۰	۵۶۰


۵- زمینی به شکل مربع داریم که هر ضلع آن ۱۰۵۰ متر است. می‌خواهیم دور این زمین را دوردیف سیم خاردار بکشیم.
به چند متر سیم خاردار نیاز داریم؟




۵- زمینی به شکل مربع داریم که هر ضلع آن ۱۰۵۰ متر است. می‌خواهیم دور این زمین را دوردیف سیم خاردار بکشیم.

به چند متر سیم خاردار نیاز داریم؟ **به ۴۲۰۰ متر سیم نیاز داریم**

$$\begin{array}{r} 1050 \\ \times 4 \\ \hline 4200 \end{array}$$



۶- یک نقاش در اولین روز کارش ۸ متر مربع از ساختمانی را رنگ کرد. صاحب ساختمان از او خواست که هر روز ۲ برابر روز قبل رنگ کند.



روز دوم چند مترمربع را باید رنگ کند؟

روز سوم چقدر؟

روز چهارم چقدر؟

روز پنجم چقدر؟

۶- یک نقاش در اولین روز کارش ۸ متر مربع از ساختمانی را رنگ کرد. صاحب ساختمان از او خواست که هر روز ۲ برابر روز قبل رنگ کند.



روز دوم چند مترمربع را باید رنگ کند؟ **۱۶ متر مربع**

روز سوم چقدر؟ **۳۲ متر مربع**

روز چهارم چقدر؟ **۶۴ متر مربع**

روز پنجم چقدر؟ **۱۲۸ متر مربع**

روز	۱	۲	۳	۴	۵
رنگ	۸	۱۶	۳۲	۶۴	۱۲۸