

# نمونه سوال ریاضی



۴) جاهای خالی را کامل کنید.

$$\text{الف) } (5 \times 8) - (4 \times 7) = \dots - \dots = \dots$$

$$\text{ب) } (9 \div 3) + (5 \times 4) = \dots + \dots = \dots$$

$$\text{پ) } \dots \times 8100 = 0$$

$$\text{ت) } 300 \times \dots = 300$$

$$\text{ث) } 100 \times 3 - 10 \times 3 = \dots - \dots = \dots$$

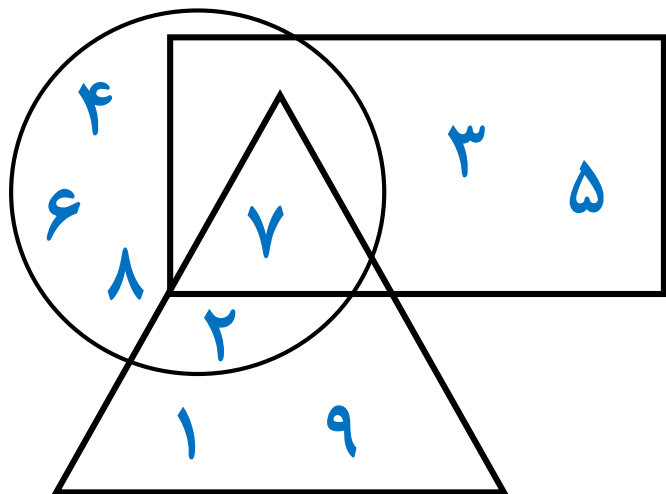
$$\text{ج) } 2 \times 40 \times 200 = \dots$$

$$\text{چ) } 5 \times 8 \times 0 = \dots$$

$$\text{ح) } 12 \times 800 = 12 \times \dots \times 100$$

$$\text{خ) } \dots \times 100 = 1900$$

۵) عددهای ۱ تا ۹ را با توجه به توضیحات داده شده در جای خود قرار دهید.



الف) عددهای زوج در دایره هستند.

ب) عدد ۲ هم در دایره و هم در مثلث است.

پ) اعداد فرد در مستطیل هستند.


ت) عدد ۷ در هر سه شکل است.


ث) اعداد ۱ و ۹ در مثلث هستند.

۶) با رسم شکل حاصل ضرب ها را به دست آورید.

$$2 \times 35 = 70$$


$30 + 5$



$$2 \times 30 = 60$$



$$2 \times 5 = 10$$

$$3 \times 323 = 969$$

$300 + 20 + 3$


$$3 \times 300 = 900$$


$$3 \times 20 = 60$$


$$3 \times 3 = 9$$

$$2 \times 417 =$$