

ریاضی سوم ابتدایی
مرور فصل یک

۴۵- میوه فروشی هر کیلو سیب را ۵۰۰ تومان می خرد و ۶۰۰ تومان

می فروشد. سود آن را حساب کنید و با کامل کردن جدول به سوالات

پاسخ دهید.

الف) فروش ۳ کیلو سیب چند تومان سود دارد؟



ب) او باید چند کیلو سیب بفروشد تا بتواند یک کیلو سیب بخرد؟

میوه	۱	۲	۳	۴	۵
سود					

😊 خانم دارابی بهت افتخار می کنه.

۴۶- جاهای خالی را کامل کنید.


○ ۱۵		○ ۲۷		○ ۴۵
○	→ +۲۰	○	← -۵	○
○		○		○
○ ۱۳		○		○
○		○ ۱۲۰		○

○ ۴۱	○	○ ۷۵	○	○ ۱۰۶
		↓ -۸		
○	○ ۵۲	○	○ ۶۱	○

۴۷- جدول ساعت را کامل کنید.

زمان	۱۷	۱۸:۱۵		۲:۳۰		۲۲		۲۴
بعد از ظهر	۵		۷:۲۰		۹:۱۰		۱۱:۵۰	

۴۲ - الگوهای زیر را ادامه بده.



ریاضی سوم ابتدایی

مرور فصل یک

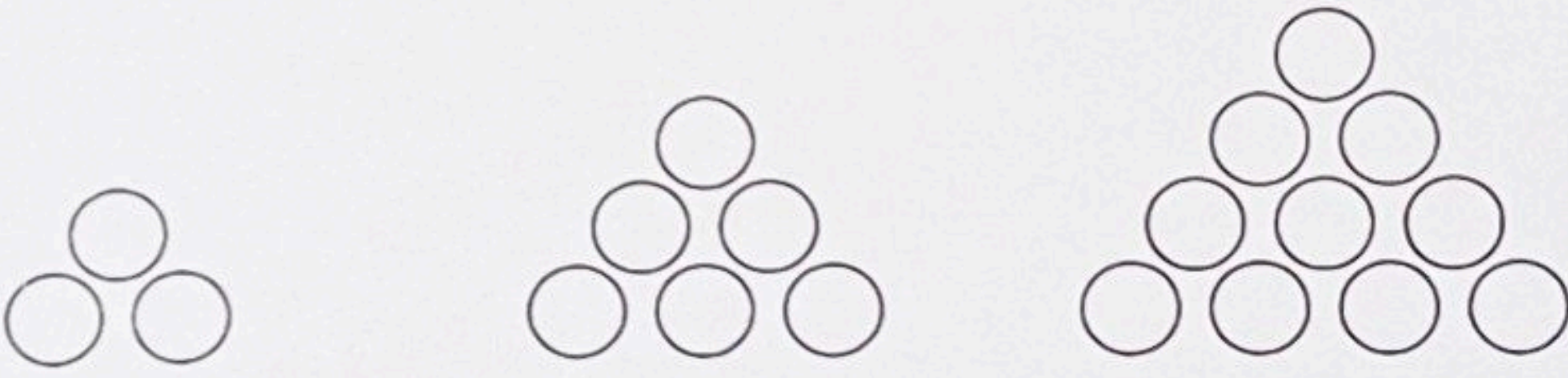
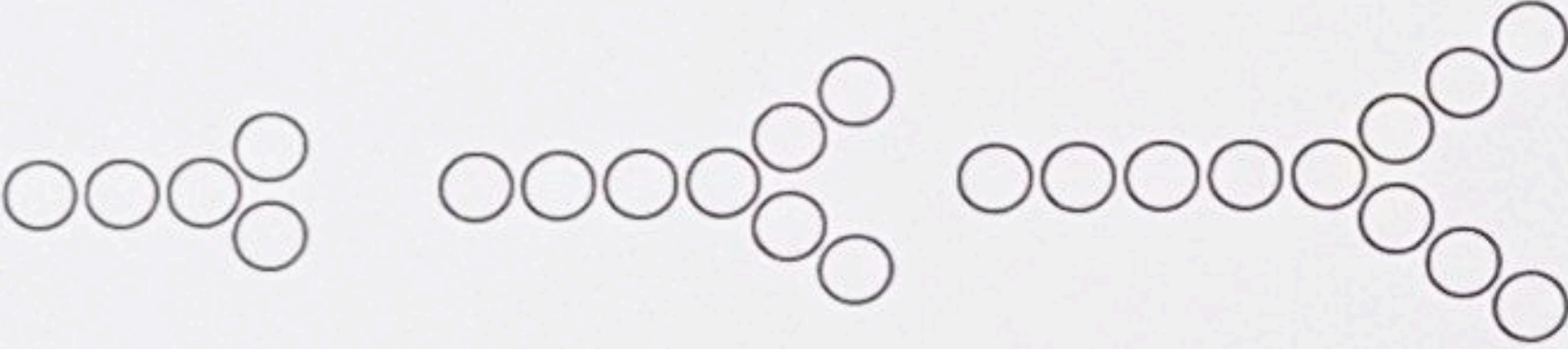
۱۵۰, ۲۰۰, ۲۵۰, □, □, □

۰, ۶, ۱۲, □, □, □

۱, ۴, ۹, ۱۶, □, □, □

۰, ۳, ۷, ۱۲, □, □, □

۴۳ - شکل بعدی هر الگو را بکشید.



۴۴ - امروز پنجشنبه اول آبان ماه است. تا آخر این ماه پنجشنبه ها چه روزهایی از ماه هستند؟

