

شماره‌ی

۲۴

ارمغان هفته - سوم دبستان

نام و نام خانوادگی: تاریخ: نام آموزگار:

ریاضی < فصل ۶: جمع و تفریق تکیکی
 علوم < درس ۱۱: بکارید و ببینید
 فارسی < درس ۱۴ و ۱۵: بوی سیب، حکایت خروس ایرانی قرآن < فصل ۳: انس با قرآن کریم (۱۱)
 مطالعات اجتماعی < درس ۱۸: خانه‌ها با هم تفاوت دارند.
 هدیه‌های آسمان < درس ۱۵: همسفر نشناس

ریاضی

عبارت جمعی را که شکل زیر نشان می‌دهد در جدول ارزش مکانی بنویسید.

هزارگان	صدگان	دهگان	یکان

+



حاصل جمع و تفریق‌های زیر را بدست آورید.

$$\begin{array}{r} 4000 \\ + 1287 \\ \hline \end{array}$$

$$\begin{array}{r} 5491 \\ + 2502 \\ \hline \end{array}$$

$$\begin{array}{r} 2940 \\ + 1417 \\ \hline \end{array}$$

$$\begin{array}{r} 6620 \\ + 4050 \\ \hline \end{array}$$

در جاهای خالی عدد مناسب بگذارید.

ه	ص	د	ی
.....	۴	۷
+	۳	۵
۵	۵	۸	۶

در یک کارگاه صنایع دستی، یک هنرمند ۴۳۵۱ ظرف را رنگ کرده است. اگر ۲۵۶۰ تای آن‌ها مربوط به ماه گذشته باشند او در این ماه چند ظرف رنگ کرده است؟


از دریاچه‌ای ۳۱۰۹ ماهی قزل‌آلا و ۲۳۴۵ ماهی کفال و ۹۰۸ ماهی کپور صید شده است. چند ماهی از این دریاچه صید شده است؟



عباس آقا زمینی به شکل مستطیل دارد. او می‌خواهد دور تا دور زمینش را با سیم خاردار ببندد تا کسی نتواند بدون اجازه وارد زمینش شود. اگر طول زمینش ۱۰ متر و عرض آن نصف طولش باشد، او چند متر سیم خاردار باید تهیه کند؟


$$(2 \times 9) + (2 \times 6)$$

عبارت روبه‌رو مربوط به محیط کدام شکل است؟ آن را رنگ بزنید.



علوم

با توجه به ریشه‌ی گیاه، گل و برگ مناسب برای این گیاه را انتخاب کرده و بچسبانید.



جدول زیر را کامل کنید.

نام گیاه	دانه	ریشه	ساقه	برگ	گل
کدو	دوقسمتی		نازک توپر		۴ یا ۵ و مضرب‌های آن
لوبیا		راست		پهن	
بادمجان	یک قسمتی		نازک توخالی		۳ یا ۶ و مضرب‌های آن
گندم		افشان		باریک و دراز	

تصویر زیر را با دقت نگاه کنید.



الف) نام گیاه چیست؟

ب) نوع برگ آن چگونه است؟

پ) نوع میوه‌ی آن چگونه است؟

ت) نوع دانه‌ی آن چگونه است؟

ث) یک گیاه دیگر مانند آن نام ببرید.



۴ من چیستم؟

- الف) گیاهی هستم که از پرچم من برای معطر کردن غذا استفاده می‌شود.
- ب) گیاهی هستم که برگ‌های باریک و درازی دارم ولی ساقه‌ی چوبی کلفتی دارم.
- پ) گیاهی هستم با دانه‌ی تک قسمتی که روغن من هم طرفدار زیادی دارد.
- ت) گیاهی هستم با گل زرد بزرگ که دانه‌ی من درون گلم می‌باشد و مصرف خوراکی دارد.

فارسی

۱ با توجه به متن درس «ایران آباد، کلماتی که نشانه‌های زیر را دارند را بنویسید.

ض ض	ط	ظ	ث

۲ هدف فرماندهی ایرانی از آوردن خروس در حکایت «خروس ایرانی، چه بود؟

.....

.....

۳ با توجه به متن «بوی سیب و یاس، به سؤالات زیر پاسخ کوتاه دهید»

- الف) پدربزرگ امید در آزادسازی کدام یک از شهرهای ایران دلاورانه جنگیده بود؟
- ب) روز آزادسازی «خرمشهر، چه روزی است؟
- پ) تصویر تابلویی که روی میز سر کوچه قرار داشت، چه بود؟
- ت) نام کوچه در داستان «بوی سیب، چه بود؟
- ث) نویسنده‌ی داستان «بوی سیب و یاس، چه کسی است؟

۴ درس چهاردهم را با دقت بخوانید و واژه‌های خواسته شده را پیدا کرده و بنویسید.

- الف) دو کلمه‌ی جمع: و
- ب) دو کلمه که در آخر «انه، دارند: و
- پ) دو کلمه که در آخر «گی، دارند: و
- ت) سه کلمه که ابتدای آن‌ها «هم، دارد: و و

مطالعات اجتماعی

۱ درست و نادرستی هر عبارت را مشخص کنید.

- الف) زهرا هنگام خروج از کلاس چند تکه زباله‌ای که دوستش جا گذاشته بود را در سطل زباله انداخت.
- ب) علی به دوستش که مریض شده بود و چند روز به مدرسه نیامده بود برای یادگیری بهتر دروس کمک نکرد.
- پ) بچه‌های کلاس به کمک یکدیگر کلاس را تمیز نگه می‌دارند.

۲ الف) کدامیک از بخش‌های مدرسه‌ی خود را دوست دارید؟

ب) آیا دوست دارید در آینده شغلی در مدرسه داشته باشید؟ به چه دلیل؟

۳ جاهای خالی را با دقت کامل کنید.

الف) مدرسه خلته‌ی ما است.

ب) مدرسه جای خواندن قرآن و نماز و است.





پ) کارکنان مدرسه با هم می‌کنند تا دانش‌آموزان درس بخوانند.






هدیه‌های آسمان - قرآن

۱ به چه دلیل امام سجاد (ع) به زین العابدین، معروف شده است؟

۲ آرامگاه امام سجاد (ع) در کدام شهر و کدام قبرستان قرار دارد؟

۳ یک دعا از امام سجاد (ع) که در صحیفه‌ی سجادیه آمده است را بنویسید.

	درک مطلب
	واژه‌شناسی
	مکان‌های مختلف و قوانین مدرسه
	آشنایی با امام چهارم

	جمع و تفریق تکنیکی
	مسائل جمع و تفریق
	محیط مستطیل
	دسته‌بندی گیاهان از نظر ریشه، دانه، برگ، ساقه و گل
	گیاهان مخروط‌دار

