



نام و نام خانوادگی

تاریخ

موضوع: فصل ششم (جمع و تفریق)

هدف: مرور فصل ششم (جمع و تفریق)

۱) مقایسه کنید.

$3416 < 3461$

$3006 > 2594$

$4035 \bigcirc 4305$

$450 + 230 < 690$

$850 - 150 \bigcirc 610 + 50$

$20 + 70 \bigcirc 1400 - 1310$

۶۸۰

۲) الف: با حذف یکان و دهگان عددها را به صورت تقریبی بنویسید.

ب: حاصل هر عبارت را با عددهای تقریبی به دست آورید.

ج: حاصل هر عبارت بین کدام دو عدد قرار می گیرد و به کدام نزدیک تر است.

✓  $7000$   $4268 + 3246$   $8000$   
 $4200 + 3200 = 7400$

✓  $4000$   $9864 - 5462$   $5000$   
 $9800 - 5400 = 4400$

$6997 - 3875$

$2365 + 4512$

۳) جمع و تفریق های زیر را به روش فرآیندی انجام دهید.

$$\begin{array}{r} 8764 \\ - 2634 \\ \hline \end{array}$$

$$\begin{array}{r} 6764 \\ - 634 \\ \hline \end{array}$$

$$\begin{array}{r} 6164 \\ - 34 \\ \hline \end{array}$$

$$\begin{array}{r} 6134 \\ - 4 \\ \hline \end{array}$$

6130

$$\begin{array}{r} 3923 \\ + 5064 \\ \hline \end{array}$$

$$\begin{array}{r} 7438 \\ - 6025 \\ \hline \end{array}$$

$$\begin{array}{r} 3201 \\ + 1357 \\ \hline \end{array}$$

۴) عددها را از کوچک به بزرگ مرتب کنید.


3010    3000    3030    3007

.....


1631    1306    1361    1316

.....






# نمونه سوال ریاضی



با رسم شکل حاصل ضرب را به دست آورید.

$$2 \times 417 = 834$$

$400 + 10 + 7$



$$2 \times 400 = 800$$

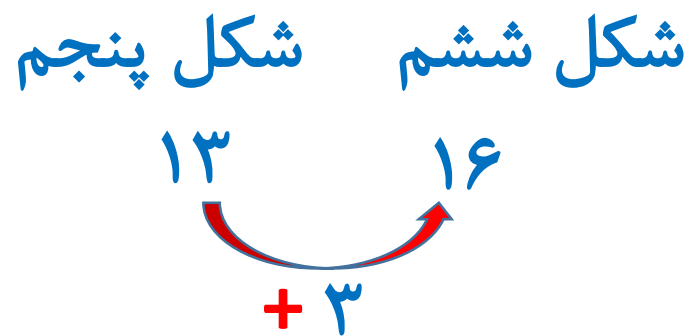
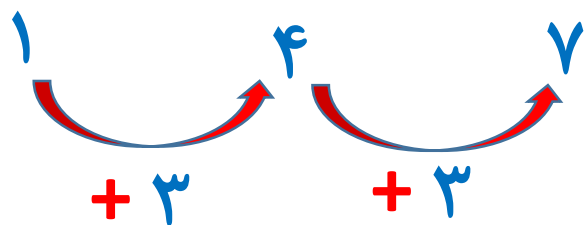


$$2 \times 10 = 20$$

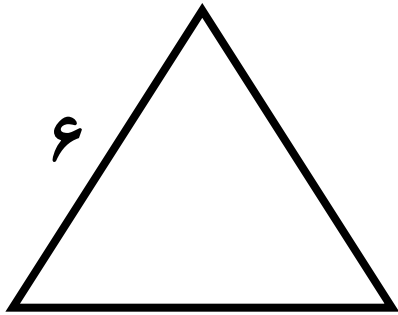


$$2 \times 7 = 14$$

اگر شکل پنجم این الگو از ۱۳ چوب کبریت ساخته شده باشد، شکل ششم این الگو از چند چوب کبریت درست می شود؟ ۱۶ چوب کبریت

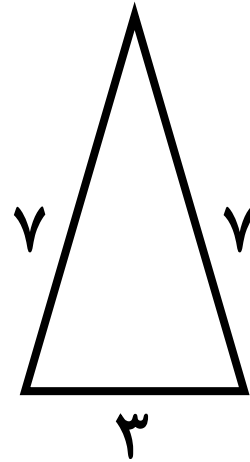


نام مثلث های زیر را بنویسید و محیط آن ها را به دست آورید.



مثلث متساوی الاضلاع

$$3 \times 6 = 18$$



مثلث متساوی الساقین

$$7 + 7 + 3 = 17$$